

1.



İsmail: Sakla samanı gelir zamanı.

Eda: Ak koyunun kara kuzusu da olur.

Mikail: Üzüm üzüme baka baka kararır.

Sema: Az söyle çok dinle.

Yukarıdaki öğrencilerden hangilerinin atasözlerinde zıt anlamlı sözcükler bir arada kullanılmıştır?

- A) Eda - Mikail      B) İsmail - Sema      C) Eda - Sema      D) İsmail- Eda

- 2.
- ★ ve ▲ sözcükleri arasında eş anlamlılık ilişkisi vardır.
  - ★ ve ■ sözcükleri arasında zıt anlamlılık ilişkisi vardır.

Buna göre aşağıdakilerden hangisinde sözcükler doğru sıralanmıştır?

	★	▲	■
A)	kirli	pak	temiz
B)	hızlı	süratli	yavaş
C)	ak	kara	beyaz
D)	ilk	son	önce

3. Aşağıdaki kutucuklarda bazı sözcükler verilmiştir.

ulus

beyaz

barış

doktor

duyuru

Talha, aşağıdaki cümlelerde altı çizili sözcüklerin eş anlamlılarını, kutucuklardaki sözcüklerle eşleştirmek istiyor.

- ◆ Pencereye ak bir güvercin kondu.
- ◆ Millet olarak birlik ve beraberlik içerisinde yaşıyoruz.
- ◆ Bugün gazetede iş ilanlarına baktım.
- ◆ Hakim Bey iki aile arasında sulh sağladı.

Talha'nın yaptığı eşleştirme sonucuna göre kutucuklardaki sözcüklerden hangisinin eş anlamlısı ile cümle kurulmamıştır?

- A) duyuru                      B) doktor                      C) barış                      D) ulus

4.

“ Parkta sevinç içinde koşan çocuklar, mis gibi kokan kırmızı gülleri tutup sert bir şekilde kopardılar. Çocuklar daha sonra gülleri kopardıklarına çok pişman oldular. Çünkü çiçek dalında güzeldir. ”

Bu metinde çocuklar hangi duyularını kullanmışlardır?

- A) koklama - işitme - görme                      B) tat alma - görme - koklama  
C) koklama - işitme - dokunma                      D) koklama - görme - dokunma

5. 1. için 2. şampiyon 3. olmalıyız 4. almak 5. kupayı
- Yukarıdaki numaralanmış sözcüklerle anlamlı ve kurallı cümle oluşturulduğunda sıralama nasıl olur?
- A) 2 - 4 - 1 - 5 - 3 B) 5 - 4 - 1 - 3 - 5 C) 5 - 4 - 1 - 2 - 3 D) 2 - 3 - 1 - 5 - 4

6. 
- Yukarıdaki yapbozun hangi parçasında soru işareti yanlış kullanılmıştır?
- A)  B)  C)  D) 

7. Barış'ın sahne almasına yarım saat kalmıştı ve kuliste heyecan içerisindeydi. Dışarıda, kendisini büyük bir kalabalığın coşku ile beklediğini biliyordu. Heyecanını yenmek için gözlerini kapadı ve derin derin nefes aldı. Bu sırada kulise gelen Sevgi, Barış'a konserde şans diledi. Barış, piyanosunun ses ayarını son kez kontrol etti. Artık sahneye çıkmaya hazırdı.



Yukarıdaki metinde hikâye unsurlarından hangisine yer verilmemiştir?

- A) Zaman B) Yer C) Olay D) Kişiler

8. Esra Hanım, 4. sınıfa giden kızı Defne için bir hikâye kitabı almıştır. Bu kitabın adı ile ilgili şu ipuçları verilmiştir.

- ◆ İki kelimedir.
- ◆ Altı heceden oluşmaktadır.
- ◆ Sessiz harfle başlamaktadır.
- ◆ "-i, -ü ve -s" harfleri bulunmamaktadır.

Bu bilgilere göre aşağıdakilerden hangisi Esra Hanım'ın kızı Defne'ye aldığı hikâye kitabının adı olabilir?

- A) Küçük Prens      B) Yalnız Efe      C) Mavi Au      D) Şeker Portakalı

9.

	Teknolojik Sözcükler	Türkçe Karşılığı
I.	mouse	fare
II.	printer	yazıcı
III.	modem	çekirdek
IV.	laptop	dizüstü bilgisayar

Yukarıdaki tabloda dilimize yabancı dillerden girmiş teknolojik sözcükler ve bunların Türkçe karşılıkları verilmiştir.

Buna göre kaç numaralı kutudaki sözcüğün Türkçe karşılığı yanlış verilmiştir?

- A) I      B) II      C) III      D) IV

10. Tuğba Öğretmen, Türkçe dersinde öğrencilerle "Sözcük Bulmaca" oyunu oynamaktadır. Öğrencilerin bulması gereken sözcüğün harfleri ile ilgili şu ipuçlarını vermiştir:

♦ "Kolay" da var, "olay" da yoktur.

♦ "Yaz" da var, "yüz" de yoktur.

♦ "Pil" de var, "çil" de yoktur.

♦ "Cimbiz" da var, "cambaz" da yoktur.

Bu bilgilere göre Tuğba Öğretmen'in bulunmasını istediği sözcük aşağıdakilerden hangisi olabilir?

A) KARE

B) KARA

C) KAPI

D) KAYI

11. Yandaki kilidi açacak olan anahtarın üzerindeki sayının şu özellikleri taşıması gerekmektedir:

- ♦ On binler basamağındaki rakamın sayı değeri, binler bölümündeki diğer rakamlardan büyük olmalıdır.
- ♦ 8 rakamının basamak değeri 80 olmalıdır.



Buna göre aşağıdaki anahtarlardan hangisi kilidi açar?

A) 145 986

B) 243 568

C) 342 789

D) 543 986

12. Aşağıdaki tabloda alfabemizdeki harfler ve sıra numaraları verilmiştir.

A	B	C	Ç	D	E	F	G	Ğ	H	I	İ	J	K	L
1	2	3	4	5	6	7	8	9	10	11	12	13	14	15
M	N	O	Ö	P	R	S	Ş	T	U	Ü	V	Y	Z	
16	17	18	19	20	21	22	23	24	25	26	27	28	29	

Öğretmen, bir sözcüğü oluşturan harflerin alfabedeki sıra numaralarının soldan sağa doğru yan yana yazılmasıyla doğal sayıların oluştuğunu belirtmiştir.

Örnek → 

S	Ü	T
22	26	24

 → 222624 doğal sayısı oluşur.

Buna göre "OKU" sözcüğündeki harflerin oluşturduğu sayının binler bölümündeki rakamların toplamı kaçtır?

A) 9

B) 10

C) 11

D) 12

13. Aşağıdaki tabloda 2021 yılı nüfus sayımına göre bazı illerin sonuçları verilmiştir.

İL	Elazığ	Kütahya	Tokat	Zonguldak
NÜFUS	587 960	576 688	597 861	591 204

Tablodaki illerin nüfusunu gösteren doğal sayıları büyükten küçüğe sıraladığımızda baştan ikinci sırada yer alan sayının birler bölümündeki rakamların sayı değerleri toplamı kaçtır?

A) 22

B) 15

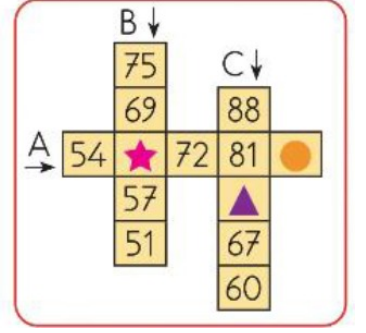
C) 9

D) 6

14. Yanda A, B ve C sayı örüntülerinin yönleri oklarla gösterilmiş ve örüntüler belirli bir kurala göre oluşturulmuştur.

Buna göre örüntüler tamamlandığında "★, ▲, ●" sembollerinin yerine gelecek sayıların toplamı kaçtır?

- A) 207                      B) 217                      C) 227                      D) 237



15. **MENÜ**
- | Tatlılar     | Fiyatı | İçecekler | Fiyatı |
|--------------|--------|-----------|--------|
| Elmalı Turta | 12 TL  | Muzlu Süt | 10 TL  |
| Profiteröl   | 11 TL  | Kahve     | 12 TL  |
| Yaş Pasta    | 10 TL  |           |        |
| Sütlaç       | 9 TL   |           |        |
- Bir kafeye giden beş arkadaş yandaki menüden aynı tatlıyı ve aynı içeceği sipariş ediyor. Toplamda 115 TL hesap ödüyorlar.
- Buna göre beş arkadaş hangi tatlı ve içeceği söylemiştir?

- A) Elmalı turta – Muzlu süt                      B) Sütlaç – Kahve  
C) Profiteröl – Kahve                              D) Yaş pasta – Muzlu süt

16.



Adana	948 km
Gaziantep	1111 km
Kayseri	774 km
Hatay	1139 km

İstanbul'dan yola çıkan bir otobüs 758 km gittikten sonra ihtiyaç molası vermiştir. Otobüsün moladan sonra kalan yolu 353 km'dir.

Otobüsün gittiği yolun toplam uzunluğuna göre otobüs hangi şehre gidecektir?

- A) Hatay                      B) Kayseri                      C) Gaziantep                      D) Adana

17. Hedef tahtasına ok atılarak oynanan bir oyunun kuralları aşağıda veriliyor.

- ▶ 3 tane ok atışı yapılıyor.
- ▶ Ok hangi bölüme değerse o bölüme ait puan alınıyor.
- ▶ Alınan puanlar toplanıyor ve sonuç elde ediliyor.
- ▶ Sonucun 100 ile çarpılmasıyla oyun puanı elde ediliyor.



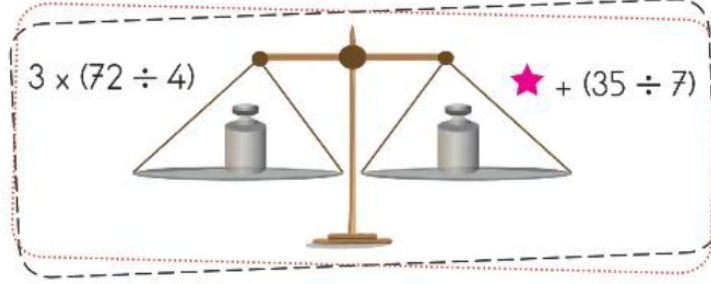
Yandaki görselde Mert'in attığı okların hedef tahtasındaki görünümü verilmiştir.

Buna göre Mert'in bu oyundan alacağı puan kaçtır?

- A) 11000                      B) 1100                      C) 110                      D) 10



18.



Yukarıdaki terazinin sağ ve sol kefesindeki işlem sonuçları eşittir, bu nedenle terazinin iki kolu dengede durmaktadır.

Buna göre "☆" yerine yazılması gereken sayı kaçtır?

A) 20

B) 34

C) 49

D) 54

19.

1	9	6
5	3	8

Yanda verilen tablonun içine birbirinden farklı rakamlar yazılmıştır. Bu tabloda ki rakamlar "↘↘↘" yönünde sırasıyla yazılınca "153968" sayısı elde edilmiştir.

Bu tabloda rakamlarla "↖↖↖" oku kullanılarak oluşan sayının yüz binler ve yüzler basamaklarındaki rakamların sayı değerleri toplamı ile on binler ve birler basamağındaki rakamların sayı değerleri toplamı arasındaki fark kaçtır?


A) 0

B) 1

C) 2

D) 19

20. Aşağıdaki tahtada iki farklı dairenin içerisine beşer adet rakam yazılmıştır.



Dairelerin alt bölümlerinde verilen boşluklara, üst taraftaki rakamlarla en büyük dört basamaklı sayılar yazılacaktır.

Buna göre iki dairede oluşturulan sayıların toplamı kaçtır?

- A) 18 295                      B) 18 395                      C) 18 495                      D) 18 595

21. Dünyanın hareketleri ile ilgili bazı bilgiler aşağıda verilmiştir.

■ Dünya kendi eksenini etrafında ..... doğru döner.

▲ Dünya, Güneş etrafındaki dolanım hareketini ..... tamamlar.

● Dünya kendi eksenini etrafındaki dönme hareketini ..... tamamlar.

Bu açıklamalarda noktalı yerlere gelmesi gereken doğru ifadeler aşağıdakilerden hangisidir?

	■	▲	●
A)	doğudan batıya	24 saatte	365 gün 6 saatte
B)	batıdan doğuya	365 gün 6 saatte	24 saatte
C)	doğudan batıya	24 saatte	24 saatte
D)	batıdan doğuya	365 gün 6 saatte	365 gün 6 saatte

22. Aşağıda bazı madenler ve kullanım alanları verilmiştir.

I. Çekiç, pense, çatal, bıçak gibi aletlerin yapımında, uçak ve gemi yapımında, paslanmaz çelik üretiminde kullanılır.	a. Demir
II. Otomobil yapımında, inşaatlarda, ray yapımında kullanılır.	b. Nikel
III. Kuyumculukta, elektrik - elektronikte, süslemede, madalya yapımında, resmî paralarda kullanılır.	c. Linyit
IV. Özellikle ısınmada elektrik enerjisi üretiminde, sanayide, asfalt yapımında kullanılır.	d. Altın

Buna göre numaralanmış kullanım alanları ve madenlerin eşleştirilmesi aşağıdakilerden hangisinde doğru verilmiştir?

A) I a	B) I b	C) I a	D) I b
II c	II a	II b	II a
III d	III d	III c	III c
IV b	IV c	IV d	IV d

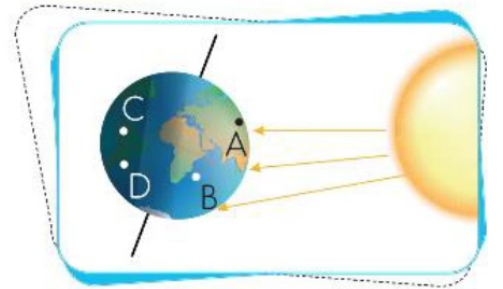
23. Dünya kendi eksenini etrafında batıdan doğuya dönerken Dünya'nın Güneş ışığı alan bölgelerinde gündüz, ışık almayan bölgelerinde ise gece yaşanmaktadır.

Dünya'nın yanda verilen görseldeki durumuyla ilgili,

- I. A ve B noktasında gündüz yaşanmaktadır.
- II. D noktasında gündüz yaşanmaktadır.
- III. C noktasında gece yaşanmaktadır.
- IV. A noktası ile D noktası Güneş'i aynı açıdan görmektedir.

ifadelerinden hangileri doğrudur?

- A) I ve II                      B) I ve III                      C) II ve III                      D) II ve IV



- 24.
- |  |                 |
|--|-----------------|
| I. Vücudumuzun direncini artırarak bizi hastalıklara karşı korur ve organlarımızın düzenli çalışmasını sağlar.   | a. Yağ          |
| II. Vücudumuzun ihtiyacı olan enerjiyi sağlar. Ayrıca beynimizin kullandığı tek enerji kaynağıdır.   | b. Karbonhidrat |
| III. Vücudumuzda yapıcı ve onarıcı olarak görev yaparlar. Saçlarımızın ve tırnaklarımızın uzamasını sağlarlar. Onun sayesinde kırılan kemikler çabuk iyileşir. | c. Vitamin      |
| IV. Vücudumuzun enerji ihtiyacını sağlar. Canlıların organlarını dış etkenlere karşı korur.  | d. Protein      |

Yukarıda verilen numaralanmış besin görevlerini, besin içerikleri ile eşleştirdiğimizde doğru eşleştirme nasıl olmalıdır?

A)

I	d
II	a
III	c
IV	b

B)

I	c
II	b
III	d
IV	a

C)

I	d
II	b
III	a
IV	c

D)

I	c
II	a
III	d
IV	b

25. Aşağıda dört öğrencinin öğle yemeğinde yedikleri yemeklerin menüsü verilmiştir.

<b>Ercan</b>	<b>Figen</b>	<b>Gülşah</b>	<b>Hakan</b>
<input type="checkbox"/> Köfte <input type="checkbox"/> Patates kızartması <input type="checkbox"/> Kola	<input type="checkbox"/> Çorba <input type="checkbox"/> Pizza <input type="checkbox"/> Ayran	<input type="checkbox"/> Taze fasulye <input type="checkbox"/> Bulgur pilavı <input type="checkbox"/> Ekmek <input type="checkbox"/> Portakal	<input type="checkbox"/> Hamburger <input type="checkbox"/> Ayran

Buna göre hangi öğrenci yeterli ve dengeli beslenmiştir?

- A) Ercan      B) Figen      C) Gülşah      D) Hakan

26.

“Ezgi, sabah okula gitmeden önce annesinin hazırlamış olduğu kahvaltıda, kendi tabağına bir adet haşlanmış yumurta, bir kibrit kutusu kadar peynir, 8 adet zeytin, biraz da domates ve salatalık dilimleri koydu. Bunları bir dilim kepekli ekmekle yedi ve kahvaltısını bitirdi.”

Buna göre Ezgi'nin kahvaltıda yediği besinlerle ilgili aşağıdaki ifadelerden hangisi doğrudur?

- A) Sadece hayvansal kaynaklı besinler tüketmiştir.
- B) Dengeli beslenmeye uygun besinler yemiştir.
- C) Kahvaltısı karbonhidrat bakımından zengin besinlerdir.
- D) Sadece bitkisel kaynaklı besinler tüketmiştir.

100

27. Ayşe, besinlerin tazeliği, doğallığı konusu ile ilgili doğru - yanlış etkinliğini aşağıdaki gibi işaretlemiştir.

İfadeler		Doğru	Yanlış
I.	Pazardan alacağımız ürünün rengine, canlılığına, koku ve dokusuna dikkat etmeliyiz.	✓	
II.	Ambalajlı gıda maddelerini alırken son kullanma tarihine bakmadan almalıyız.	✓	
III.	Aldığımız ürünlerin üzerinde Türk Standartları Enstitüsünün damgası olmalıdır.		✓
IV.	Alışveriş sırasında paketleri renkli ve reklamı yapılan ürünleri tercih etmeliyiz.		✓

Buna göre Ayşe bilgilerin hangilerinde hatalı işaretleme yapmıştır?

- A) Yalnız IV
- B) I ve II
- C) I ve III
- D) II ve III

28.



Ali ve Berkay görseldeki gibi cisme kuvvet uygulayıp cismi hareket ettirmişlerdir.

Bu olayla ilgili,

- I. Berkay çekme kuvveti uygulamıştır.
- II. Ali ve Berkay cisme kuvvet uygulayarak cismin hızını yavaşlatmayı amaçlamışlardır.
- III. Ali itme kuvveti uygulamıştır.

bilgilerinden hangileri doğrudur?

A) Yalnız I

B) I ve II

C) I ve III

D) I, II ve III

29. Aşağıdaki tabloda bazı maddelerin sahip olduğu özellikler "✓" işareti ile belirtilmiştir.

Maddeler	Suda yüzer	Mıknatısla çekilir	Suyu çekmez
▲			✓
♥		✓	✓
★	✓		✓

Buna göre "▲, ♥, ★" ile gösterilen maddeler aşağıdaki seçeneklerden hangisinde doğru verilmiştir?

	▲	♥	★
A)	Kumaş	Demir bilye	Plastik bardak
B)	Demir bilye	Plastik bardak	Kumaş
C)	Porselen tabak	Demir bilye	Plastik top
D)	Plastik top	Porselen tabak	Demir bilye

30. Üç öğrenci ellerinde bulunan maddeler ile ilgili şu bilgiler vermişlerdir:

 <p><b>Serpil</b> Benim elimdeki maddeye dışarıdan bir etki olmadıkça şekli değişmez.</p>	 <p><b>Kaan</b> Benim elindeki madde akışkandır ve sıkıştırılmaz.</p>	 <p><b>Hasan</b> Benim elimdeki maddenin hacmi yoktur ve sıkıştırılabilir.</p>
--	--	---

Öğrencilerin verdikleri bilgilere göre bu maddelerin doğada bulunan hâli aşağıdakilerden hangisidir?

	Serpil	Kaan	Hasan
A)	Sıvı	Gaz	Katı
B)	Katı	Sıvı	Gaz
C)	Sıvı	Katı	Gaz
D)	Gaz	Sıvı	Katı

31. 4/A sınıfındaki bazı öğrenciler yapacakları faaliyetlerle ilgili şunları söylemişlerdir:

 <p><b>Eymen</b> Kütüphaneden kitap almaya gideceğim.</p>	 <p><b>Hasan</b> Sinemaya gideceğim.</p>
 <p><b>Umut</b> Hastaneye muayene olmaya gideceğim.</p>	 <p><b>Zeynep</b> Kardeşimi ana sınıfına kayıt yaptırmaya gideceğiz.</p>

Buna göre öğrencilerden hangilerinin yapacağı faaliyette resmî kimlik kartının kullanılması mutlaka gereklidir?

- A) Eymen ve Hasan    B) Hasan ve Umut    C) Umut ve Zeynep    D) Eymen, Umut ve Zeynep

32. Bilgehan, öğretmeni ve sınıf arkadaşlarıyla beraber Ankara'daki Etnografya Müzesine geziye gitti. Müzenin salonlarından önce Anadolu'nun çeşitli yörelerine ait halı - kilim örneklerinin sergilendiği yeri gezdiler. Daha sonra Türk kahve kültürü konulu sergi ile düğün, kına gecesi konulu sergileri gezdiler. Ardından müze çıkışı çok acıkan öğrenciler yakınlardaki pizzacıdan pizza yediler. Üstüne de Gaziantep baklavacısından baklava yiyerek okullarına geri döndüler.

Buna göre yukarıdaki metinde bahsedilenlerden hangisi, millî kültür öğelerimizden biri değildir?

- A) Yöresel halı - Kilim    B) Türk kahvesi    C) Pizza    D) Kına gecesi

33. Aşağıda geleneksel çocuk oyunları ile ilgili ifadeler ve bu oyunların isimleri karışık olarak verilmiştir.

Koyun, keçi ve danaların ön dizlerinde bulunan eklem kemiğiyle oynanan bir oyundur.

Dalıe

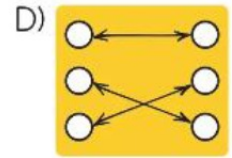
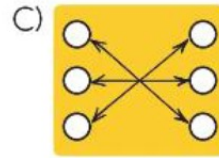
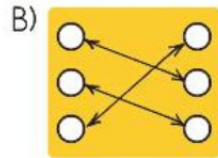
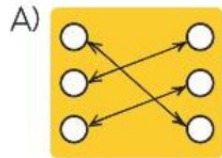
İki takım arasında bir top ve avuç içi büyüklüğündeki yassı kiremit parçalarıyla oynanan bir oyundur.

Saklambaç

Türk toplumunda yüzyıllardır karaguni adıyla bilinen ve hâlen de oynanan bir çocuk oyunudur.

Aşık

Buna göre yukarıda geleneksel çocuk oyunları ile ilgili verilen ifadeler ile oyunların adları hangi seçenekte doğru eşleştirilmiştir?





34. Aşağıda Batı Cephesi'nde yapılan bir savaş ile ilgili bilgiler verilmiştir.

- ★ Bu büyük savaş, Türk ordusunun zaferiyle sonuçlandı.
- ★ TBMM, kazandığı bu zaferden dolayı, Mustafa Kemal Paşa'ya "Mareşal" rütbesi ve "Gazi" unvanı verdi.
- ★ Mustafa Kemal Paşa, bu zaferi kazandıktan sonra düşmanı yurttan kesin olarak atmak için harekete geçti.

Buna göre yukarıda verilen bilgiler Batı Cephesi'nde yapılan savaşlardan hangisi ile ilgilidir?

- A) I. İnönü                      B) II. İnönü                      C) Sakarya Savaşı                      D) Büyük Taarruz

35. Aşağıda karışık olarak beşeri ve doğal unsurlar verilmiştir.



Pamukkale Travertenleri



Atatürk Barajı



Anıtkabir



Peribacaları

Buna göre numaralanmış unsurları, beşeri ve doğal unsur olarak sınıflandırdığımızda aşağıdakilerden hangisi doğru olur?

	Beşeri Unsur	Doğal Unsur
A)	II - III	I - IV
B)	I - IV	II - III
C)	II - IV	I - III
D)	I - III	II - IV

36.



----- the window, Emma.

Cümledeki boşluğa hangi kelime gelmelidir?

- A) Clean      B) Close      C) Give      D) Open

37.

May I - - - - ?



Cümledeki boşluğa hangi ifade gelmelidir?

A) turn around

B) sit down

C) stand up

D) come in

38.

$$26 + 12 = ?$$

Yukarıdaki işlemin sonucu hangisidir?

A) thirty-eight

B) thirty-six

C) forty-eight

D) forty-six

SAGIHO BİR İMAM HATİP KLASİĞİ

39.



Ece : Where is Samsun?

Esin : It is in the - - - -.

Diyalođu tamamlayan dođru ifade hangisidir?

A) north

B) west

C) east

D) south

40.



1. İzmir is in the - - - -.
2. Adana is in the - - - -.
3. Ağrı is in the - - - -.

Yukarıdaki boşluklara sırasıyla hangi kelimeler gelmelidir?

- A) south - west - east      B) east - west - south  
C) east - south - west      D) west - south - east

41.



This is Simon. It is  
----- guitar. He can  
----- the guitar.

Yukarıdaki boşluklara sırasıyla hangi kelimeler gelmelidir?


A) her - play

B) his - climb

C) his - play

D) her - climb

42.



I - - - - playing volleyball, but I - - - - riding a bike.

Boşluklara sırasıyla hangi kelimeler gelmelidir?

A) like / like

B) dislike / like

C) like / dislike

D) dislike / dislike

43.

\_wimming

\_winging

Yukarıdaki kelimelerin ilk harfi ile başlayan eylem hangi seçenekte verilmiştir?

A)



B)



C)



D)





44.



I go to school - - - - eight o'clock - - - -  
the morning.

Boşluklara sırasıyla hangi ifadeler gelmelidir?

A) at / in

B) in / at

C) in / in

D) at / at

45.



Görseli ifade eden cümle hangisidir?

- A) I have breakfast at 8 o'clock.
- B) I get dressed at 8 o'clock.
- C) I go to school at 8 o'clock.
- D) I meet my friends at 8 o'clock.

46.

Sabah uyanınca  
Kapıyı açınca  
Yemeğe başlayınca

Salam verirken  
Okula girerken  
Derse başlarken

Camiye girerken  
Kapısını açarken  
Namaza başlarken

Şiir yarışmasına katılan Hafize yukarıdaki şiiri yazmıştır.

Hafize'nin yazdığı şiirdeki boşluklara aşağıdaki dinî ifadelerden hangisi yazılırsa şiirdeki anlam bütünlüğü sağlanmış olur?

A) Bismillah

B) İnşallah

C) Maşallah

D) Subhanallah

47.

"...Her kim dua ederse duasına karşılık veririm, her kim benden bir şey isterse istediğini yerine getiririm, her kim benden bağışlanma dilerse onu affederim."

"Bir kimse, bir günah işler de ardından güzelce abdest alır sonra kalkıp iki rekât namaz kılar ve Allah'tan bağışlanma dilerse Allah onu mutlaka bağışlar."

Hz. Muhammed (s.a.v.)

Bu hadislerde altı çizili bölümlerdeki yapılması istenen dua hangisi olabilir?

A) Estağfirullah

B) Subhanallah

C) Maşallah

D) İnşallah

48.

"Bismillâhirrahmânirrahîm" ..... ve ..... olan Allah'ın adıyla (başlarım)." manasına gelir. Bu ifade bazen kısaca "Bismillah" şeklinde de söylenir. "Bismillah", "Allah'ın adıyla (başlarım)." demektir.

Allah'ın (c.c.) besmelede yer alan, metindeki noktalı yere gelecek iki ismi hangi seçenekte doğru verilmiştir?

- A) Kerim ve Azim  
C) Hakim ve Celil

- B) Mümin ve Melik  
D) Rahman ve Rahim

49.



Şekildeki peygamberlere gönderilen ilahi kitaplar hangi seçenekte doğru sıralanmıştır?

- A) Tevrat Zebur İncil Kur'an-ı Kerim  
B) Zebur İncil Tevrat Kur'an-ı Kerim  
C) Tevrat İncil Zebur Kur'an-ı Kerim  
D) Tevrat Zebur Kur'an-ı Kerim İncil

50.

**İslam'ın Şartları**

1.

2.

3.

4.

5.

Yukarıdaki kutucuklara hangi seçenekteki ifade yazılamaz?

- A) Namaz kılmak      B) Oruç tutmak      C) Zekât vermek      D) Kurban kesmek

SAGIHO BİR İMAM HATİP KLASİĞİ

Ad - Soyad

- |    | A                     | B                     | C                     | D                     |   | A  | B                     | C                     | D                     |                       | A | B  | C                     | D                     |                       |                       |
|----|-----------------------|-----------------------|-----------------------|-----------------------|---|----|-----------------------|-----------------------|-----------------------|-----------------------|---|----|-----------------------|-----------------------|-----------------------|-----------------------|
| 1  | <input type="radio"/> | <input type="radio"/> | <input type="radio"/> | <input type="radio"/> | ■ | 21 | <input type="radio"/> | <input type="radio"/> | <input type="radio"/> | <input type="radio"/> | ■ | 41 | <input type="radio"/> | <input type="radio"/> | <input type="radio"/> | <input type="radio"/> |
| 2  | <input type="radio"/> | <input type="radio"/> | <input type="radio"/> | <input type="radio"/> |   | 22 | <input type="radio"/> | <input type="radio"/> | <input type="radio"/> | <input type="radio"/> |   | 42 | <input type="radio"/> | <input type="radio"/> | <input type="radio"/> | <input type="radio"/> |
| 3  | <input type="radio"/> | <input type="radio"/> | <input type="radio"/> | <input type="radio"/> |   | 23 | <input type="radio"/> | <input type="radio"/> | <input type="radio"/> | <input type="radio"/> |   | 43 | <input type="radio"/> | <input type="radio"/> | <input type="radio"/> | <input type="radio"/> |
| 4  | <input type="radio"/> | <input type="radio"/> | <input type="radio"/> | <input type="radio"/> |   | 24 | <input type="radio"/> | <input type="radio"/> | <input type="radio"/> | <input type="radio"/> |   | 44 | <input type="radio"/> | <input type="radio"/> | <input type="radio"/> | <input type="radio"/> |
| 5  | <input type="radio"/> | <input type="radio"/> | <input type="radio"/> | <input type="radio"/> |   | 25 | <input type="radio"/> | <input type="radio"/> | <input type="radio"/> | <input type="radio"/> |   | 45 | <input type="radio"/> | <input type="radio"/> | <input type="radio"/> | <input type="radio"/> |
| 6  | <input type="radio"/> | <input type="radio"/> | <input type="radio"/> | <input type="radio"/> |   | 26 | <input type="radio"/> | <input type="radio"/> | <input type="radio"/> | <input type="radio"/> |   | 46 | <input type="radio"/> | <input type="radio"/> | <input type="radio"/> | <input type="radio"/> |
| 7  | <input type="radio"/> | <input type="radio"/> | <input type="radio"/> | <input type="radio"/> |   | 27 | <input type="radio"/> | <input type="radio"/> | <input type="radio"/> | <input type="radio"/> |   | 47 | <input type="radio"/> | <input type="radio"/> | <input type="radio"/> | <input type="radio"/> |
| 8  | <input type="radio"/> | <input type="radio"/> | <input type="radio"/> | <input type="radio"/> |   | 28 | <input type="radio"/> | <input type="radio"/> | <input type="radio"/> | <input type="radio"/> |   | 48 | <input type="radio"/> | <input type="radio"/> | <input type="radio"/> | <input type="radio"/> |
| 9  | <input type="radio"/> | <input type="radio"/> | <input type="radio"/> | <input type="radio"/> | ■ | 29 | <input type="radio"/> | <input type="radio"/> | <input type="radio"/> | <input type="radio"/> |   | 49 | <input type="radio"/> | <input type="radio"/> | <input type="radio"/> | <input type="radio"/> |
| 10 | <input type="radio"/> | <input type="radio"/> | <input type="radio"/> | <input type="radio"/> |   | 30 | <input type="radio"/> | <input type="radio"/> | <input type="radio"/> | <input type="radio"/> |   | 50 | <input type="radio"/> | <input type="radio"/> | <input type="radio"/> | <input type="radio"/> |
| 11 | <input type="radio"/> | <input type="radio"/> | <input type="radio"/> | <input type="radio"/> |   | 31 | <input type="radio"/> | <input type="radio"/> | <input type="radio"/> | <input type="radio"/> |   |    |                       |                       |                       |                       |
| 12 | <input type="radio"/> | <input type="radio"/> | <input type="radio"/> | <input type="radio"/> | ■ | 32 | <input type="radio"/> | <input type="radio"/> | <input type="radio"/> | <input type="radio"/> | ■ |    |                       |                       |                       |                       |
| 13 | <input type="radio"/> | <input type="radio"/> | <input type="radio"/> | <input type="radio"/> |   | 33 | <input type="radio"/> | <input type="radio"/> | <input type="radio"/> | <input type="radio"/> |   |    |                       |                       |                       |                       |
| 14 | <input type="radio"/> | <input type="radio"/> | <input type="radio"/> | <input type="radio"/> |   | 34 | <input type="radio"/> | <input type="radio"/> | <input type="radio"/> | <input type="radio"/> |   |    |                       |                       |                       |                       |
| 15 | <input type="radio"/> | <input type="radio"/> | <input type="radio"/> | <input type="radio"/> |   | 35 | <input type="radio"/> | <input type="radio"/> | <input type="radio"/> | <input type="radio"/> |   |    |                       |                       |                       |                       |
| 16 | <input type="radio"/> | <input type="radio"/> | <input type="radio"/> | <input type="radio"/> |   | 36 | <input type="radio"/> | <input type="radio"/> | <input type="radio"/> | <input type="radio"/> |   |    |                       |                       |                       |                       |
| 17 | <input type="radio"/> | <input type="radio"/> | <input type="radio"/> | <input type="radio"/> |   | 37 | <input type="radio"/> | <input type="radio"/> | <input type="radio"/> | <input type="radio"/> |   |    |                       |                       |                       |                       |
| 18 | <input type="radio"/> | <input type="radio"/> | <input type="radio"/> | <input type="radio"/> |   | 38 | <input type="radio"/> | <input type="radio"/> | <input type="radio"/> | <input type="radio"/> |   |    |                       |                       |                       |                       |
| 19 | <input type="radio"/> | <input type="radio"/> | <input type="radio"/> | <input type="radio"/> |   | 39 | <input type="radio"/> | <input type="radio"/> | <input type="radio"/> | <input type="radio"/> |   |    |                       |                       |                       |                       |
| 20 | <input type="radio"/> | <input type="radio"/> | <input type="radio"/> | <input type="radio"/> |   | 40 | <input type="radio"/> | <input type="radio"/> | <input type="radio"/> | <input type="radio"/> |   |    |                       |                       |                       |                       |

Form ID: 10010504000