


1.



A B C D E F Ğ H I J






K L M N O P Q R S T



U V W X Y Z

Görme engelli bireylerin okuma ve yazma için kullandığı, kabartmalı yazılardan oluşan Braille alfabesi kendisi de görme engelli olan L. Braille (Breyl) tarafından icat edilmiştir. Bu alfabedeki kelimeler soldan sağa okunur.

Buna göre "sağlık" sözcüğünün Braille alfabesi ile yazılışı aşağıdakilerden hangisinde doğru verilmiştir?



2. * Saat ve dakikayı gösteren sayıları birbirinden ayırmak için I konur.
* Yazıda satır başına alınan konuşmaları göstermek için II kullanılır.
* Alay, kinaye veya küçümseme anlamı kazandırılmak istenen sözden hemen sonra yay ayraç içinde III işareti kullanılır.
* Cümle içerisinde eserlerin ve yazıların adları ile bölüm başlıkları IV içine alınır.

Berna Öğretmen tahtaya bazı noktalama işaretlerinin görevlerini yazmış ve öğrencilerden bu noktalama işaretlerini belirlemelerini istemiştir.

Barış: I numara ile belirtilen iki noktadır.

Beril: II numaralı ile belirtilen uzun çizgidir.

Bora: III numaralı ile belirtilen ünlem işaretidir.

Burcu: IV numaralı ile belirtilen tırnak işaretidir.

Buna göre hangi öğrencinin ifadesi yanlıştır?

- A) Barış B) Beril C) Bora D) Burcu

3. ♦ İrem ile Begüm bir torbadan üzerinde cümleler yazılı olan kâğıtları sırasıyla çekeceklerdir.
♦ Cümlelerden gerçek ifadeli olan cümle için isimlerin karşısına ↑ işareti konulacaktır.
♦ Cümlelerden hayal ürünü ifadeli olan cümle için isimlerin karşısına ↓ işareti konulacaktır.

Torbadaki Cümleler	Yarışma Sonucu
1. Keloğlan uçan halısına binip Kaf Dağı'na doğru yola çıktı.	İrem: ↓ ↑ ↑ ↓ Begüm: ↑ ↑ ↓ ↓
2. Dün akşam parka gittik.	
3. Gökyüzündeki yıldızlar bize göz kırptı.	
4. Bugün çok güzel yağmur yağdı.	

Buna göre İrem ve Begüm'ün torbadan çektiği cümleler sırasıyla aşağıdakilerden hangisi olabilir?

A)

İrem	2	1	4	3
Begüm	1	4	3	2

C)

İrem	1	4	2	3
Begüm	4	2	3	1

B)

İrem	1	2	3	4
Begüm	2	4	1	3

D)

İrem	3	4	1	2
Begüm	2	3	4	1

4.

Yaşlı bir çift evde tereyağı yapmaktadır. Geçimlerini sağlamak için adam, karısının yaptığı tereyağlarını her gün bakkala götürüp satmaktadır. Bakkal ise onların yaptığı tereyağlarını hiç tartmaya gerek duymadan satışa çıkarmaktadır.

Bir gün bakkalın aklına tereyağlarını tartmak gelir ve tarttığında tereyağlar 900 gram gelir. 900 gram sonucuyla karşılaşan bakkal öfkeden deliye döner. Ertesi gün olduğunda yaşlı adam tekrar elinde tereyağı ile bakkala gelir, bakkalcı ise "Bir daha seninle alışveriş yapmayacağım, tereyağların 1 kilogram değil 900 gram geldi." der. Yaşlı adam utanır ve "Bizim evde terazimiz yok, sizden aldığımız 1 kiloluk şekerleri ağırlık olarak kullanıyoruz." diye yanıtlar. Bakkal utancından kızarır ve hemen mahcup bir şekilde özür diler.

Bu hikâyenin ana düşüncesi aşağıdaki atasözlerinden hangisiyle verilebilir?

A) Lafla peynir gemisi yürümez.

B) Ne ekersen onu biçersin.

C) Bir çöplükte iki horoz ötmez.

D) Fazla mal göz çıkarmaz.

5.

Tatil dönüşü masasında dağ gibi dosyaların yığıldığını gördü

cümlesinde "benzeyen" ve "kendisine benzetilen" varlıklar aşağıdakilerin hangisinde doğru verilmiştir?

	Benzeyen	Kendisine Benzetilen
A)	dosya	dağ
B)	masa	dosya
C)	dosya	masa
D)	masa	dağ

6. Aşağıda bazı cümleler ve bu cümlelere ait optik formlar verilmiştir. Bu cümlelerdeki altı çizili sözcük, gerçek anlamda kullanılmışsa "G", mecaz anlamda kullanılmışsa "M", terim anlamında kullanılmışsa "T" harfleri işaretlenecektir.

G M T Ayça ve Betül koyu bir sohbeta başladı.

G M T Oyuncular ilk perdede, ikinci perdeden daha etkileyiciydi.

G M T Okul çantam çok ağır olduğu için taşımakta zorlanıyorum.

Buna göre cümlelerdeki altı çizili sözcüklerin kullanıldığı anlamlar doğru işaretlendiğinde kodlama aşağıdakilerden hangisi olur?

A)

<input type="radio"/> G	<input type="radio"/> M	<input type="radio"/> T
<input type="radio"/> G	<input type="radio"/> M	<input type="radio"/> T
<input type="radio"/> G	<input type="radio"/> M	<input type="radio"/> T

B)

<input type="radio"/> G	<input checked="" type="radio"/> M	<input type="radio"/> T
<input checked="" type="radio"/> G	<input type="radio"/> M	<input type="radio"/> T
<input type="radio"/> G	<input type="radio"/> M	<input checked="" type="radio"/> T

C)

<input type="radio"/> G	<input checked="" type="radio"/> M	<input type="radio"/> T
<input type="radio"/> G	<input type="radio"/> M	<input checked="" type="radio"/> T
<input checked="" type="radio"/> G	<input type="radio"/> M	<input type="radio"/> T

D)

<input type="radio"/> G	<input type="radio"/> M	<input checked="" type="radio"/> T
<input type="radio"/> G	<input checked="" type="radio"/> M	<input type="radio"/> T
<input checked="" type="radio"/> G	<input type="radio"/> M	<input type="radio"/> T

- 7.

..... derler. Ne kadar doğru bir söz. İnsan kendini açık etmemek üzere ne kadar direnirse dirensin, içinde saklayıp durduğunu, yüzü ele verir. İnsanın yüzü cömerttir; hiç tanımasanız, hakkında hiçbir şey bilmeseniz de o insanın fotoğrafına bakarak yüzünden bütün hayat hikâyesini okuyabilirsiniz.

Bu metnin başına, anlatılmak istenen düşüncenin akışına göre aşağıdakilerden hangisinin getirilmesi uygundur?

- A) "Bana arkadaşını söyle, sana kim olduğunu söyleyeyim."
 B) "Üzüm üzüme baka baka kararır."
 C) "Yüz bedenin ruhudur."
 D) "Bağa bak üzüm olsun, yemeye yüzün olsun."

8. Henüz 21 yaşında olan ve İstanbul'u fethetmeye karar veren Fatih Sultan Mehmet, orduya katılacak olan halkını imtihan etmek amacıyla sabahın erken saatlerinde kılık değiştirerek başkent Edirne'nin pazarında dolaşmaya başlar.

Yukarıdaki metinde yer alan altı çizili sözcük 5N1K sorularından birine cevap vermektedir. Buna göre seçeneklerdeki altı çizili sözcüklerden hangisi aynı soruya cevap verir?

- A) Amcamın oğlu yarın askerden dönüyor.
B) Bahçenin bir köşesinde çocukların oynaması için salıncak, kaydırak gibi oyuncaklar vardı.
C) Bu oyuncakları bana babaannem aldı.
D) Annem bana sıcak çorba yaptı.

9. Ankara'dan İstanbul'a arabayla iki saatte (?) gitmiş.

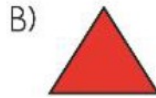
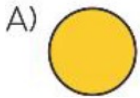
Soru bildiren cümle veya sözlerin sonuna konur.

Soru bildiren ancak soru eki veya sözü içermeyen cümlelerin sonuna konur.

Bir bilginin şüpheyle karşılandığı veya kesin olmadığı durumlarda yay ayraç içinde kullanılır.

Bilinmeyen tarih, yer vb. durumlar için kullanılır.

Yukarıdaki cümlede soru işaretinin kullanım nedeni hangi geometrik şekilde belirtilmiştir?



- 10.
- ◆ Bir sözcüğün sözlükteki ilk anlamına "gerçek anlam" denir.
 - ◆ Bir sözcüğün gerçek anlamından tamamen uzaklaşarak kazandığı yeni anlama "mecaz anlam" denir.
 - ◆ Bir bilim, sanat, spor ya da meslek dalıyla ilgili kavramı karşılayan sözcüklere "terim anlamlı sözcükler" denir.

Bu tanımlara göre,

- I. Kitap okumak için odadaki ışık yeterli değildi.
- II. Bugünkü dersimizde ışık konusunu işleyeceğiz.
- III. Mehmet Akif Ersoy şiirimizin vazgeçilmez ışıklarından biridir.

cümlelerinde "ışık" sözcüğünün kazandığı anlam aşağıdakilerden hangisinde doğru verilmiştir?

	Gerçek	Mecaz	Terim
A)	III	I	II
B)	I	II	III
C)	II	I	III
D)	I	III	II

- 11.
- 

Akıllı saat



Robot süpürge
- Yandaki robot süpürgenin fiyatı en yakın yüzlüğe yuvarlandığında 6300 lira, akıllı saatin fiyatı da en yakın onluğa yuvarlandığında 2540 lira oluyor.
- Buna göre robot süpürgenin ve akıllı saatin gerçek fiyatlarının toplamı en fazla kaç lira olabilir?
- A) 8693 B) 8793 C) 8893 D) 8993

12. Matematik dersinde öğretmen, öğrencilerinden 4'ten başlayarak dörder ritmik sayma şeklinde 60'a kadar örüntü oluşturmalarını ve buldukları sayıları kırmızıya boyamalarını istedi. Daha sonra ise 6'dan başlayarak altışar, 60'a kadar örüntü oluşturmalarını ve buldukları sayıları sarıya boyamalarını istedi.

Öğrenciler oluşturdukları 4 ve 6'şar sayı örüntüsünde aşağıdaki sayılardan hangilerini her iki örüntüde ortak boyamışlardır?

- A) 12, 24, 30, 36, 60 B) 12, 24, 32, 48, 60 C) 12, 24, 36, 48, 60 D) 12, 24, 40, 52, 60

13. Aşağıda verilen belirli sayıdaki tabaklara bir öncekinden 4 fazla olacak şekilde fındıklar konulacaktır.



Fındık konulma işlemi bittiğinde 3. tabağa konulan fındık sayısı 16, son iki tabağa konulan fındıkların toplam sayısı ise 52'dir.

Buna göre ilk ve son tabağa konulan fındıkların sayısının toplamı kaçtır?

- A) 28 B) 30 C) 32 D) 36

14.



Buğday, insanların temel besinlerinin ham maddesi olması itibarıyla diğer tarımsal ürünlere göre daha fazla önem arz etmektedir.

Çiftçi Hasan, bu yıl tarlasına ektiği buğdaydan 8 630 kilogram ürün elde etmiştir. Buğdayların 4 565 kilogramını Toprak Mahsulleri Ofisine satmıştır. Kalan buğdayın 1 070 kilogramını bulgur, geriye kalan miktarını da un yaptırmıştır.



Buna göre Çiftçi Hasan'ın Toprak Mahsulleri Ofisine sattığı buğday miktarı ile un yaptırdığı buğday miktarının toplamı kaç kilogramdır?


A) 7 555

B) 7 560

C) 7 650

D) 7 655

15.



Otomobil lastiği satışı yapan firmanın bir adet otomobil lastik fiyatı 1784 TL'dir.

Bu firma otomobil lastik fiyatlarında kampanya yaparak indirim uyguluyor. Firma indirimi, fiyatı en yakın onluğa yuvarlayıp ardından fiyatın yüzler ve onlar basamaklarında bulunan rakamları ikişer azaltarak yapıyor.

Buna göre firma bir otomobil lastiğinde kaç lira indirim uygulamıştır?

A) 220

B) 224

C) 234

D) 244

16. Ali Öğretmen, sınıf tahtasına yandaki gibi altı basamaklı bir doğal sayı yazmış ve bu sayının bazı rakamlarını silmiştir.

Ali Öğretmen, doğal sayıyı bulmak için şu ipuçlarını vermiştir:

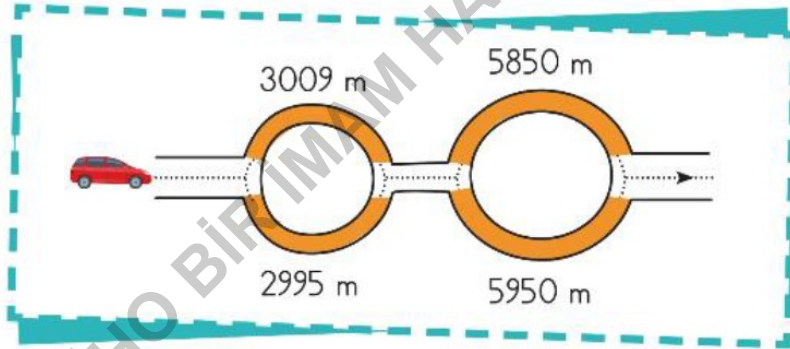
- ◆ Birler bölüğündeki rakamların sayı değeri toplamı 14'tür.
- ◆ Binler basamağındaki rakamın basamak değeri 4000'dir.
- ◆ Doğal sayıyı oluşturan rakamların sayı değerleri toplamı 24'tür.



Buna göre Ali Öğretmen'in tahtaya yazdığı doğal sayı aşağıdakilerden hangisidir?

- A) 154249 B) 154 245 C) 154239 D) 145 239

17. Aşağıda bir aracın gidiş yolundaki iki tünel ve bu tünellerin uzunlukları verilmiştir.



Bu aracın yol boyunca sadece iki tünelden geçtiği ve geçtiği tünellerden birinin metre cinsinden uzunluğunun "onluğa yuvarlandığında 3000 olan sayı", diğerinin ise "yüzlüğe yuvarlandığında 5900 olan sayı" olduğu biliniyor.

Buna göre aracın geçtiği tünellerin uzunlukları toplamı kaç metredir?

- A) 8805 B) 8845 C) 8859 D) 8959

18.

Bilgi: Bir hedef tahtasındaki kırmızı renkli bölge vurulduğunda A puan, mavi renkli bölge vurulduğunda B puan kazanılır ve yeşil renkli bölge vurulduğunda ise 2 puan kaybedilir.



Atış Yapan Kişiler	Renkli Bölgelere Yaptıkları Atış Sayıları			Puan
	Kırmızı Bölge	Mavi Bölge	Yeşil Bölge	
Berke	-	3	2	26
Kayra	3	-	2	56
Murat	2	2	1	-

Hedef tahtasına beşer atış yapan Berke, Kayra ve Murat'ın renkli bölgelere yaptıkları atış sayıları ve aldıkları puanlar yukarıdaki tabloda verilmiştir.

Buna göre Murat'ın atışlarından aldığı toplam puan kaçtır?

A) 54

B) 56

C) 58

D) 60

19.

Çağla'nın evi ile okulu arası 2568 metredir. Çağla evden çıktıktan sonra 1439 metre yürüyünce geriye gidecek kaç metre yolu kalır?

Merve yukarıda verilen problemin çözümünü önce sayıları en yakın onluğa yuvarlayarak yapıyor daha sonra da gerçek işlemi yaparak sonucu buluyor.

Buna göre Merve'nin yaptığı iki işlemin sonucu arasındaki fark kaçtır?

A) 0

B) 1

C) 2

D) 3



20. İlimizde bulunan tiyatro salonu pazar günü sergilediği oyundan, seyircilere satmış olduğu biletler sayesinde 2862 TL gelir elde etmiştir.



Tiyatro oyununda 153 yetişkin bileti satıldığına göre öğrenci bileti kaç adet satılmıştır?

- A) 130 B) 125 C) 120 D) 112

21. Melih Öğretmen, fen bilimleri dersinde Dünya'nın dönme ve dolanma hareketi konusunu öğrencilerine anlattıktan sonra konunun daha iyi anlaşılması için bu hareketlere gündelik hayattan örnek vermek istiyor. Bunun için görsellerde verilenleri akıllı tahtadan gösteriyor. Daha sonra öğrencilerinden Dünya'nın dönme ve dolanma hareketini verilen görsellerle eşleştirmelerini istiyor.

Buna göre yapılacak eşleştirmede kullanılacak görseller hangi seçenekte doğru verilmiştir?

A) Dönme



Dolanma



B)

Dönme



Dolanma



C)

Dönme



Dolanma



D)


Dönme




Dolanma




22.



V mıknatısı



Y mıknatısı



Z mıknatısı

Yukarıdaki birbirine benzer nitelikte olan V, Y, Z mıknatılarıyla ilgili olarak,

- ♦ Y mıknatısı ile V mıknatısı arasında çekme kuvveti oluşuyor ve birbirlerine yaklaşıyorlar.
 - ♦ Y mıknatısı ile Z mıknatısı arasında itme kuvveti oluşuyor ve birbirlerinden uzaklaşıyorlar.
- ifadelerine yer verilmiştir.

Buna göre mıknatısların "★, ▲, ♥" sembollerinin olduğu kutuplar hangisi olabilir?

	★	▲	♥
A)	N	N	S
B)	S	N	N
C)	N	S	N
D)	S	N	S

23. Bir öğrenci numaralanmış eşyalarda, mıknatısın kullanılıp kullanılmadığını aşağıda verilen tabloda gibi cevaplıyor.

	Eşya	Mıknatıs kullanılıyor mu?
I.	Buzdolabı	Evet
II.	Bilgisayar	Hayır
III.	Ütü	Hayır
IV.	MR cihazı	Evet

Buna göre öğrencinin numaralanmış hangi eşyalar için verdiği cevaplar doğrudur?

- A) I ve IV B) I, II ve IV C) I, III ve IV D) I, II, III ve IV

24. Isı ve sıcaklık ile ilgili,
- I. Sıcak çayın içerisine bırakılan kaşığa, çaydan kaşığa doğru ısı akışı olur.
 - II. Soğuk hava, vücudumuza temas ettiğinde vücudumuza ısı verir ve ısı alan vücudumuz terler.
 - III. Kışın kar topu oynarken ellerimizden soğuk havaya doğru ısı akışı olduğundan ellerimizin soğuduğunu hissederiz.
 - IV. Yanan kalorifer peteği odadan ısı alarak odayı ısıtır.
- bilgilerinden hangileri doğrudur?
- A) I ve II B) I ve III C) II ve III D) II ve IV

25. Bir evin oturma odasında değişik sıcaklık derecelerine sahip maddeler bulunmaktadır.



Oturma odasının sıcaklığı 25°C olduğuna göre numaralanmış maddelerden hangileri ortamdaki ısı alır, hangileri ortama ısı verir?

	Isı Alanlar	Isı Verenler
A)	I ve II	III ve IV
B)	I ve III	II ve IV
C)	II ve III	I ve IV
D)	II ve IV	I ve III

26. Begüm, maddelerde meydana gelen hâl değişimleri ile ilgili doğru - yanlış etkinliğini aşağıdaki gibi işaretlemiştir.

	İfadeler	Doğru	Yanlış
I.	Buzluğa konulan kıyma donar.	✓	
II.	Kızgın tavaya atılan margarin erir.	✓	
III.	Buharlaşmada madde dışarıdan ısı alır.		✓
IV.	Erime olayında madde dışarıya ısı verir.	✓	

Buna göre Begüm numaralanmış bilgilerin hangilerinde hatalı işaretleme yapmıştır?

- A) Yalnız III B) I ve II C) I ve III D) III ve IV

27. Aşağıda numaralanmış bazı karışımlar verilmiştir.

I. Un ve pirinç	II. Makarna ve su	III. Odun talaşı ve demir tozu	IV. Tuz ve mercimek
-----------------	-------------------	--------------------------------	---------------------

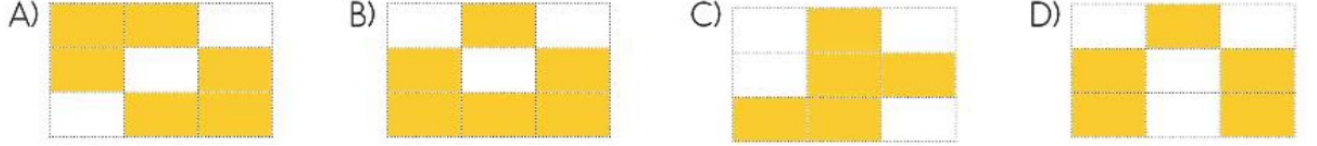
Buna göre numaralanmış karışımları birbirinden ayırmak için sırasıyla hangi yöntemler kullanılabilir?

	I	II	III	IV
A)	eleme	süzme	mıknatısla ayırma	süzme
B)	süzme	eleme	süzme	eleme
C)	eleme	süzme	mıknatısla ayırma	eleme
D)	süzme	eleme	eleme	süzme

28. Aşağıdaki tabloda yer alan maddelerden karışım olanların bulunduğu kutucuk boyanacaktır.

Bakır	Ayran	Gümüş
Limonata	Alüminyum	Hava
Deniz suyu	Reçel	Çorba

Buna göre boyama işlemi tamamlandığında tablodaki kutucukların son görünümü nasıl olur?



29. Alper yemek tuzu, çakıl taşı ve kobalt tozundan oluşan bir karışımı ayırtmak istiyor. Önce mıknatıs kullanarak maddelerden birini ayırıyor.



Yemek tuzu



Çakıl taşı



Kobalt tozu

Buna göre kalan karışımı ayırtmak için aşağıdaki seçeneklerden hangisini yapmalıdır?

- A) Tekrar mıknatıs kullanıp sonra suyla karıştırmalıdır.
B) Bir kap içinde suya koyup süzme yapmalıdır.
C) Karışımı uygun bir elekten geçirerek elemelidir.
D) Karışma su ilave edip suda yüzenleri almalıdır.

30.

Saf Madde	Karışım
I. Tuz	a. Salata
II. Altın	b. Çorba
III. Kolonya	c. Limonata
IV. Şeker	d. Bakır tozu

Mehmet, saf madde ve karışımlara ait yukarıdaki tabloyu hazırlarken bazı maddelerin sınıflandırmasında hata yapmıştır.

Buna göre hangi maddelerin yerleri değiştirildiğinde bu karışıklık giderilmiş olur?

- A) I – c B) II – d C) III – d D) IV – b

31.



Atakan

Tablet ve bilgisayar oyunlarını çok seviyorum. Oyuna başladığımda zamanın nasıl geçtiğini anlamıyorum, saatlerce oyun oynuyorum. Oyunu hiç bırakmak istemiyorum. Bu oyun tutkum; boyun ağrısına, gözlerimin bozulmasına, derslere ilgimin azalmasına, geç saatlere kadar uykusuz kalmama neden oluyor.

Buna göre Atakan ile ilgili,

- I. Sağlığına dikkat etmektedir.
II. Tablet ve bilgisayar oyununa ilgisi, ihtiyaçlarının önüne geçmiştir.
III. Sorumluluklarını yerine getirmektedir.

ifadelerinden hangileri söylenebilir?

- A) Yalnız I B) Yalnız II C) I ve II D) II ve III

32. “Mustafa Kemal Paşa, Mondros Ateşkes Anlaşması'na dayanarak İstanbul Boğazı'na demirlemiş düşman gemilerini gördüğünde “Geldikleri gibi geri giderler!” sözünü söylemiştir.”

Bu söz, Mustafa Kemal hakkında;

- I. Düşmanı yurdumuzdan atmaya kararlı olduğu,
- II. Ümitsizliğe kapıldığı,
- III. Vatanın düşmanlardan kurtarılacağına inandığı yargılarından hangilerini desteklemektedir?

- A) Yalnız I B) I ve II C) II ve III D) I ve III

33. Gizem Öğretmen, sınıftaki öğrencilerden yön bulma ile ilgili örnekler vermesini istemiştir. Öğrenciler,

 <p>Arda</p> <p>Pusulanın renkli ucu her zaman güneyi gösterir.</p>	 <p>Filiz</p> <p>Kutup Yıldızı'na yüzümüzü döndüğümüzde arkamız kuzeyi gösterir.</p>	 <p>Harun</p> <p>Öğle vaktinde yere dikilen çubuğun gölge boyu en kısa seviyededir. Bu esnada gölgenin en kısa olduğu yön doğuyu gösterir.</p>	 <p>Şule</p> <p>Sabahleyin Güneş'in doğduğu yere sağ kolumuzu uzatırsak yüzümüzü döndüğümüz taraf kuzeyi gösterir.</p>
--	---	---	---

bilgilerini vermişlerdir.

Buna göre öğrencilerden hangisinin yön bulma tarifinde verdiği bilgi doğrudur?

- A) Arda B) Filiz C) Harun D) Şule



Yukarıda numaralanmış teknolojik ürünlerle ilgili,

- I. I ve IV numaralı ürünler sağlık alanında kullanılmaktadır.
 - II. III ve V numaralı ürünler sadece eğlenme amaçlı kullanılan ürünlerdir.
 - III. II numaralı ürün hem eğlenme ve bilgi edinme alanında hem de eğitim amaçlı kullanılan bir üründür.
- ifadelerinden hangileri yanlıştır?

- A) Yalnız I B) Yalnız II C) I ve III D) II ve III

35. « Okullarda yılda en az bir kere deprem tatbikatı düzenlenmektedir. Burada amaç öğrencilerin deprem sırasında ve sonrasında yapması gereken kuralları uygulamalı olarak öğrenmesi hedeflenmektedir. Okullarda deprem tatbikatı çalan siren sesiyle başlamaktadır. »

Mert, okullarında düzenlenen deprem tatbikatında sınıfta bulunuyordu.

Mert duyduğu siren sesiyle,

- I. Hızlı ve acilen sınıfı terk edip asansöre binmelidir.
- II. Sınıfta başını iki elinin arasına alarak sırasının altına çömelmelidir.
- III. Sınıfın penceresinin önüne yaklaşmalıdır.
- IV. Depremin sarsıntısının bitimini temsil eden siren sesinin durmasıyla, öğretmenin kontrolünde sınıftan çıkmalıdır.

maddelerinden hangilerini yaparsa deprem tatbikatında bilinçli davranmamış olur?

- A) I ve II B) I ve III C) II ve IV D) I, II ve III



Abel : ----?

Elina : Of course, you may.

Verilenlere göre Abel hangi soruyu sormuştur?

A) May I come in

B) May I join your game

C) May I turn on the lights

D) May I help you

37.



Görsele göre yukarıdaki boşluğa hangi ifade gelmelidir?

A) desk

B) ruler

C) pencil case

D) book

38.

Hello, children! I'm Mary.
I'm forty-nine years old.



Mary'nin cümlesindeki sayı hangisidir?

- A) 19 B) 29 C) 49 D) 39

39.

Whose book is this?

Yukarıdaki sorunun cevabı hangisi olamaz?

A) This is a book.

B) It is Kate's book.

C) It is my book.

D) It is his book.

40.



Peter is strong.
He can - - - - heavy
things.

İfadedeki boşluğa hangi kelime gelmelidir?


A) carry

B) climb

C) do

D) fly


41.



Verilenlere göre Arthur hangi soruyu sormuştur?

- A) Where can you do B) Can you dance C) Can you swim D) What can you do

42.



Verilenlere göre Anna hangi soruyu sormuş-
tur?

- A) Do you like climbing trees
- B) Do you like taking photos
- C) Do you like reading books
- D) Do you like reading comics

43.



Cümleyi tamamlayan doğru ifade hangisidir?

A) riding a bike

B) swimming

C) driving


D) planting trees

44.

Victor : What time is it?
Raynold : It's eleven o'clock.

Diyaloğa göre hangi saat doğrudur?

A)




B)



C)



D)



45.

I have lunch - - - -
twelve o'clock
- - - - the
afternoon.



Cümledeki boşluklara sırasıyla hangileri gelmelidir?

A) in / in B) at / at C) at / in D) in / at

46. "Selamün Aleyküm" sözünün anlamı aşağıdakilerden hangisidir?

- A) Allah zihin açıklığı versin.
- B) Allah'tan af ve bağışlama isterim.
- C) Barış ve güven üzerinize olsun.
- D) Allah hepimizi korusun.

47. Allah'ım! Sen eksik sıfatlardan pak ve uzaksın. Seni daima böyle tenzih eder ve överim. Senin adın mübarektir. Varlığın her şeyden üstündür. Senden başka ilah yoktur.

Metindeki Sübhaneke duasının anlamından aşağıdakilerden hangisi çıkarılamaz?

- A) Allah'ın bütün eksikliklerden uzak olduğunu bildirir.
- B) Rabb'imizin insanı en güzel şekilde yarattığını bildirir.
- C) Rabb'imize övgüler içerir.
- D) Allah'ın bir ve tek olduğunu bildirir.


48.  Melekler günah işlemezler ve Allah'ın (c.c.) emrini yerine getirirler.  Allah'a ibadet ederler ve onu yüceltirler.

 Melekler, insanların iyiliğini ister ve bunun için Allah'a (c.c.) dua ederler.

Yukarıdaki öğrencilerden hangilerinin meleklerle iman ile ilgili ifadeleri doğrudur?

- A) Yalnız Mehmet
- B) Mehmet ve Selin
- C) Selin ve Salih
- D) Mehmet, Selin ve Salih

49.

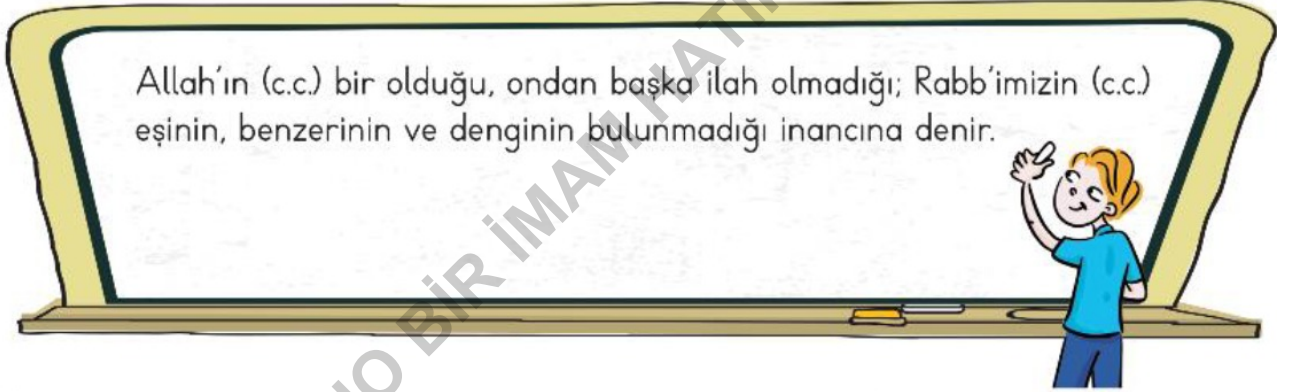


Yılın belirli bir zamanında (Kurban Bayramı zamanında) Mekke'de bulunan görseldeki yerin ve çevresindeki kutsal yerlerin ziyaret edilmesiyle gerçekleşen ibadete hac ibadeti denir.

Aşağıdakilerden hangisi görseldeki yerin ismidir?

- A) Kabe B) Kudüs C) Mescidi Nebi D) Ayasofya

50.



Allah'ın (c.c.) bir olduğu, ondan başka ilah olmadığı; Rabb'imizin (c.c.) eşinin, benzerinin ve denginin bulunmadığı inancına denir.

Ali'nin tahtaya yazdığı bu kavram aşağıdakilerden hangisidir?

- A) Tevhit B) Şehadet C) Şükür D) İbadet

Ad - Soyad

- | | A | B | C | D | | A | B | C | D | | A | B | C | D | | |
|----|-----------------------|-----------------------|-----------------------|-----------------------|---|----|-----------------------|-----------------------|-----------------------|-----------------------|---|----|-----------------------|-----------------------|-----------------------|-----------------------|
| 1 | <input type="radio"/> | <input type="radio"/> | <input type="radio"/> | <input type="radio"/> | ■ | 21 | <input type="radio"/> | <input type="radio"/> | <input type="radio"/> | <input type="radio"/> | ■ | 41 | <input type="radio"/> | <input type="radio"/> | <input type="radio"/> | <input type="radio"/> |
| 2 | <input type="radio"/> | <input type="radio"/> | <input type="radio"/> | <input type="radio"/> | | 22 | <input type="radio"/> | <input type="radio"/> | <input type="radio"/> | <input type="radio"/> | | 42 | <input type="radio"/> | <input type="radio"/> | <input type="radio"/> | <input type="radio"/> |
| 3 | <input type="radio"/> | <input type="radio"/> | <input type="radio"/> | <input type="radio"/> | | 23 | <input type="radio"/> | <input type="radio"/> | <input type="radio"/> | <input type="radio"/> | | 43 | <input type="radio"/> | <input type="radio"/> | <input type="radio"/> | <input type="radio"/> |
| 4 | <input type="radio"/> | <input type="radio"/> | <input type="radio"/> | <input type="radio"/> | | 24 | <input type="radio"/> | <input type="radio"/> | <input type="radio"/> | <input type="radio"/> | | 44 | <input type="radio"/> | <input type="radio"/> | <input type="radio"/> | <input type="radio"/> |
| 5 | <input type="radio"/> | <input type="radio"/> | <input type="radio"/> | <input type="radio"/> | | 25 | <input type="radio"/> | <input type="radio"/> | <input type="radio"/> | <input type="radio"/> | | 45 | <input type="radio"/> | <input type="radio"/> | <input type="radio"/> | <input type="radio"/> |
| 6 | <input type="radio"/> | <input type="radio"/> | <input type="radio"/> | <input type="radio"/> | | 26 | <input type="radio"/> | <input type="radio"/> | <input type="radio"/> | <input type="radio"/> | | 46 | <input type="radio"/> | <input type="radio"/> | <input type="radio"/> | <input type="radio"/> |
| 7 | <input type="radio"/> | <input type="radio"/> | <input type="radio"/> | <input type="radio"/> | | 27 | <input type="radio"/> | <input type="radio"/> | <input type="radio"/> | <input type="radio"/> | | 47 | <input type="radio"/> | <input type="radio"/> | <input type="radio"/> | <input type="radio"/> |
| 8 | <input type="radio"/> | <input type="radio"/> | <input type="radio"/> | <input type="radio"/> | | 28 | <input type="radio"/> | <input type="radio"/> | <input type="radio"/> | <input type="radio"/> | | 48 | <input type="radio"/> | <input type="radio"/> | <input type="radio"/> | <input type="radio"/> |
| 9 | <input type="radio"/> | <input type="radio"/> | <input type="radio"/> | <input type="radio"/> | ■ | 29 | <input type="radio"/> | <input type="radio"/> | <input type="radio"/> | <input type="radio"/> | | 49 | <input type="radio"/> | <input type="radio"/> | <input type="radio"/> | <input type="radio"/> |
| 10 | <input type="radio"/> | <input type="radio"/> | <input type="radio"/> | <input type="radio"/> | | 30 | <input type="radio"/> | <input type="radio"/> | <input type="radio"/> | <input type="radio"/> | | 50 | <input type="radio"/> | <input type="radio"/> | <input type="radio"/> | <input type="radio"/> |
| 11 | <input type="radio"/> | <input type="radio"/> | <input type="radio"/> | <input type="radio"/> | | 31 | <input type="radio"/> | <input type="radio"/> | <input type="radio"/> | <input type="radio"/> | | | | | | |
| 12 | <input type="radio"/> | <input type="radio"/> | <input type="radio"/> | <input type="radio"/> | ■ | 32 | <input type="radio"/> | <input type="radio"/> | <input type="radio"/> | <input type="radio"/> | ■ | | | | | |
| 13 | <input type="radio"/> | <input type="radio"/> | <input type="radio"/> | <input type="radio"/> | | 33 | <input type="radio"/> | <input type="radio"/> | <input type="radio"/> | <input type="radio"/> | | | | | | |
| 14 | <input type="radio"/> | <input type="radio"/> | <input type="radio"/> | <input type="radio"/> | | 34 | <input type="radio"/> | <input type="radio"/> | <input type="radio"/> | <input type="radio"/> | | | | | | |
| 15 | <input type="radio"/> | <input type="radio"/> | <input type="radio"/> | <input type="radio"/> | | 35 | <input type="radio"/> | <input type="radio"/> | <input type="radio"/> | <input type="radio"/> | | | | | | |
| 16 | <input type="radio"/> | <input type="radio"/> | <input type="radio"/> | <input type="radio"/> | | 36 | <input type="radio"/> | <input type="radio"/> | <input type="radio"/> | <input type="radio"/> | | | | | | |
| 17 | <input type="radio"/> | <input type="radio"/> | <input type="radio"/> | <input type="radio"/> | | 37 | <input type="radio"/> | <input type="radio"/> | <input type="radio"/> | <input type="radio"/> | | | | | | |
| 18 | <input type="radio"/> | <input type="radio"/> | <input type="radio"/> | <input type="radio"/> | | 38 | <input type="radio"/> | <input type="radio"/> | <input type="radio"/> | <input type="radio"/> | | | | | | |
| 19 | <input type="radio"/> | <input type="radio"/> | <input type="radio"/> | <input type="radio"/> | | 39 | <input type="radio"/> | <input type="radio"/> | <input type="radio"/> | <input type="radio"/> | | | | | | |
| 20 | <input type="radio"/> | <input type="radio"/> | <input type="radio"/> | <input type="radio"/> | | 40 | <input type="radio"/> | <input type="radio"/> | <input type="radio"/> | <input type="radio"/> | | | | | | |

Form ID: 10010504000