

1. Bilgi ve haber vermek, düşündürmek, tanıtmak gibi amaçlarla yazılan metinlere bilgilendirici metin denir.

Buna göre aşağıdakilerden hangisi bilgilendirici bir metindir?

- A) Günlerden bir gün çok hızlı koştuğuna inanan tavşan ile kaplumbağa yarışmaya karar vermişler. Tavşan epey yol aldıktan sonra "Nasil olsa kaplumbağa sürüne sürüne geliyor, bana yetişemez." diye düşünüp bir ağacın altında uyuyakalmış. Kaplumbağa ise kararlı, düzgün adımlarla yürüdüğü için tabii ki yarışı kazanmış, tavşan aldırış etmemenin cezasını çekmiş ve yarışı kaybetmiş.
- B) Yılbaşı gecesi yağan kar, yeni yılın müjdecisi gibiydi. Babam ve annemle sitemizin bahçesine inerek birlikte kocaman bir kardan adam yaptık, burnunu havuçtan yaptık. Yeni yıla bahçedeki kardan adamla "Merhaba!" dedik.
- C) Göbeklitepe Arkeolojik Alanı, Şanlıurfa kent merkezinin 18 km kuzeydoğusunda Örencik köyü yakınındadır. Alanın gerçek değeri, 1994 yılından sonra başlatılan kazı çalışmaları ile ortaya çıkmaya başlamıştır. Bu çalışmalar sonrasında Göbeklitepe'nin on iki bin yıl öncesine uzanan bir tapınma merkezi olduğu anlaşılmıştır.
- D) Evvel zaman içinde Keloğlan yaşlı ninesiyle yaşarmış. Bir gün ninesi, Keloğlan'ın tembelliğine artık dayanamamış ve evden kovmuş. Keloğlan epey gittikten sonra devlere rastlamış, tahtadan kılıcı ile devlerden bir çuval altın istemiş. Devler, Keloğlan'dan kurtulmak için türlü planlar yapsalar da bu planların hepsini bozmuş. Sonunda Keloğlan bir çuval altınla köye dönmüş.

2.

1. Soğuk bir kış gününde komşum sıcak bir çorba verdi.
2. Anneme doğum gününde gül aldım.
3. Bu gördüğüm rüya mı, düş mü?

Bülent, Canan ve Filiz teneffüste sınıf tahtasına yukarıdaki cümleleri yazmışlardır. Bu cümleleri kimin yazdığına dair arkadaşlarına şu bilgileri vermişlerdir:



Bülent

Cümlede eş anlamlı sözcükleri birlikte kullandım.

Cümlede zıt anlamlı sözcükleri birlikte kullandım.



Canan



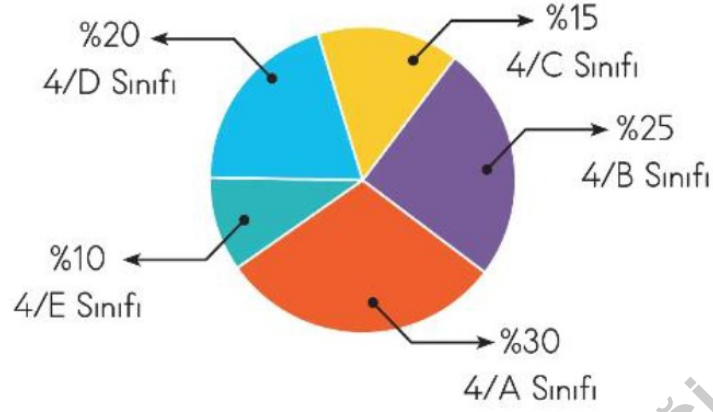
Filiz

Cümlede eş sesli sözcük kullandım.

Buna göre tahtadaki cümleleri kimlerin yazdığı aşağıdakilerden hangisinde doğru verilmiştir?

	1	2	3
A)	Filiz	Canan	Bülent
B)	Canan	Bülent	Filiz
C)	Bülent	Filiz	Canan
D)	Canan	Filiz	Bülent

3. Bir ilkokulda 4. sınıflar arasında aylık kitap okuma yarışması yapılmıştır. Aşağıdaki grafikte bu sınıfların bir ay boyunca okudukları kitap sayıları gösterilmiştir.



Bu tabloya göre aşağıdaki bilgilerden hangisine ulaşılmaz?

- A) Bir ay boyunca en az kitap okuyan sınıf 4/E sınıfıdır.
B) 4/D sınıfı ile 4/E sınıfının bir ay içerisinde okuduğu kitapların toplamı 4/A sınıfına eşittir.
C) 4/B sınıfı ile 4/C sınıfının bir ay içerisinde okuduğu kitapların toplamı 4/A sınıfından azdır.
D) Bir ay içerisinde en çok kitap okuyan sınıf 4/A sınıfıdır.

4.



Bir gün Nasrettin Hoca'nın canı etli bir yahni çeker. Kasaptan bir kilo et alıp eve gönderir. Hoca'nın karısı yahniyi pişirirken komşuları gelir. Eli açık olan kadıncağız, karınları zil çalan komşularına yahniyi ikram eder. Hoca, akşam eve gelir ve sofraya oturur. Az sonra karısı önüne bir tabak bulgur pilavı, bir tas ayran koyar. Hoca sinirlenerek "Yahni nerede?" diye sorar. Karısının etekleri tutuşur.

— Efendi, eti bizim Tekir yedi.

Bu sözü duyan Hoca, yerinden fırlar ve kediyi aramaya başlar. Bir süre sonra Tekir'i bulur ama kedinin yürüyecek hâli yoktur. İskelet gibi bir deri bir kemiktir.

Bunun üzerine Hoca, kediyi tartar ve tam bir kilo gelir. Karısına şöyle der:

— Hatun! Şu gördüğün Tekir tam bir kilo geldi. Öyleyse aldığım et nerede? Şayet bu et ise bizim Tekir nerede?

Bu fıkradaki deyimlerin anlamları aşağıda verilmiştir.

- I. Eli açık: Cömert, çok para harcayan.
- II. Karnı zil çalmak: Çok acıkmış olmak.
- III. Etekleri tutuşmak: Çok sevinmek.
- IV. Bir deri bir kemik kalmak: Çok zayıflamış olmak.

Buna göre numaralanmış deyimlerden hangisinin anlamı yanlış verilmiştir?

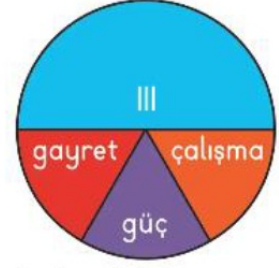
A) I

B) II

C) III

D) IV

5. Aşağıdaki dairelerde numaralanmış yerlere altındaki sözcüklerin çağrıştırdığı en uygun kavram yazılacaktır.



Buna göre numaralanmış yerlere getirilecek kavramlar aşağıdakilerin hangisinde sırasıyla doğru verilmiştir?

	I	II	III
A)	defter	çığ	çaba
B)	kitap	yağış	başarısızlık
C)	öykü	çığ	mücadele
D)	kitap	yağış	çaba

- 6.

Nasrettin Hoca bir iş için Konya'ya gider. Yolda adamın biri Hoca'yı durdurur.

() Affedersin, Hoca Efendi, bugün ayın kaçını biliyor musun() diye sorar.

Hoca()

() Nerden bileyim() ben buranın yabancısıyım() diye cevap verir.

Bu metinde () ile belirtilen yerlere aşağıdaki noktalama işaretlerinden hangisi getirilemez?

- A) İki nokta (:) B) Virgül (,) C) Soru işareti (?) D) Uzun çizgi (—)

7. I. Babamla zaman zaman balık avlamaya gideriz.
 II. Biz neredeysse bir saattir burada oturuyoruz.
 III. İlkokul arkadaşım Eda ile ara sıra markette karşılaşıyoruz.
 IV. İzmir uçağının inmesini tam iki saattir bekliyoruz.
 Yukarıda numaralanmış cümlelerdeki altı çizili sözcüklerden hangileri aynı anlamda kullanılmıştır?
 A) I ve II B) I ve III C) II ve IV D) III ve IV

8. Ali, yazdığı cümlede "karşılaştırma" yapmıştır. Betül, cümlesinde "benzetme" yapmıştır.
 Ömer, yazdığı cümlede "neden - sonuç" ilişkisine örnek vermiştir. Nida, cümlesinde hem "benzetme" hem de "karşılaştırma" yapmıştır.
 1. Dersi dinlemediğinden konuya örnek yazmadı. 2. Pamuk gibi elleriyle dünyanın en güzel insanıdır annem.
 3. Kimseyi görmedim ben, senden daha özel. 4. Bulaşıklar dağ gibi yığılmıştı.

Buna göre numaralanmış cümleleri yazan öğrenciler hangi seçenekte doğru verilmiştir?

	1	2	3	4
A)	Ali	Nida	Ömer	Betül
B)	Ömer	Nida	Ali	Betül
C)	Betül	Nida	Ömer	Ali
D)	Nida	Betül	Ali	Ömer

9. Arzu, Leyla, Serpil ve Büşra bir torbadan sözcük seçerek bu sözcükleri mecaz anlama gelecek şekilde bir cümlede kullanarak puan alacaklardır. Öğrencilerin seçtikleri sözcükler ve kurdukları cümleler şu şekildedir:

Öğrenciler	Seçtikleri Sözcükler	Kurdukları Cümleler
Arzu	ağır	Arkadaşına çok ağır sözler söyledi.
Leyla	ince	Bu ince davranışıyla herkesin sevgisini kazandı.
Serpil	sıcak	Fırından sıcak ekmek aldım.
Büşra	temiz	Dedem kalbi temiz bir insandı.

Buna göre hangi öğrenci puan alamamıştır?

- A) Arzu B) Leyla C) Serpil D) Büşra

10. Bir sözcüğün akla gelen ilk anlamına "gerçek anlam", gerçek anlamından tamamen uzaklaşarak kazandığı yeni anlama ise "mecaz anlam" denir.

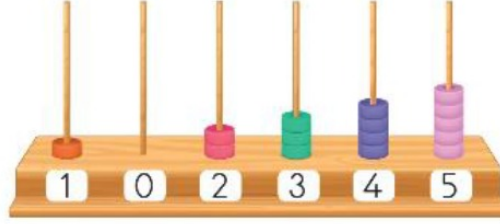
Buna göre,

En büyük ışık kaynağımız olan Güneş'in gündüzleri Dünya'yı aydınlatması gibi kitapların			
1	2	3	
sayfaları da karanlık düşüncelerimizi aydınlatan sonsuz ve sönmez kaynaklardır.			
4			

cümlesinde numaralanmış sözcüklerden hangisi mecaz anlamda kullanılmıştır?

- A) 1 B) 2 C) 3 D) 4

11. Aşağıdaki abaküse boncuklar dizilerek altı basamaklı "yüz iki bin üç yüz kırk beş" sayısı oluşturuluyor.



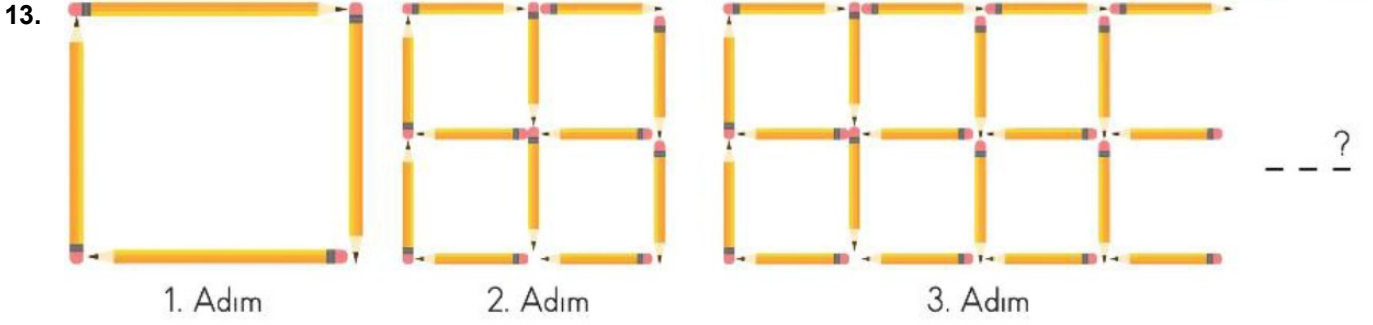
Abaküsün üzerindeki boncuklar kullanılarak altı basamaklı rakamları farklı en büyük doğal sayı oluşturulabilmesi için kaç adet daha boncuk gereklidir?

- A) 15 B) 18 C) 21 D) 24
12. Altı basamaklı bir sayı hakkında bilinenler şunlardır:

- Tüm rakamları birbirinden farklıdır.
- On binler basamağındaki sayının basamak ve sayı değerleri toplamı 90009'dur.
- Yüzler basamağındaki sayının basamak ve sayı değerleri farkı 594'tür.

Buna göre verilen koşulları sağlayan en büyük sayı aşağıdakilerden hangisidir?

- A) 798 564 B) 879 657 C) 897 654 D) 998 675



Yukarıda oluşturulan şekil örüntüsünün 1. adımında 4 kalem, 2. adımında 12 kalem kullanılmıştır.

Örüntüyü bu şekilde devam ettiren Yeliz, 5. adımı tamamladığında toplam kaç kalem kullanmış olur?

- A) 36 B) 64 C) 100 D) 108

14.

<u>Belinay</u> 6 453 + 3 269 -----	<u>Simay</u> 4578 + 252 -----
---	--

Öğretmen, Belinay ve Simay'ı tahtaya yazdığı işlemleri yapmaları için kaldırıyor. Belinay ve Simay işlemleri doğru şekilde yapıyorlar.

Buna göre iki öğrencinin yaptığı toplama işlemlerinin sonuçlarıyla ilgili verilen ifadelerden hangisi yanlıştır?

- A) Belinay'ın yaptığı işlemin sonucunda birler basamağı ile onlar basamağındaki rakamlar aynıdır.
 B) Simay'ın yaptığı işlemin sonucunun binler basamağında 4 rakamı yer alır.
 C) Belinay'ın yaptığı işlemin sonucunun yüzler basamağında 6 rakamı yer alır.
 D) Simay'ın yaptığı işlemin sonucunda bulunan sayının en yakın yüzlüğü 4800'dür.

15.

$$\begin{array}{r} 7293 - 4685 = \\ \swarrow \quad \searrow \\ +6 \quad -4 \end{array}$$

Yukarıdaki çıkarma işleminde eksilenin yüzler basamağındaki rakam 6 artırılıyor, çıkanın yüzler basamağındaki rakam 4 eksiltiyor.

Buna göre yapılan çıkarma işleminde yeni farkta nasıl bir değişim olur?

- A) Fark 1000 artar. B) Fark 200 artar. C) Fark 400 azalır. D) Fark 1000 azalır.

16. Çuval yarışması geleneksel oyunlarımızdandır. Çuval giyen yarışmacılar başlangıç çizgisine dizilir. Komut ile beraber herkes varış noktasına doğru zıplamaya çalışır. Varış noktasına ilk ulaşan yarışmayı kazanır.





Görseldeki yarışmacıların buldukları noktalardan başlayıp önlerine çıkan işlemleri yaparak bitiş çizgisindeki bayrağa ulaşmaları gerekmektedir.

Yarışmayı bayrağındaki sayı en büyük olan oyuncu kazandığına göre yarışı kim kazanmıştır?

- A) Sinem B) İpek C) Elif D) Ayşe

17.

<p>Çamaşır makinesi</p>  <p>3233 TL</p>	<p>Buzdolabı</p>  <p>3133 TL</p>	<p>Televizyon</p>  <p>3333 TL</p>	<p>Elektrik Süpürgesi</p>  <p>3033 TL</p>
--	---	---	--

Görselde verilen ürünlerden Ahmet Bey fiyatı en düşük üç ürünü, Hüseyin Bey ise fiyatı en yüksek üç ürünü satın almıştır.

Buna göre Hüseyin Bey, Ahmet Bey'den kaç TL fazla ödemiştir?

- A) 200 TL B) 300 TL C) 400 TL D) 500 TL

18. Aşağıdaki bulmacada, her kutuya bir rakam gelecek şekilde 4 basamaklı sayılar yazılmıştır. Bu sayılar en yakın onluğa yuvarlanarak karşılarındaki kutulara yazılacaktır.

<p>Sayı</p> <table border="1" style="border-collapse: collapse; width: 100px; height: 100px;"> <tr> <td style="text-align: center;">3</td> <td style="text-align: center;">1</td> <td style="text-align: center;">7</td> <td style="text-align: center;">5</td> </tr> <tr> <td style="text-align: center;">2</td> <td style="text-align: center;">0</td> <td style="text-align: center;">0</td> <td style="text-align: center;">8</td> </tr> </table>	3	1	7	5	2	0	0	8	<p>→</p>	<p>En Yakın Onluk</p> <table border="1" style="border-collapse: collapse; width: 100px; height: 100px;"> <tr> <td style="width: 25px; height: 25px;"></td> <td style="width: 25px; height: 25px;"></td> <td style="width: 25px; height: 25px; background-color: #00aaff;"></td> <td style="width: 25px; height: 25px;"></td> </tr> <tr> <td style="width: 25px; height: 25px;"></td> <td style="width: 25px; height: 25px;"></td> <td style="width: 25px; height: 25px; background-color: #ff0000;"></td> <td style="width: 25px; height: 25px;"></td> </tr> </table>								
3	1	7	5															
2	0	0	8															

Buna göre renkli kutulara yazılacak rakamların farkı kaçtır?

- A) 6 B) 7 C) 8 D) 9


19. Tuna Öğretmen, dil çubuklarına dörder basamaklı iki doğal sayı yazmış ve bu dil çubuklarını aşağıdaki gibi bir kısımları üst üste gelecek şekilde bırakmıştır.



Üst üste konulan dil çubuklarında yazan sayıların toplamı 8234'tür.

Buna göre alt tarafta kalan dil çubuğundaki onlar ve birler basamaklarındaki rakamların sayı değerleri toplamı kaçtır?

- A) 10 B) 11 C) 12 D) 13

20.  Yandaki çiçeğin ortasında bulunan bölme işleminin tahminî sonucu, bölünen ile bölen en yakın onluğa yuvarlanarak bulunacaktır.
- Buna göre tahminî sonuç ile gerçek sonuç arasındaki fark çiçeğin hangi yaprağında verilmiştir?

- A) ● B) ★ C) ■ D) ♥

21. Aşağıda boş bir beslenme şeması ve numaralanmış yerlerde olması gereken besin maddeleri verilmiştir.



Besin Maddeleri	
a	Tahıl ve tahıl ürünleri
b	Meyve ve sebzeler
c	Yağ ve şeker oranı yüksek yiyecekler
d	Et, balık ve baklagiller
e	Süt ve süt ürünleri

Buna göre sağlıklı beslenme şemasında numaralanmış yerlere yazılması gereken besin maddeleri aşağıdakilerin hangisinde doğru verilmiştir?

	1.	2.	3.	4.	5.
A)	a	b	c	e	d
B)	b	a	c	d	e
C)	a	b	e	c	d
D)	d	b	d	c	e

- 22.

“Betül, şiddetli karın ağrısı, kusma ve bulantı şikâyetiyle babası tarafından doktora götürülür. Betül'ün tükettiği bir besinden zehirlendiği anlaşılır. Doktor, Betül'e gün içerisinde tükettiği besinler hakkında sorular sormuş ve zehirlenme sebebinin okul çıkışı marketten aldığı paketlenmiş sütten olabileceğini belirtmiştir. Ayrıca paketlenmiş ürünleri alırken nelere dikkat etmesi gerektiği hakkında bilgiler vermiştir.”

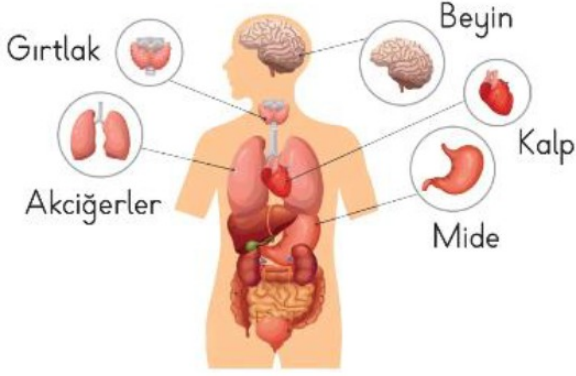
Betül ve babası eve geldiklerinde süt paketini incelediklerinde;

- I. Süt paketinin hasar görmüş olduğu,
- II. Gıda Tarım Hayvancılık Bakanlığı tarafından verilen onay numarasının olduğu,
- III. Süt paketinin üzerinde Türk Standartları Enstitüsü'nün damgası olduğu,
- IV. Süt paketinin üzerindeki son kullanma tarihinin geçmiş olduğu sonuçlarına varmışlardır.

Buna göre numaralanmış durumlarından hangileri Betül'ün zehirlenmesine neden oluşturmuştur?

- A) I ve II B) I ve III C) II ve IV D) I ve IV

23.



“ Sigara içen kişilerin vücudunda en çok etkilenen organ akciğerlerdir. Bunun yanı sıra sigara içmediği hâlde sigaraya bağlı akciğer sorunu yaşayan insanlar bulunmaktadır. Bu durumun ana sebebi sigara içmemesine rağmen sigara içilen ortamda bulunulmasıdır. Bu durumda olan kişilere pasif içici denilmektedir. ”

Bu görsel ve bilgilere göre,

- I. Sigara vücudumuzda pek çok organa zarar vermektedir.
- II. Sadece sigara içen kişilerin akciğerlerinde problem olmaktadır.
- III. Pasif içiciler bile sigara dumanına maruz kaldığında, sigara içenler kadar zarar görebilmektedir.
- IV. Sigaradan en çok etkilenen organımız akciğerlerdir.

çıkarımlarından hangilerine ulaşılır?

A) I ve II

B) I, II ve III

C) I, III ve IV

D) II, III ve IV

24.

İrem, kardeşi Begüm ile beraber sitelerindeki parka gittiler. Kardeşi Begüm, hemen kaydırağtan kaymaya başladı. İrem de arkadaşları ile yakan top oynamaya başladı.

İrem ortada iken kendisine gelen topu tutarak bir can hakkı kazandı ve arkadaşını oyuna

aldı. Ali de arkadaşlarıyla futbol maçı yapıyordu. İrem onlara bakarken Ali birden topa vurdu, vurduğu top kale direğine çarparak dışarı gitti. Bu esnada Ali, evden getirdiği pet


şişedeki suyunu içti ve elleriyle pet şişeyi buruşturarak çöp kutusuna attı. Zaman çok çabuk

geçmişti. Balkondan anneleri seslenince İrem ve kardeşi eve döndüler.

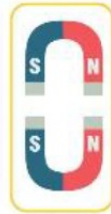
Metinde numaralanmış olaylarda kuvvetin cisimler üzerinde belirtilen etkilerinin neler olduğu hangi seçenekte doğru verilmiştir?

	I	II	III	IV
A)	Hızlanma etkisi	Yavaşlatıcı etkisi	Yön değiştirme	Şekil değiştirme
B)	Dönme etkisi	Hızlanma etkisi	Şekil değiştirme	Yavaşlatıcı etkisi
C)	Hızlanma etkisi	Yavaşlatıcı etkisi	Şekil değiştirme	Dönme etkisi
D)	Hızlanma etkisi	Şekil değiştirme	Yön değiştirme	Yavaşlatıcı etkisi

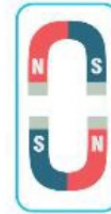
25. Metin, mıknatısın kutuplarıyla ilgili olarak aşağıda verilen deneyleri yapıyor. Metin her deneyde mıknatısları birbirine yaklaştırıyor ve her mıknatısın birbirini çekip çekmediğini gözlemliyor.



I. Deney



II. Deney

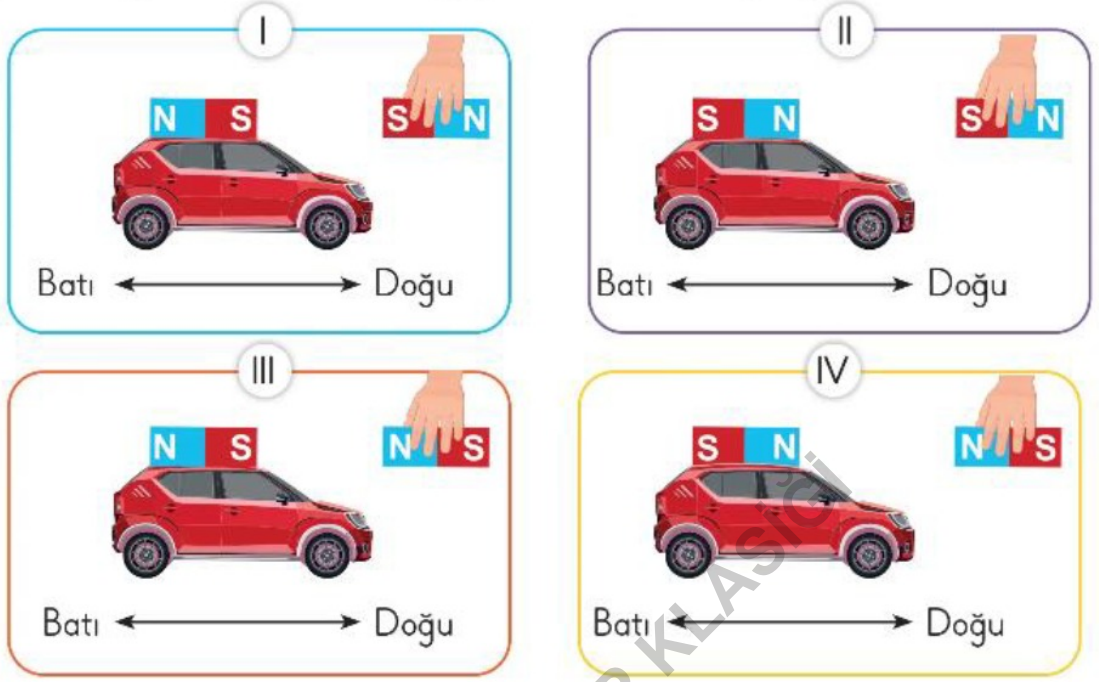


III. Deney

Buna göre Metin'in yaptığı deneylerin hangilerinde mıknatıslar birbirlerini çeker?

- A) Yalnız I B) Yalnız II C) I ve II D) I ve III

26.



Buna göre numaralanmış oyuncak arabalardan hangileri batı yönünde hareket etmiştir?

A) I ve II

B) II ve III

C) I ve IV

D) III ve IV

27. Öğrenciler, mıknatısın kullanımı ile ilgili günlük hayatımızdan şu örnekleri veriyor:



ARZU

Terziler dökülen toplu iğnelerini toplamak için kullanır.



FATMA

Hızlı manyetik trenlerinde (maglev treni) kullanılır.



ALİ

Yüksek binalardaki camları temizlemek için kullanılan aletlerde mıknatıs kullanılır.



ZAFER

Çöplerin içindeki metal maddeleri ayırmak için mıknatıs kullanılır.

Buna göre hangi öğrencilerin verdiği örnekler doğrudur?

A) Arzu ve Zafer

B) Fatma ve Ali

C) Fatma ve Zafer

D) Arzu, Fatma, Ali ve Zafer

28. Aşağıda kuvvetin etkisi altındaki bazı varlıkların görselleri verilmiştir.



1
Kalkış yapan uçak



2
Avını yakalamak için koşmaya başlayan aslan



3
Durmak için frenine basılan otomobil

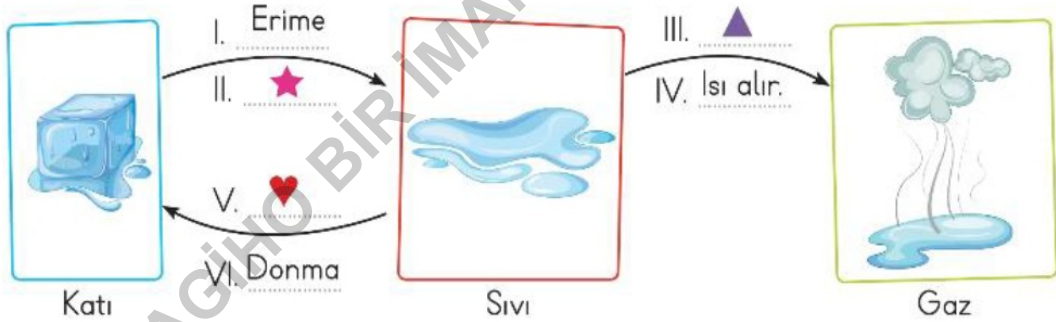


4
Daha fazla sallan-
sın diye arkasından
itilen salıncak

Buna göre numaralanmış varlıklardan hangilerine kuvvetin etkisi diğerlerinden farklı şekildedir?


- A) 1 ve 2 B) 2 ve 3 C) Yalnız 3 D) Yalnız 4


29. Aşağıdaki şemada suyun çevresi ile gerçekleştirdiği ısı alışverişleri sonucu hâl değişimleri görülmektedir.



Şemada verilen hâl değişim olaylarında boş bırakılan yerlere gelmesi gereken uygun sözcükler hangi seçenekte doğru verilmiştir?

	★	▲	♥
A)	İsy alır.	Buharlaşıma	İsy alır.
B)	İsy verir.	Erime	İsy verir.
C)	İsy alır.	Buharlaşıma	İsy verir.
D)	İsy verir.	Erime	İsy alır.

30.  Ayşe Hanım, görseldeki gibi bir ocağın üzerine koyduğu içi su dolu çaydanlıktan bir süre sonra su buharı çıktığını gözlemlemiştir.
- Bu durumla ilgili aşağıdaki ifadelerden hangisi söylenemez?
- A) Çaydanlıktaki su, ısı vermiştir. B) Çaydanlıktaki suyun sıcaklığı artmıştır.
C) Çaydanlıktaki su buharlaşmıştır. D) Çaydanlıktaki su, sıvı hâlden gaz hâline geçmiştir.

31.  Ben Merve, düşünce ve karakterimle ya da dış görünüşümle arkadaşlarımdan farklı olabilirim. Ancak bu farklılığımı arkadaşlarıma karşı bir üstünlük ya da eksiklik nedeni olarak görmem. Bu farklılığımı çevremdeki herkes doğal karşılamalı ve bir zenginlik olarak görmelidir.

Buna göre Merve için aşağıdaki yorumlardan hangisi yapılabilir?

- A) Arkadaşlarından farklı düşüncelere sahip olanlara saygı göstermez.
B) Arkadaşlarını dış görünüşlerine göre yargılar.
C) Bireysel farklılıklara saygılı olur.
D) Arkadaşlarının karakterlerini değiştirmeye çalışır.

32.

Bir ülkenin kralı en sevdiği atını kaybeder ve çok üzülür. Atı bir türlü bulunamadığı için ortaya bir ödül koyar. Herkes ödülü kazanmak için koşar gelir ama atı kimse bulamaz. Çoban, kralın huzuruna çıkar ve atı bulacağını söyler. Kral buna inanmaz. "Ülkenin en akıllı kişileri atı bulamadı da sen mi bulacaksın?" diye söylenir. Çoban bunun üzerine atı bulmak için kraldan izin ister. Çoban, atı aramaya başlar ve birkaç saat içinde atı bulur, saraya getirir. Kral bu duruma şaşırır ve çobana nasıl bulduğunu sorar. Çoban, "Çok kolay oldu kralım. Kendimi atın yerine koydum, bir at olsam nereye giderdim diye düşündüm ve onu hemen buldum."

Bu metinde çobanın dile getirmeye çalıştığı kavram aşağıdakilerden hangisidir?

- A) Saygı B) Empati C) Hoşgörü D) Duyarlılık

33. Millet; dil, tarih ve kültür birliği olan insan topluluğudur.

Bir milleti oluşturan insanlar çeşitli amaçlarla araç gereç yapar, yapılar inşa ederler. Duygu ve düşüncelerini şiir, yazı, müzik veya resim yoluyla anlatmaya çalışırlar. Uzun bir zamana yayılan bu yaşantılarının sonucunda da millî kültür adı verilen kendilerine özgü maddi ve manevi değerler meydana getirirler. Böylece her millet dili, gelenek ve görenekleri, millî kıyafetleri, bayramları, inançları, ahlaki değerleri ve sanat anlayışlarıyla başka milletlerden ayrılır.

Buna göre aşağıdaki ifadelerden hangisi Türk kültürünün özelliklerinden biri olarak kabul edilemez?

- A) Dinî bayramlarda büyüklerin elini öpmek
B) Bayramlarda ve önemli günlerde salsa, tango gibi dans oyunları oynamak
C) Misafirlere Türk kahvesi ikram etmek
D) Düğünlerde gelin kına yakmak

34.

Günler	Hava Durumu	Günler	Hava Durumu
Pazartesi	Parçalı Bulutlu	Cuma	Kapalı
Salı	Güneşli	Cumartesi	Güneşli
Çarşamba	Yağmurlu	Pazar	Yağmurlu
Perşembe	Güneşli		

Buna göre şehrin haftalık hava durumu tablosu ile ilgili aşağıdakilerden hangisi söylenemez?

- A) Güneşli gün sayısı en fazladır.
 B) Cumartesi günü hava piknik yapmak için uygundur.
 C) Çarşamba günü evden çıkarken şemsiye alınmalıdır.
 D) Yağmurlu gün sayısı, güneşli gün sayısına eşittir.

35.

Televizyon izleme süresi kadar izlenecek programın seçimi de önem taşır. Örneğin şiddet içeren programları izleyen çocuklar öfkeye, kavgaya, zor kullanmaya yönelebilirler.

Bu açıklamada televizyonun yanlış kullanımının;

- I. Çocuklarda görme sorunlarına yol açabileceği,
 II. Çocukların kişisel gelişimini olumsuz etkileyeceği,
 III. Çocuklarda duruş bozukluklarına yol açabileceği
 sonuçlarından hangileri anlatılmak istenmiştir?

- A) Yalnız I B) Yalnız II C) I ve II D) II ve III

36.



Here you are.



Give me the pencil case, please.



You are welcome.



Thank you.

Yukarıda karışık verilen diyalogun doğru sıralanışı hangisidir?

A)



B)



C)



D)



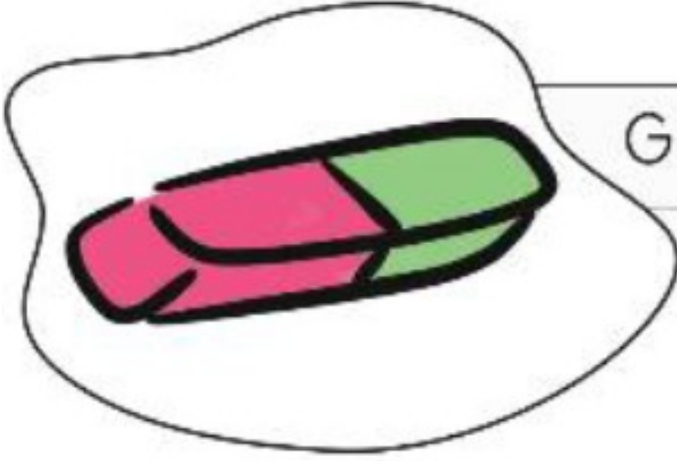
37.



Görseli ifade eden cümle hangisidir?

- A) Be quiet.
- B) Sit down, please.
- C) Turn on the light.
- D) Give me the book.

38.



Give me the - - - -.

Görsele göre yukarıdaki boşluğa hangi ifade gelmelidir?

A) ruler

B) eraser

C) sharpener

D) pencil case

SAGIHO BİR İMAM HATİP KİŞİĞİ

39.



Edward : - - - - ?

Omar : I am from Pakistan.

Diyalođu tamamlayan dođru ifade hangisidir?

- A) Where are they from
- B) Where is he from
- C) Where is she from
- D) Where are you from

40.




Yukarıdaki kelimelerden anlamlı bir cümle oluşturulursa hangisi dışarıda kalır?

- A) can
C) you

- B) play
D) read

SAGIHO BİR İMAM HATİP KLASİĞİ

41.



Verilenlere göre Oscar hangi soruyu sormuş-
tur?

- A) Can she dive
- B) Can she jump
- C) Can she dance
- D) Can she swim

42.



Görsele uygun olan ifade hangisidir?

- A) My favourite cartoon character can turn green.
- B) My favourite cartoon character can cook.
- C) My favourite cartoon character can run fast.
- D) My favourite cartoon character can swim.

43.



Cümleyi tamamlayan doğru kelime hangisidir?

- A) cooking
- B) drawing pictures
- C) playing basketball
- D) flying a kite

44.



Görsele göre cümledeki boşluğa hangi ifade gelmelidir?

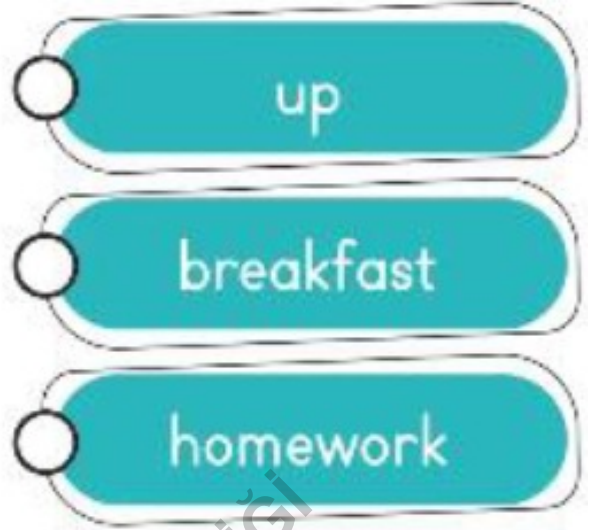

A) wake up

B) go to bed

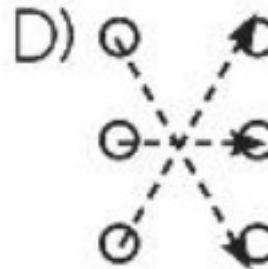
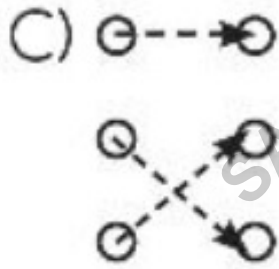
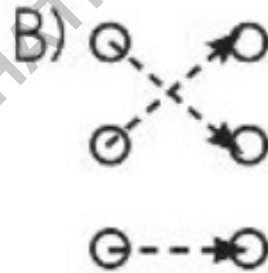
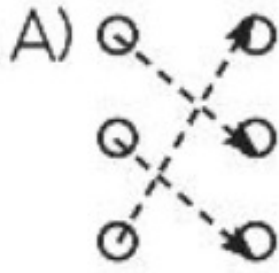
C) go to school

D) do my homework

45.



Verilen kelimeler anlamlı bir ifade oluşturacak şekilde eşleştirildiğinde hangi görünüm oluşur?



46.

Belli Başlı Haramlar;
 İçki içmek,
 Başkasının malını izinsiz alıp yemek,
 Hırsızlık yapmak

Günlük dilde haram sözcüğü sık sık kullanılır.
 "Hakkım haram olsun."
 "Haram lokma yemek."
 "Bu, dinimize göre haramdır."

Yukarıda vurgulanan kavramın tanımı hangi seçenekte doğru verilmiştir?

- A) Yapılması, söylenmesi, yenilip içilmesi dinî bakımdan uygun bulunan ve yasaklanmayan şeylere denir.
 B) Allah'ın (c.c.), güzel iş ve davranışlarda bulunanlara vereceği mükâfata denir.
 C) Dinimizce kesin olarak yasak edilmiş, dinin kurallarına aykırı olan iş ve davranışlara denir.
 D) "Allah, her türlü eksiklik ve kusurdan uzaktır." anlamında bir dua cümlesine denir.

47.

Rıdvan Bey, kızı Ceylin ile konuşurken "....." sözünü ilk kez kullanır. Ceylin, "Baba ne demek?" diye sorar. Babası, "Kızım, bir şey yapacağımızda Allah'ın (c.c.) izniyle kolaylıkla olsun diye bu ifadeyi kullanınız." şeklinde cevap verir.
 Aradan günler geçer.
 Ceylin, "Baba şu oyuncakçıya gidelim mi?" diye sorar. Babası, "Bakarız kızım." der. Ceylin, "Bakarız deme baba, de. Kolaylıkla gidip oyuncak alalım." der. Ceylin'in bu cevabı babasının çok hoşuna gider ve birlikte oyuncak almaya giderler.

Bu metinde boş bırakılan yerlere aşağıdaki kavramlardan hangisi gelmelidir?

- A) İnşallah B) Maşallah C) Subhanallah D) Elhamdülillah

48. Ekonomik gücü yeterli, sağlığı da elverişli olan Müslümanların, hayatlarında bir kez hacca gitmeleri farzdır. Hac ibadetini yerine getirmek Müslüman'a sevap kazandırır. Şartlar uygun olduğu hâlde hacca gitmemek ise günahdır.

Bu bilgidan aşağıdakilerden hangisine ulaşamaz?

- A) Hac ibadetini yerine getirmek için zengin olunmalıdır.
B) Ömürde en az bir kez hac ibadeti yerine getirilmelidir.
C) Hac ibadeti ramazan ayında şartları taşıyanlarca yerine getirilmelidir.
D) Kanser hastalarına hac yapmak zorunlu değildir.

49. “Zengin Müslümanların, sahip oldukları mal veya paralarının belli bir bölümünü ibadet niyetiyle her yıl fakir ve muhtaçlara vermelerine denir.”

Yukarıdaki cümlede boş bırakılan yere hangi ifade getirilmelidir?

- A) hac B) zekât C) sadaka D) kurban

50. “...Namazı dosdoğru kılın; çünkü namaz müminler üzerine vakitleri belli bir farzdır.”
(Nisâ suresi, 103. ayet)

Aşağıdakilerden hangisi ayette altı çizili bölüm ile ilişkilendirilemez?

- A) Sabah namazı B) Öğle namazı C) Kuşluk namazı D) Yatsı namazı

Ad - Soyad

- | | A | B | C | D | | A | B | C | D | | A | B | C | D | | |
|----|-----------------------|-----------------------|-----------------------|-----------------------|---|----|-----------------------|-----------------------|-----------------------|-----------------------|---|----|-----------------------|-----------------------|-----------------------|-----------------------|
| 1 | <input type="radio"/> | <input type="radio"/> | <input type="radio"/> | <input type="radio"/> | ■ | 21 | <input type="radio"/> | <input type="radio"/> | <input type="radio"/> | <input type="radio"/> | ■ | 41 | <input type="radio"/> | <input type="radio"/> | <input type="radio"/> | <input type="radio"/> |
| 2 | <input type="radio"/> | <input type="radio"/> | <input type="radio"/> | <input type="radio"/> | | 22 | <input type="radio"/> | <input type="radio"/> | <input type="radio"/> | <input type="radio"/> | | 42 | <input type="radio"/> | <input type="radio"/> | <input type="radio"/> | <input type="radio"/> |
| 3 | <input type="radio"/> | <input type="radio"/> | <input type="radio"/> | <input type="radio"/> | | 23 | <input type="radio"/> | <input type="radio"/> | <input type="radio"/> | <input type="radio"/> | | 43 | <input type="radio"/> | <input type="radio"/> | <input type="radio"/> | <input type="radio"/> |
| 4 | <input type="radio"/> | <input type="radio"/> | <input type="radio"/> | <input type="radio"/> | | 24 | <input type="radio"/> | <input type="radio"/> | <input type="radio"/> | <input type="radio"/> | | 44 | <input type="radio"/> | <input type="radio"/> | <input type="radio"/> | <input type="radio"/> |
| 5 | <input type="radio"/> | <input type="radio"/> | <input type="radio"/> | <input type="radio"/> | | 25 | <input type="radio"/> | <input type="radio"/> | <input type="radio"/> | <input type="radio"/> | | 45 | <input type="radio"/> | <input type="radio"/> | <input type="radio"/> | <input type="radio"/> |
| 6 | <input type="radio"/> | <input type="radio"/> | <input type="radio"/> | <input type="radio"/> | | 26 | <input type="radio"/> | <input type="radio"/> | <input type="radio"/> | <input type="radio"/> | | 46 | <input type="radio"/> | <input type="radio"/> | <input type="radio"/> | <input type="radio"/> |
| 7 | <input type="radio"/> | <input type="radio"/> | <input type="radio"/> | <input type="radio"/> | | 27 | <input type="radio"/> | <input type="radio"/> | <input type="radio"/> | <input type="radio"/> | | 47 | <input type="radio"/> | <input type="radio"/> | <input type="radio"/> | <input type="radio"/> |
| 8 | <input type="radio"/> | <input type="radio"/> | <input type="radio"/> | <input type="radio"/> | | 28 | <input type="radio"/> | <input type="radio"/> | <input type="radio"/> | <input type="radio"/> | | 48 | <input type="radio"/> | <input type="radio"/> | <input type="radio"/> | <input type="radio"/> |
| 9 | <input type="radio"/> | <input type="radio"/> | <input type="radio"/> | <input type="radio"/> | ■ | 29 | <input type="radio"/> | <input type="radio"/> | <input type="radio"/> | <input type="radio"/> | | 49 | <input type="radio"/> | <input type="radio"/> | <input type="radio"/> | <input type="radio"/> |
| 10 | <input type="radio"/> | <input type="radio"/> | <input type="radio"/> | <input type="radio"/> | | 30 | <input type="radio"/> | <input type="radio"/> | <input type="radio"/> | <input type="radio"/> | | 50 | <input type="radio"/> | <input type="radio"/> | <input type="radio"/> | <input type="radio"/> |
| 11 | <input type="radio"/> | <input type="radio"/> | <input type="radio"/> | <input type="radio"/> | | 31 | <input type="radio"/> | <input type="radio"/> | <input type="radio"/> | <input type="radio"/> | | | | | | |
| 12 | <input type="radio"/> | <input type="radio"/> | <input type="radio"/> | <input type="radio"/> | ■ | 32 | <input type="radio"/> | <input type="radio"/> | <input type="radio"/> | <input type="radio"/> | ■ | | | | | |
| 13 | <input type="radio"/> | <input type="radio"/> | <input type="radio"/> | <input type="radio"/> | | 33 | <input type="radio"/> | <input type="radio"/> | <input type="radio"/> | <input type="radio"/> | | | | | | |
| 14 | <input type="radio"/> | <input type="radio"/> | <input type="radio"/> | <input type="radio"/> | | 34 | <input type="radio"/> | <input type="radio"/> | <input type="radio"/> | <input type="radio"/> | | | | | | |
| 15 | <input type="radio"/> | <input type="radio"/> | <input type="radio"/> | <input type="radio"/> | | 35 | <input type="radio"/> | <input type="radio"/> | <input type="radio"/> | <input type="radio"/> | | | | | | |
| 16 | <input type="radio"/> | <input type="radio"/> | <input type="radio"/> | <input type="radio"/> | | 36 | <input type="radio"/> | <input type="radio"/> | <input type="radio"/> | <input type="radio"/> | | | | | | |
| 17 | <input type="radio"/> | <input type="radio"/> | <input type="radio"/> | <input type="radio"/> | | 37 | <input type="radio"/> | <input type="radio"/> | <input type="radio"/> | <input type="radio"/> | | | | | | |
| 18 | <input type="radio"/> | <input type="radio"/> | <input type="radio"/> | <input type="radio"/> | | 38 | <input type="radio"/> | <input type="radio"/> | <input type="radio"/> | <input type="radio"/> | | | | | | |
| 19 | <input type="radio"/> | <input type="radio"/> | <input type="radio"/> | <input type="radio"/> | | 39 | <input type="radio"/> | <input type="radio"/> | <input type="radio"/> | <input type="radio"/> | | | | | | |
| 20 | <input type="radio"/> | <input type="radio"/> | <input type="radio"/> | <input type="radio"/> | | 40 | <input type="radio"/> | <input type="radio"/> | <input type="radio"/> | <input type="radio"/> | | | | | | |

Form ID: 10010504000