

ŞAMPİYONLARIN OKULU

SANCAKTEPE
ABDURRAHMANGAZİ PROJE
İMAM HATİP ORTAOKULU

10 MART 2024

OKUL KABUL SINAVI

4. SINIF KIZ ÖĞRENCİLER



**HAFIZLIK
EĞİTİMİ**

(SENE KAYBI OLMADAN
OKULLA BİRLİKTE HAFIZLIK)

**HEDEF
LGS**

(SINAVA PROFESYONEL
HAZIRLIK EĞİTİMİ)



**ROBOTİK
KODLAMA
3D TASARIM
EĞİTİMİ**

**YOĞUNLAŞTIRILMIŞ
YABANCI DİL
(İNGİLİZCE) EĞİTİMİ**



Başvuru için okutunuz

Başvuru Tarihleri: 05 OCAK 2024 - 8 MART 2024

Sınav Tarihi: 10 MART 2024 PAZAR **Sınav Saati:** 10:00

Sınav Yeri: Abdurrahmangazi İmam Hatip Ortaokulu

Açık Adres: Abdurrahmangazi Mh. Abdurrahman Gazi Cd.
Güzelbahçe Sk. No:2 Samandıra - Sancaktepe / İSTANBUL

Sınav Başvurusu İçin;

☎ 0216 311 20 31 - 0541 826 78 43 [✉ abdurrahmangaziho.meb.k12.tr](mailto:abdurrahmangaziho.meb.k12.tr)

Adayların velilerinin internet başvuru sonrası
onay için okula gelmeleri gerekmektedir.



**TÜRKİYE
2023 LGS
BİRİNCİSİ
OKULUMUZ ÖĞRENCİSİDİR**

[Instagram](https://www.instagram.com/abdurrahmangaziho) /abdurrahmangaziho
[Facebook](https://www.facebook.com/abdurrahmangaziho) /abdurrahmangaziho
[TikTok](https://www.tiktok.com/@sagiho2015) @sagiho2015

Soru Sayısı : 70

Sınav Süresi : 80 Dakika

Adı ve Soyadı :

Sınıfı :

Numarası:



3004

TÜRKÇE TESTİ

1 ve 2. soruları aşağıdaki metne göre cevaplayınız.

Biz insanların yaşadığımız çevreye karşı sorumlulukları vardır. Çünkü yaşadığımız çevreye bilinçsizce yapacağımız bir davranış hem bizi hem de tüm insanları etkileyecektir. Tüm bunlara sebep olmamak için çevre konusunda bilinçlenmek, güzel davranışlar kazanmak, çevre sorunlarına çözümler üretmek gerekir. Çevreyi korumak ve geliştirmek hedefimiz olmalıdır. Sağlıklı ve güvenli bir çevrede yaşamak hepimizin hakkıdır. Bunu sağlamak da biz insanların elindedir.

1. Bu metne göre çevre sorunlarını en aza indirmek için aşağıdakilerden hangisi yapılacaklardan biri değildir?

- A) Çevre sorunlarına yönelik çözümleri başkasından beklemek
- B) Çevre konusunda bilinçlenmek
- C) Çevreyi korumaya yönelik güzel davranışlar kazanmak
- D) Çevre sorunlarına çözümler üretmek

2. Çevreye karşı sorumluluklarımızı yerine getirmediğimizde aşağıdakilerden hangisi olur?

- A) İnsanlar daha güzel ve temiz bir çevrede yaşamış olurlar.
- B) Hem biz hem de tüm insanlar olumsuz etkilenir.
- C) Herkes sağlıklı bir çevrede yaşamış olur.
- D) Çevreyi bütün insanlar el birliğiyle korumuş olur.

3. Aşağıdaki cümlelerin hangisinde terim anlamlı sözcük vardır?

- A) Cengiz, çok konuşmayı sevmeyen biridir.
- B) Kardeşim tabağına konan bütün yemeği bitirdi.
- C) Sahnedeki oyuncularını perde kapanınca göremedik.
- D) Yazın gelişiyle ağaçlar yemyeşil oldu.

4. "İnce" sözcüğü aşağıdaki cümlelerin hangisinde mecaz anlamıyla kullanılmıştır?

- A) Üzerine ince bir gömlek giymişti.
- B) Baklavanın yufkaları çok ince olmalıdır.
- C) İnce kek dilimini annem yedi.
- D) İnce davranışlarıyla hepimizin gönlüne girdi.

5. Aşağıdaki cümlelerden hangisinin sonuna soru işareti getirilmelidir?

- A) Ferdi'nin neler yaptığını duydun mu
- B) Sonbahar geldi mi ağaçlar yapraklarını döker
- C) Fuat'ın gözlerinden ne kadar uyuduğu anlaşılıyor
- D) Dün rüyamda ne gördüğümü hatırlamıyorum

6. Aşağıdaki cümlelerde geçen altı çizili sözcüklerden hangisi gerçek anlamıyla kullanılmıştır?

- A) Hızlı trene yetişemezsem, işte o zaman yandım.
- B) Arabanın bagajından ağır bir çuval indirdi.
- C) Mutfakta keskin bir sarımsak kokusu vardı.
- D) Ali ile Veli koyu bir sohbeta daldılar.

7. I. Çınar ağacı kollarını iki yana açmış kuşları bekliyordu.
 II. Gökyüzü aniden karardı ve yağmur bardaktan boşanırcasına yağmaya başladı.
 III. Yağmur bulutları okula giden çocuklara yol verdiler.
 IV. Yaprakları dökülen ağacın dalları gökyüzüne doğru uzanıyordu.

Numaralanmış cümlelerin hangilerinde hayali unsurlara yer verilmiştir?

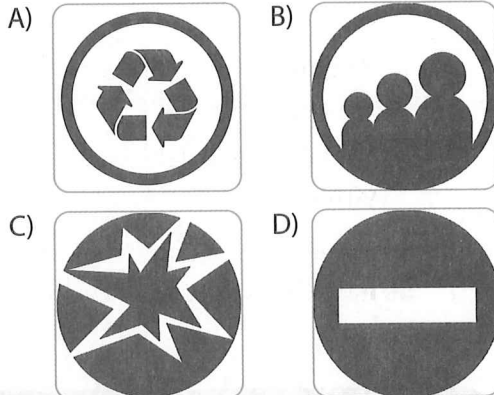
- A) I ve II. B) II ve III.
- C) I ve III. D) III ve IV.

8. 1. Böceklerle, kertenkelelerle, küçük yılanlarla ve akrelerle beslenir.
2. Tehlikelerden korunmak, gizlenmek ya da vücut sıcaklığını düzenlemek amacıyla renk değiştirmeleri de buka-lemunların diğer önemli özelliklerinden biridir.
3. Bukalemun, bir sürüngen türüdür. Dilinin uzunluğu, boyunun yaklaşık bir veya bir buçuk katıdır.
4. Dilinin uzun ve ucunun yapışkan olması da avını rahatlıkla yakalayabilmesini sağlar.

Numaralanmış cümlelerle anlamlı bir paragraf oluşturulduğunda sıralama nasıl olur?

- A) 2 - 4 - 3 - 1 B) 3 - 1 - 2 - 4
C) 4 - 1 - 2 - 3 D) 3 - 4 - 1 - 2

9. Aşağıdakilerden hangisi televizyon yayınlarının içeriğiyle ilgili bilgilendirici akıllı işaretlerden biri değildir?



10. "Eyvah () Otobüsü yine mi kaçırmış ()" cümlesinde yay ayrıçla gösterilen yerlere hangi noktalama işaretleri getirilmelidir?

- A) (!) (.) B) (!) (?)
C) (,) (?) D) (?) (!)

11. Soru eki "mi" kendisinden önceki sözcükten ayrı yazılır, kendisinden sonra gelen ekler ise mi'ye bitişik yazılır.

Buna göre aşağıdaki cümlelerin hangisinde "mi" nin yazımıyla ilgili yanlışlık yapılmıştır?

- A) Yarın size gelebilir miyim?
B) Yunus dün buraya geldi mi?
C) Çocuklar beni dinlermisiniz?
D) Babanla parkta mı buluşacaksınız?

12. Sözcüklerin akla gelen ilk anlamına gerçek anlam denir.

Buna göre "bozulmak" sözcüğü aşağıdaki cümlelerin hangisinde gerçek anlamda kullanılmıştır?

- A) Yeni aldığımız çamaşır makinesi bozuldu.
B) Mert, annesinin ikazı üzerine biraz bozuldu.
C) Ahmet dayımın sağlığı biraz bozuldu.
D) Sezai'nin davranışına arkadaşı biraz bozuldu.

13. Atatürk, öğrenim hayatına mahalle mektebinde başladı. Sonra Şemsi Efendi ilkokuluna devam etti. Askerî ortaokulda matematik öğretmenin beğenisini kazandı. Askerî liseyi de bitirdikten sonra İstanbul Harp Okuluna girdi. 1902 yılında da Harp Akademisine geçti.

Bu metnin konusu aşağıdakilerden hangisidir?

- A) Atatürk'ün İstanbul'a olan ilgisi
B) Matematik öğretmenin Atatürk'e olan sevgisi
C) Atatürk'ün ailesinin eğitime verdiği önem
D) Atatürk'ün öğrenim gördüğü okullar

14. 1. Deprem - Zلزele
2. Yöntem - Metot
3. Soru - Cevap
4. Sınav - İmtihan

Numaralanmış sözcük çiftlerinin hangisinde diğerlerinden farklı bir anlam ilişkisi vardır?

- A) 1. B) 2.
C) 3. D) 4.

15. **Aşağıdaki şiirlerden hangisinin ana duygusu öğretmen sevgisidir?**

- A) Kuş gibi kanat gerdik,
Biz de şimdi göklere.
Ovalar meydan oldu.
Nehirler birer dere.
- B) Küçük yüreğim,
Sığmıyor sevgim,
Taştı sevincim,
Can Öğretmenim.
- C) Bana fayda sağlayana
Kolum her gün sıvalıdır.
Aşı günü ağlayana
Ben derim ki zavallıdır.
- D) Seni temiz tutarım.
Kirletmem hiçbir zaman.
Esirgerim, okşarım,
Usanmam okumaktan.

1. $9016 - 3627 = \star$
 $8700 - 4365 = \blacktriangle$

Bu işlemlere göre, $\star - \blacktriangle$ işleminin sonucu aşağıdakilerden hangisidir?

- A) 1266 B) 1250
 C) 1154 D) 1054

2. $972 - 300 =$
 $725 - 80 =$
 $691 - 200 =$
 $563 - 40 =$

Gizem tablodaki işlemlerin sonuçlarını zihinden bularak karşılıklarına yazmıştır.

Buna göre, aşağıdakilerden hangisi Gizem'in bulunduğu sonuçlardan biri değildir?

- A) 672 B) 645
 C) 523 D) 481

3. Aşağıdaki çıkarma işlemlerinden hangisinin sonucu yanlıştır?

A) $\begin{array}{r} 8264 \\ - 3072 \\ \hline 5182 \end{array}$ B) $\begin{array}{r} 7713 \\ - 2405 \\ \hline 5308 \end{array}$
 C) $\begin{array}{r} 6461 \\ - 1452 \\ \hline 5009 \end{array}$ D) $\begin{array}{r} 7047 \\ - 3149 \\ \hline 3898 \end{array}$

4. Sedat, $1568 + 2425$ işleminin sonucunu sayıları en yakın yüzlüğe yuvarlayarak tahmin etmiştir.

Sedat'ın bulunduğu tahmini sonuç ile işlem sonucu arasındaki fark aşağıdakilerden hangisidir?

- A) 4 B) 6 C) 7 D) 9

5. $9400 + 300 = 9700$
 $4200 + 400 = 4600$
 $3569 + 500 = 4169$
 $2813 + 600 = 3313$

Nuh, toplama işlemlerinin sonucunu zihinden bulmuştur.

Buna göre Nuh kaç tane işlemin sonucunu doğru bulmuştur?

- A) 1 B) 2 C) 3 D) 4

6. Bir bahçede 1570 elma ağacı, elma ağaçlarından 365 fazla portakal ağacı vardır.

Bu bahçede toplam kaç meyve ağacı vardır?

- A) 3375 B) 3495
 C) 3500 D) 3505

7. Cengiz bir çıkarma işleminin tahminî sonucunu sayıları en yakın onluğa yuvarlayarak 3170 olarak bulmuştur.

Buna göre, Cengiz'in yaptığı bu işlem aşağıdakilerden hangisidir?

A)
$$\begin{array}{r} 8454 \\ - 5276 \\ \hline \end{array}$$

B)
$$\begin{array}{r} 7613 \\ - 4625 \\ \hline \end{array}$$

C)
$$\begin{array}{r} 6971 \\ - 4828 \\ \hline \end{array}$$

D)
$$\begin{array}{r} 5217 \\ - 1342 \\ \hline \end{array}$$

8. Bir kütüphanede 5600 kitap vardır. Bu kitapların 2375 tanesi hikâye, 2417 tanesi masal, kalanları şiir kitabıdır.

Buna göre, kütüphanede kaç tane şiir kitabı vardır?

- A) 916 B) 808
C) 715 D) 709

9. I.

808 008	Sekiz yüz bin sekiz
---------	---------------------

II.

808 800	Sekiz yüz seksen bin
---------	----------------------

III.

800 008	
---------	--

IV.

880 000	Sekiz yüz sekiz bin sekiz
---------	---------------------------

Yukarıda verilen doğal sayılar ile okunuşları eşleştirilecektir.

Buna göre numaralanmış kartlardaki doğal sayılardan hangisi eşleştirme dışında kalır?

- A) IV. B) III. C) II. D) I.

10. 9763 sayısından başlayarak geriye doğru yüzer sayarken 5. saymada hangi sayı söylenir?

- A) 9763 B) 9663
C) 9563 D) 9363

11. Bir doğal sayının birler bölümünde 302, binler bölümünde 134 bulunmaktadır.

Buna göre, bu doğal sayının çözümlenmiş hâli aşağıdakilerden hangisidir?

- A) $(1 \times 100\ 000) + (3 \times 10\ 000) + (4 \times 1000) + (3 \times 100) + (0 \times 10) + (2 \times 1)$
B) $(3 \times 100\ 000) + (0 \times 10\ 000) + (2 \times 1000) + (1 \times 100) + (3 \times 10) + (4 \times 1)$
C) $(2 \times 100\ 000) + (3 \times 10\ 000) + (2 \times 1000) + (4 \times 100) + (3 \times 10) + (1 \times 1)$
D) $(3 \times 100\ 000) + (4 \times 10\ 000) + (1 \times 1000) + (3 \times 100) + (0 \times 10) + (2 \times 1)$

12.
$$\begin{array}{r} 3742 \\ + 4826 \\ \hline \end{array}$$
 Yandaki toplama işleminde birinci toplanan 253 azaltılıp ikinci toplanan 128 artırılıyor.

Buna göre bu toplama işleminde toplam nasıl değişir?

- A) 135 artar. B) 125 azalır.
C) 230 artar. D) 245 azalır.

13.

$$\begin{array}{r} 8628 \\ - 3406 \\ \hline \end{array} \quad \begin{array}{r} \boxed{} \\ - 2531 \\ \hline \end{array} \quad \begin{array}{r} \boxed{} \\ - 984 \\ \hline \end{array}$$

$\boxed{}$ $\boxed{}$ $\boxed{?}$

Bu işlemlere göre "?" yerine hangi sayı yazılmalıdır?

- A) 1686 B) 1697
C) 1707 D) 1747

14. **506 sayısından başlayıp yirmişer artırarak oluşturacağımız sayı örüntüsünün 4. adımında aşağıdaki sayılardan hangisi olmalıdır? (506 dahil.)**

- A) 526 B) 546
C) 566 D) 586

15. **"4, 8, 2, 6" rakamları birer kez kullanılarak oluşturulacak 4 basamaklı en büyük doğal sayı ile bu rakamlarla oluşturulacak 4 basamaklı en küçük doğal sayının farkı kaçtır?**

- A) 6174 B) 6186
C) 6194 D) 6198

1.



Kimlik kartının ön yüzündeki numaralı yerlerde aşağıdakilerden hangileri sırasıyla bulunmaktadır?

	1	2	3	4
A)	T.C. kimlik numarası	Kişinin fotoğrafı	Kişinin soyadı	Kişinin adı
B)	Kişinin fotoğrafı	Kişinin soyadı	Kişinin adı	T.C. kimlik numarası
C)	Kişinin soyadı	Kişinin adı	T.C. kimlik numarası	Kişinin fotoğrafı
D)	Kişinin adı	T.C. kimlik numarası	Kişinin fotoğrafı	Kişinin soyadı

2. 1. 1915'te Çanakkale'de savaştı.
2. 1905'te Harp Akademisinden mezun oldu.
3. 1923'te cumhurbaşkanı seçildi.
4. 1919'da Samsun'a çıktı.

Yukarıda, Atatürk'ün hayatındaki bazı olaylar verilmiştir.

Bu olayların kronolojik sıralaması aşağıdakilerin hangisinde doğru olarak verilmiştir?

- A) 1 - 2 - 3 - 4 B) 2 - 1 - 4 - 3
C) 4 - 3 - 2 - 1 D) 3 - 2 - 1 - 4

3. Okulumuzda ve çevremizdeki eğitsel sosyal etkinliklere katılırken kendi ilgi alanlarımıza ve kişisel yeteneklerimize göre etkinlik seçimi yapmamız yararlı ve başarılı olmamızı sağlar.

Aşağıdakilerden hangisi eğitsel ve sosyal etkinliklere örnek olamaz?

- A) Sınıfça kardeş okul için kitap toplama kampanyası düzenlemek
B) Okulumuzda resim ve şiir yarışmaları düzenlemek
C) Servise binip okula gitmek
D) Fidan dikme kampanyalarına katılmak

4. Oyun iki takım arasında bir top ve avuç içi büyüklüğündeki yassı kiremit parçalarıyla oynanır. Kiremit parçaları üst üste dizilir. Atışı yapacak takımın oyuncularından biri elindeki topu dört beş metre uzağa dizilmiş kiremitlere doğru yuvarlar. Oyuncu bir kiremit bile olsa yıkmayı başardığı anda takım arkadaşlarıyla birlikte etrafa kaçar. Ebe olan takımın oyuncuları ise topla kendi aralarında paylaşarak kaçanları vurmaya çalışırlar. Bu sırada kaçan oyuncular bir yandan vurulmamaya dikkat ederken diğer yandan kiremitleri tekrar üstü üste dizmek için fırsat kollarlar. Topla vurulan oyundan çıkar. Oyuncu üzerine gelen topu yakalayabilirse vurulmamış sayılır. Vurulmaktan kurtulan oyuncular kiremitlerin tamamını yeniden dizebilirlerse oyunu kazanmış olurlar.

Geçmişte oynanan bu oyun aşağıdakilerden hangisidir?

- A) Saklambaç B) Aşık oyunu
C) Topaç çevirme D) Dalya

5. • Tarık, okulun futbol takımının başarılı bir oyuncusudur.
- Emine, evcil hayvan beslemek istiyor.
- Ümit, saz çalarak arkadaşlarına mini konserler veriyor.

Bu cümlelere göre aşağıdakilerden hangisi söylenemez?

- A) Ümit'in yeteneklerinden söz edilmiştir.
- B) Emine'nin ilgi alanlarına örnek verilmiştir.
- C) Ümit'in temel ihtiyacından söz edilmektedir.
- D) Tarık'ın yeteneğinden söz edilmiştir.

6. **Aşağıdaki ifadelerden hangisi yanlıştır?**

- A) Bireysel farklılıklara saygı duymalıyız.
- B) Engelli bireylere her zaman yardımcı olmalıyız.
- C) Bireysel farklılıklarımız bizi eşsiz ve özel kılar.
- D) Empati kurabilme olumsuz bir davranıştır.

7. **Aşağıdaki Milli Mücadele kahramanlarımızdan hangisi İzmir'de düşmana ilk kurşunu atmıştır?**

- A) Sütçü İmam
- B) Ali Saip Bey
- C) Hasan Tahsin
- D) Şerife Bacı



8.

- Görüşme yapılacak kişiyi belirleme
- Görüşme yeri ve zamanı belirleme
- Soruları belirleme
- Görüşme sırasında kullanılacak araç gereçleri hazırlama

Bu açıklamalar aşağıda verilen kavramlardan hangisi ile ilgilidir?

- A) Sözlü tarih
- B) Soy ağacı
- C) Millî kültür
- D) Kronoloji

9. **Aşağıda görselleri verilen oyunlardan hangisini dedelerimiz çocukluğunda oynamamıştır?**



10. Aile tarihini oluştururken sözlü tarih yöntemi dışında geçmişten kalan nesnelere de yararlanılabilir.

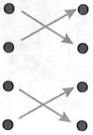
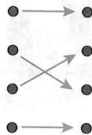

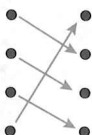
Buna göre aşağıdakilerden hangisi bu nesnelere biri değildir?

- A) Eski fotoğraflar
- B) Ders kitapları
- C) Geçmişte kullanılan ev eşyaları
- D) Karneler, diplomalar veya madalyalar

DİN KÜLTÜRÜ VE AHLAK BİLGİSİ DERSİNİ OKUYANLAR BU SORULARI CEVAP KÂĞIDININ SOSYAL BİLGİLER (11 - 15) KISMINA İŞARETLEYEBİLECEKLERDİR.

- 11.
- | | | |
|------------------------------|-----|--|
| Allah razı olsun. | ● ● | Hasta birini ziyaret ettiğimizde |
| Allah'a emanet ol. | ● ● | Ders çalışan veya sınava hazırlanan birine |
| Allah şifa versin. | ● ● | Bir kişiden iyilik ve yardım gördüğümüzde |
| Allah zihin açıklığı versin. | ● ● | Birini yolcu ederken |

Dilek ve dua ifadeleri uygun durumlara eşleştirildiğinde okların görünümü aşağıdakilerden hangisi gibi olur?

- A) 
- B) 
- C) 
- D) 

12. 1. Ve tebâra kesmük
2. Ve bî hamdik.
3. Ve teâlâ ceddük.
4. Sübhâneke Allâhümme.
5. Ve lâ ilâhe ğayruk.
6. Ve celle senâük

Karışık verilen sübhaneke duasını aşağıdakilerden hangisi gibi sıralarsak doğru olur?

- A) 4 - 2 - 1 - 3 - 6 - 5 B) 4 - 2 - 3 - 1 - 5 - 6
C) 4 - 1 - 3 - 6 - 5 - 2 D) 4 - 3 - 6 - 5 - 2 - 1

13. **Aşağıdakilerden hangisi İslam'ın inanç esaslarından biri değildir?**

- A) Namaz kılmak
B) Allah'a iman
C) Kader ve kazaya iman
D) Ahiret'e iman

14. Allah'ın (c.c) emriyle çeşitli görevleri yerine getiren, nurdan yaratılmış ve gözle görülmeyen varlıkların varlığına iman etmektir.

Bu verilen özellikler İslam'ın inanç esaslarından hangisi ile ilgilidir?

- A) Kitaplara iman
B) Peygamberlere iman
C) Ahirete iman
D) Meleklerle iman

15. "Selamün Aleyküm" sözünün anlamı aşağıdakilerden hangisidir?

- A) Allah'ım verdiğin sayısız nimetlerden dolayı sana şükürler olsun.
B) Barış, huzur ve güven senin üzerine olsun.
C) Allah'ım yaptığım hata ve günahlardan dolayı senin affını diliyorum.
D) Allah tüm eksiklik ve kusurlardan uzak, en yücedir.

DİN KÜLTÜRÜ VE AHLAK BİLGİSİ DERSİNİ OKUMAYANLAR BU SORULARI CEVAP KÂĞIDININ SOSYAL BİLGİLER (11 - 15) KISMINA İŞARETLEYECEKLERDİR.

11. Aşağıdakilerden hangisi millî kültürü oluşturan öğelerden biri değildir?

- A) Halk oyunları B) Mimarî eserler
C) Resmî belgeler D) El sanatları

12. "İşgal altındaki Boğazlar Bölgesi, İstanbul ve Doğu Trakya savaş yapılmadan kurtarıldı."

Bu durum aşağıdaki antlaşmalardan hangisinin sonuçlarındandır?

- A) Mudanya Ateşkes Anlaşması
B) Lozan Barış antlaşması
C) Mondros Ateşkes Anlaşması
D) Gümrü Antlaşması

13. Millî Mücadele Dönemi ile ilgili aşağıdaki öğrencilerden hangisinin ifadesi yanlıştır?

- A) **Berna:** Mustafa Kemal yurdumuzu düşmanlardan kurtarmak için Millî Mücadele'yi Ankara'dan başlatmıştır.
B) **Kerim:** Mustafa Kemal, millî bilinci uyandırmak için Havza ve Amasya genelgelerini yayımladı.
C) **Aslı:** Ankara, Büyük Millet Meclisinin açılmasıyla Millî Mücadele'nin merkezi hâline geldi.
D) **Volkan:** Millî Mücadele Dönemi'nde yalnız erkekler değil, kadınlar ve çocuklarda yer almıştır.

14.

Doğu Cephesi

1

Yunanlılar

★

Batı Cephesi

2

Fransızlar

▲

Güney Cephesi

3

Ermeniler

■

Millî Mücadele Dönemi'nde savaşılan cepheler ve devletler hangi seçenekte doğru eşleştirilmiştir?

- A) 1★, 2▲, 3■,
B) 1▲, 2■, 3★
C) 1■, 2▲, 3★
D) 1■, 2★, 3▲

ATA YAYINCILIK

15.

1

Kültür

a

1. Dünya Savaşı'nın sonunda Osmanlı Devleti ile İtilaf Devletleri arasında yapılan anlaşma.

2

Kuvayimillîye

b

Bir kişinin veya bir ailenin en uzak atasından başlayarak bütün kollarını belirten çizelge.

3

Mondros Ateşkes Anlaşması

c

Bir toplumun geçmişten günümüze aktardığı ortak değerler.

4

Soy ağacı


d

Yurdumuzun işgal edilmesinden sonra direnişe geçen birliklere verilen ad.

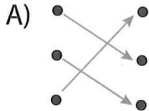
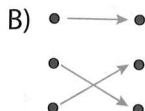
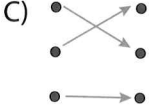
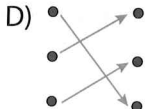
Kavramlarla ifadeler aşağıdakilerin hangisinde doğru eşleştirilmiştir?

- A) 1d, 2a, 3b, 4c
B) 1c, 2d, 3a, 4b
C) 1a, 2b, 3c, 4d
D) 1b, 2c, 3d, 4a

Sosyal Bilgiler testi bitti.
Fen Bilimleri testine geçiniz.

1.  • • Karbonhidrat
• • Protein
• • Vitamin

Görselleri verilen besinler, besin içerikleriyle eşleştirilirse okların görünümü aşağıdakilerden hangisi olur?

- A)  B) 
C)  D) 

2. Yer kabuğunun farklı derinliklerinden çıkarılan ve ekonomik değeri olan kayalarla maden denir.

Buna göre aşağıdakilerden hangisi maden değildir?

- A) Altın B) Toprak
C) Demir D) Gümüş
3. • Karbonhidratlar gibi vücudumuza enerji verir.
• Fazlası vücutta depolanarak kilo almaya neden olur.
• Vücudumuzda düzenleyici olarak görev yapar.
• Bitkisel gıdalardan en çok zeytin, ayçiçeği, mısırdaki bulunur.

Yukarıda verilenlerden kaç tanesi yağlarla ilgili doğru bilgidir?

- A) 1 B) 2 C) 3 D) 4

4.

Besin İçeriği	Öncelikli Görevi	En Çok Bulunduğu Besin
1	Enerji verici	Ekmek
2	Düzenleyici	Karpuz
3	Yapıcı ve onarıcı	Et

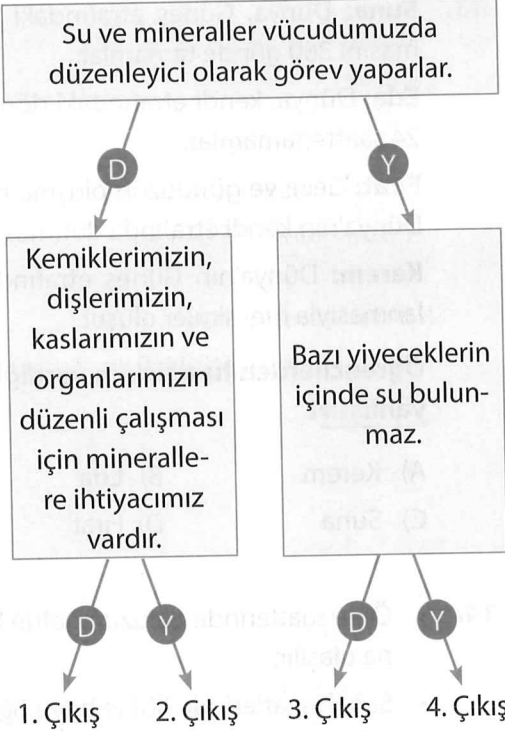
Numaralanmış besin içerikleri aşağıdakilerin hangisinde doğru eşleştirilmiştir?

- | | 1 | 2 | 3 |
|----|-----------------|------------|-----------------|
| A) | Yağlar | Mineraller | Vitaminler |
| B) | Karbonhidratlar | Su | Proteinler |
| C) | Proteinler | Vitaminler | Yağlar |
| D) | Mineraller | Su | Karbonhidratlar |

5. Besinlerin israfını önlemek için aşağıdakilerden hangisini yapmalıyız?

- A) Artan yemekleri buzdolabında saklayarak sonradan tüketmeliyiz.
B) Artan ekmekleri poşete koyup çöpe atmalıyız.
C) Yemek yerken tabağımıza yiyebileceğimizden fazla yemek koymalıyız.
D) Alışverişte ihtiyaç listesi dışında besinler almamalıyız.

6.



Şemada verilen doğru bilgilerde "D" oku, yanlış bilgilerde "Y" oku takip edildiğinde kaçınıcı çıkışa ulaşılır?

- A) 1. Çıkış B) 2. Çıkış
C) 3. Çıkış D) 4. Çıkış

7. **Ayça** : Ambalajlı besinlerin ambalajı hasarlı da olsa alırım.

Bekir: Aldığım ürünlerde TSE damgasının olmasına dikkat ederim.

Ceylin: Satın aldığım gıdaları temizlemeden tüketirim.

Elif: Mevsimine uygun sebze ve meyveleri tercih ederim.

Bu öğrencilerden hangileri bilinçli tüketicici davranışları sergilemektedirler?

- A) Ayça ve Bekir B) Bekir ve Ceylin
C) Ceylin ve Elif D) Elif ve Bekir





8. **Dondurulmuş besinlerle ilgili aşağıdakilerden hangisi yanlıştır?**

- A) Dondurulmuş besinler alışverişlerin sonunda satın alınmalıdır.
B) Dondurulmuş besinler dondurulduktan sonra besleyici özelliklerini tamamen kaybederler.
C) Besinler gerektiğinde dondurularak saklanabilir.
D) Dondurucudan çıkarılan besinler hemen tüketilmelidir.

9.

Veysel, hastalandığı için doktora gider. Doktor yaptığı tahliller sonucunda Veysel'in dengeli beslenmediği için vücudunun vitamin ihtiyacının karşılanmadığını söyler.


Veysel, vücudunda eksik olan besin içeriğini karşılamak için aşağıdaki besin gruplarından hangisini tüketmelidir?

- A) 
- B) 
- C) 
- D) 

10.




Pasta



Peynir



Pırasa



Yağ

Numaralanmış besinlerden hangileri fazla tüketildiğinde obezite sorununa yol açar?

- A) 1 ve 2. B) 1 ve 4.
C) 2 ve 3. D) 3 ve 4.

11. **Obezite ile ilgili aşağıdaki ifadelerden hangisi yanlıştır?**

- A) Besinlerden aldığımız enerji, vücudumuzun harcadığı enerjiden fazla olduğu zaman obezite ortaya çıkar.
B) Yağlı besinleri aşırı tüketme ve sağlıklı beslenme obeziteye neden olur.
C) Kullanılan bazı ilaçlar ve egzersiz yapmama obeziteye neden olur.
D) Obeziteden korunmak için günde tek bir öğün yemek yenmelidir.

12. "Yer kabuğunun kara tabakasını ____ oluşturur." cümlesinde boş bırakılan yere aşağıdakilerden hangisi yazılmalıdır?

- A) kayalar B) fosiller
C) madenler D) ağaçlar

13. **Suna:** Dünya, Güneş etrafındaki dolanmasını 360 günde tamamlar.

Eda: Dünya, kendi etrafındaki dönüşünü 24 saatte tamamlar.

Fırat: Gece ve gündüzün oluşma nedeni Dünya'nın kendi etrafında dönmesidir.

Kerem: Dünya'nın Güneş etrafında dolanmasıyla mevsimler oluşur.

Öğrencilerden hangisinin verdiği bilgi yanlıştır?

- A) Kerem B) Eda
C) Suna D) Fırat

14. • Öğle saatlerinde en uzun gölge boyuna ulaşılır.
• Sabah saatlerinde gölge boyu öğle saatlerindeki kadar kısa değildir.
• Güneş ışınları dik geldiği saatlerde gölge boyu en kısadır.
• Akşam saatlerinde gölge boyu daha uzundur.


Yukarıda Güneş ışınları ile ilgili ifadelerden kaç tanesi doğrudur?

- A) 1 B) 2 C) 3 D) 4

15. "Dünya kendi etrafında dönmeseydi ____" cümlesi aşağıdakilerden hangisi ile tamamlanamaz?

- A) gece ve gündüz oluşmazdı.
B) gün boyunca varlıkların gölge boyları değişmezdi.
C) gece ve gündüz sıcaklık farkı yaşanmazdı.
D) mevsimler oluşmazdı.

1.



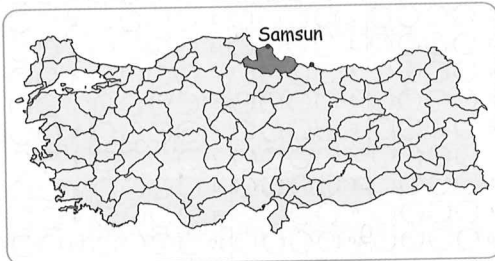
Boş bırakılan yere hangi ifade getirilebilir?

- A) I'm German
- B) I'm Tommy
- C) I'm from France
- D) It is in the east

2. **Eşleştirmelerden hangisi doğrudur?**

Country		Nationality
A) The USA	→	American
B) Iran	→	Iraqi
C) Britain	→	German
D) England	→	Japanese


3.



Where is Samsun?

- A) It is in the south.
- B) It is in the west.
- C) It is in the east.
- D) It is in the north.

4.



Boş bırakılan yere aşağıdakilerden hangisi getirilemez?

- A) Pakistani
- B) Japan
- C) Iran
- D) China

5.



Haritaya göre hangi ifade doğrudur?

- A) Erzurum is in the south.
- B) İzmir is in the west.
- C) Rize is in the east.
- D) Adana is in the north.


6.



Görsele göre hangi ifade doğrudur?

- A) Two erasers and four boards.
- B) Two pencils and four books.
- C) Four pencils and two erasers.
- D) Four rulers and two pencils.


7.



Boş bırakılan yere hangisi getirilemez?

- A) British B) Japanese
C) French D) Russia


9.



Konuşma balonundaki boşluklara hangi kelime getirilemez?

- A) Turkish B) Selim
C) west D) Turkey

8.



Boş bırakılan yere hangisi getirilebilir?

- A) door B) window
C) light D) book

10.

Hello! My name is Türkan. I'm ten years old. I'm from Turkey. I'm Turkish. I live in Turkey.

Hangi sorunun cevabı metinde yoktur?

- A) Where is she from?
B) What is her name?
C) What nationality is she?
D) Where is Turkey?

AD SOYAD >>		Türkçe				Matematik				Hayat Bil. / Sosyal Bil.				Fen Bilimleri				İngilizce								
Ö.No		Soru	A	B	C	D	Soru	A	B	C	D	Soru	A	B	C	D	Soru	A	B	C	D	Soru	A	B	C	D
0																										
1		1					1					1					1					1				
2		2					2					2					2					2				
3		3					3					3					3					3				
4		4					4					4					4					4				
5		5					5					5					5					5				
6		6					6					6					6					6				
7		7					7					7					7					7				
8		8					8					8					8					8				
9		9					9					9					9					9				
10		10					10					10					10					10				
11		11					11					11					11					11				
12		12					12					12					12					12				
13		13					13					13					13					13				
14		14					14					14					14					14				
15		15					15					15					15					15				

Test bitti. Cevaplarınızı kontrol ediniz.

CEVAP ANAHTARI

6. DENEME															
TÜRKÇE	A	B	C	D	A	B	C	D	A	B	C	A	D	C	B
MATEMATİK	D	D	A	C	B	D	A	B	C	D	A	B	C	C	A
SOSYAL BİLGİLER	A	B	C	D	C	D	C	A	C	B	C	A	A	D	B
FEN BİLİMLERİ	C	B	C	B	A	A	D	B	C	B	D	A	C	B	D
İNGİLİZCE	C	A	D	A	B	C	D	B	C	D					
Soru No.	1	2	3	4	5	6	7	8	9	10	11	12	13	14	15