

ŞAMPİYONLARIN OKULU

SANCAKTEPE
ABDURRAHMANGAZİ PROJE
İMAM HATİP ORTAOKULU

10 MART 2024

OKUL KABUL SINAVI

4. SINIF KIZ ÖĞRENCİLER



**HAFIZLIK
EĞİTİMİ**

(SENE KAYBI OLMADAN
OKULLA BİRLİKTE HAFIZLIK)

**HEDEF
LGS**

(SINAVA PROFESYONEL
HAZIRLIK EĞİTİMİ)



**ROBOTİK
KODLAMA
3D TASARIM
EĞİTİMİ**

**YOĞUNLAŞTIRILMIŞ
YABANCI DİL
(İNGİLİZCE) EĞİTİMİ**



Başvuru için okutunuz

Başvuru Tarihleri: 05 OCAK 2024 - 8 MART 2024

Sınav Tarihi: 10 MART 2024 PAZAR **Sınav Saati:** 10:00

Sınav Yeri: Abdurrahmangazi İmam Hatip Ortaokulu

Açık Adres: Abdurrahmangazi Mh. Abdurrahman Gazi Cd.
Güzelbahçe Sk. No:2 Samandıra - Sancaktepe / İSTANBUL

Sınav Başvurusu İçin;

☎ 0216 311 20 31 - 0541 826 78 43 [✉ abdurrahmangaziho.meb.k12.tr](mailto:abdurrahmangaziho.meb.k12.tr)

Adayların velilerinin internet başvuru sonrası
onay için okula gelmeleri gerekmektedir.



**TÜRKİYE
2023 LGS
BİRİNCİSİ
OKULUMUZ ÖĞRENCİSİDİR**

[Instagram](https://www.instagram.com/abdurrahmangaziho) /abdurrahmangaziho
[Facebook](https://www.facebook.com/abdurrahmangaziho) /abdurrahmangaziho
[TikTok](https://www.tiktok.com/@sagiho2015) @sagiho2015

Soru Sayısı : 70

Sınav Süresi : 80 Dakika

Adı ve Soyadı :

Sınıfı : Numarası:



3003

TÜRKÇE TESTİ

1 ve 2. soruları aşağıdaki metne göre cevaplayınız.

Komşu Oğlu

Bir adam baltasını kaybetmişti. Aklına hemen komşusunun oğlu geldi. Baltayı ondan başkası çalmış olmazdı. Daha sonraki günler adam, çocuğu dikkatlice incelemeye başladı. Çocuğun yürüyüşü, konuşması, yüzü kısacası her şeyi bir balta hırsızınıninki-ne benziyordu.

Adam baltasını kendi kilerinde buldu. Dışarı çıktı. Tam da komşusunun oğlu bir yere gidiyordu. Onun hareketlerini inceledi. Kendi kendine "Bu çocuğun ne yürüyüşü ne görünüşü ne de hareketleri balta hırsızına benzemiyor. Üstelik çok da sevimli bir görünüşü var." dedi.

Mehmet Vural
(Düzenlenmiştir.)

1. Bu metinden aşağıdaki sonuçlardan hangisi çıkarılabilir?

- A) İnsanları emin olmadığımız konularda suçlamamalıyız.
B) İnsanları dış görünüşlerine göre değerlendirmeliyiz.
C) Eşyalarımızı kaybettiğimizde ilk önce komşularımızdan şüphelenmeliyiz.
D) İnsanların yürüyüşünden ve yüzünden ne yapacaklarını anlayabiliriz.

2. Bu metnin ana fikri aşağıdakilerden hangisidir?

- A) Dürüstlük büyük bir hazinedir.
B) Cömertçe yaşamalıyız.
C) Komşuluk ilişkilerimizi iyi tutmalıyız.
D) Ön yargılardan kaçınmalıyız.

3.

görev

vazife

acemi

usta

ıslak

kuru

tür

çeşit

Bu kutucukların hangilerinde eş anlamlı kelimeler bir arada kullanılmıştır?

- A) I ve II. B) I ve III.
C) II ve III. D) III ve IV.



4. Aşağıdaki kelimelerden hangisinin anlamı yanlış verilmiştir?

- A) **Vefa:** Sevgiyi sürdürme, sevgi, dostluk bağlılığı.
 B) **Define:** Toprak altına gömülerek saklanmış para veya değerli şeyler, gömü.
 C) **Bilge:** Bilgili, iyi ahlaklı, olgun ve örnek kimse.
 D) **Emek:** Tahıl unundan yapılmış hamurun fırında, sacda pişirilmesiyle yapılan yiyecek.

5. Ormandaki bir ağacın dalına asılı unutulmuş davula, ağacın dalları dokunduğunda davuldan gürültü çıkmaya başlamış. Oradan geçen bir tilki, "Bu kadar çok ses çıkaran bir şey, değerli olmalı. Belki de içi yiyecek doludur!" diyerek bir pençe darbesi ile davulu parçalamış. Fakat bu gürültücü şeyin içinin boş olduğunu görünce hayretten donakalmış. "Hımm, demek ki çok ses çıkaranların içi boştur." demiş.

Mehmet Vural

Bu metnin başlığı aşağıdakilerden hangisi olabilir?

- A) Kuru Gürültü
 B) Ormandaki Yangın
 C) Ormanlar Kralı
 D) Tilkinin Kurnazlığı

6. *Mustafa Kemal'i düşünüyorum,
 Yeleleri alevden al bir ata binmiş.
 Aşıyor yüce dağları, engin denizleri,
 Altın saçları, dalgalanıyor rüzgârda
 Işıl ışıl yanyıyor mavi gözleri.*

Ümit Yaşar Oğuzcan

Şair, aşağıdakilerden hangisi üzerinde durmuştur?

- A) Mustafa Kemal ile ilgili gerçek bir olayı hatırlatmıştır.
 B) Hayalindeki Mustafa Kemal'i anlatmıştır.
 C) Mustafa Kemal'in harp anılarından bahsetmiştir.
 D) Görmeyenler için Mustafa Kemal'i tarif etmiştir.

7. 1934 yılında kabul edilen Soyadı Kanunu ile artık herkesin bir soyadı olacaktı. Herkes gülünç ve ahlaka aykırı olmamak koşulu ile istediği soyadını seçmekte serbestti. Gazi Mustafa Kemal Paşa'ya ise Atatürk soyadını millet vermiştir. Bu en büyük Türk, TBMM'nin kabul ettiği özel kanunla, Atatürk soyadını almış ve milletle bir kez daha bütünleşmiştir.

Faruk Çil

Bu metinde aşağıdaki sorulardan hangisinin cevabı yoktur?

- A) Soyadı Kanunu hangi tarihte kabul edilmiştir?
 B) Gazi Mustafa Kemal Paşa'ya Atatürk soyadını kim vermiştir?
 C) Soyadı hangi resmî işlerde kullanılır?
 D) Hangi koşullara göre soyadı seçilir?

8. "Bir elin nesi var () iki elin sesi var ()" ata-sözünde yay ayraçla belirtilen yerlere aşağıdaki noktalama işaretlerinden hangileri getirilmelidir?

A) (,) (.) B) (.) (.)
C) (,) (!) D) (!) (.)

9.

Toprak, o gün abisiyle birlikte kayıkla denize açıldı. İkiisi de oltalarını denize atıp balık tutmaya başladılar. Akşama kadar Toprak beş, abisi ise sekiz balık tutmuştu. Toprak abisiyle birlikte geçirdiği zamandan çok mutlu olmuştu.

Aşağıdakilerden hangisi bu metinde anlatılanlarla ilgili bir görseldir?


A)



B)



C)



D)



10. "Küçük hanımlar, küçük beyler, sizler hepimiz geleceğin bir gülü, yıldızı ve ikbal ışığısınız. Memleketi asıl ışığa boğacak olan sizsiniz. Kendinizin ne kadar önemli, değerli olduğunuzu düşünerek ona göre çalışınız. Sizlerden çok şey bekliyoruz."

Kemal Atatürk

Bu sözlerden yola çıkılarak Atatürk ile ilgili aşağıdakilerden hangisine ulaşılabılır?

- A) Gençliğe olan inancının tam olduğuna
B) Sanata çok önem verdiğine
C) Askerî zekâsının güçlü olduğuna
D) Çevreye karşı duyarlı olduğuna

11. Uyku, çocuklarımız için yalnızca bir dinlenme aracı değildir, onların sağlıklı büyümesi için çok önemlidir. Uyku sırasında beyin başta olmak üzere tüm organlar yenilenir. Çocuğunuz uyurken stres hormonları azalır ve büyüme hormonu salgınımı artır. Böylece çocuğunuz uyurken çocuğunuzun vücudu kendini yeniden yapılandırır ve çocuğunuz yeni bir güne hazırlanır. Çocuğunuz uykusunu yeterince alamazsa güne hazır olmayacağı için gün boyu uyku hâlinde olur ve okulda dikkatini toplayamaz.

Bu metnin konusu aşağıdakilerden hangisidir?

- A) Uykusuzluğun nedenleri
B) Çocuklar için uykunun önemi
C) Çocukların uyuma saatleri
D) Fazla uykunun organlara zararı

12. Aşağıdaki cümlelerin hangisinde virgülün kaldırılması cümlenin anlamını değiştirir?

- A) Osman, sınıfının en iyi futbol oynayanıdır.
- B) İstanbul, Türkiye'nin en kalabalık şehridir.
- C) Çocuklar, sınıfa girerken sırayı bozmayın.
- D) Küçük, ağaçta yavaş sallanıyor.

13. "Galip" sözcüğünün zıt anlamlısı, aşağıdaki cümlelerin hangisinde kullanılmıştır?

- A) Genç adam yoldaki kediye su verdi.
- B) İnsanlara iyilik yapmayı çok seviyorum.
- C) Mahalle takımımız maçta mağlup oldu.
- D) Evimiz okula çok yakın bir yerdedir.

14 ve 15. soruları aşağıdaki metne göre cevaplayınız.

Bir gece Nasrettin Hoca kuyudan su almaya gider. Bakar ki ay, kuyuya düşmüş. Hoca:

– Kadın, kadın, diye hanımına bağırır. Bana çabuk bir kanca getir yoksa ay boğulup ölecek.

Karısı kancayı getirir. Hoca kancayı kuyuya atar, çeker. Kanca gelmez. Hoca, "Galiba ayı tuttum." der. Kancanın ipi gerilir, gerilir ve kopar. Sirtüstü düşen Nasrettin Hoca gökyüzünde ayı görür.

– Düştüğ düşmesine ama ayı da kurtardık, der.

14. Bu metne göre Hoca, hanımından kancayı niçin istiyor?


- A) Kuyudan su çıkarmak için
- B) Ayı kuyudan çıkarmak için
- C) Kuyuya düşmüş kovayı çıkarmak için
- D) Kuyunun içine inmek için

15. Bu fıkraya getirilebilecek en uygun başlık aşağıdakilerden hangisidir?

- A) Nasrettin Hoca ve Karısı
- B) Kopan İp
- C) Kuyuya Düşen Ay
- D) Sirtüstü Düşen Hoca

Türkçe testi bitti.
Matematik testine geçiniz.

1.



Taban bloklarıyla modellenen sayının okunuşu aşağıdakilerden hangisidir?

- A) İki bin yüz otuz altı
- B) Bin iki yüz otuz altı
- C) Üç yüz otuz altı
- D) Üç bin otuz altı

2.



Verilen rakamların tümüyle oluşturulabilecek altı basamaklı en büyük doğal sayı aşağıdakilerden hangisidir?

- A) 540 678
- B) 786 450
- C) 867 054
- D) 876 540


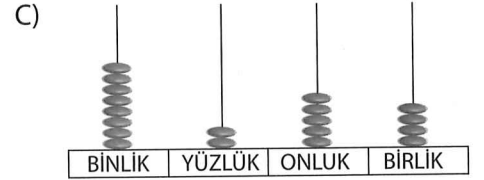
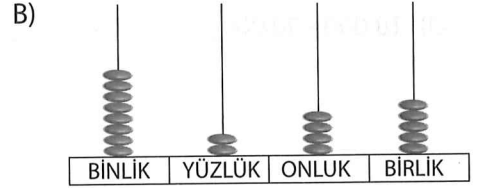
3.

$$(6 \times 10000) + (5 \times 1000) + (7 \times 100) + (9 \times 10) + (2 \times 1)$$

Verilen çözümlenme aşağıdaki sayılardan hangisine aittir?

- A) 6579
- B) 6592
- C) 65 792
- D) 60 592

4. 8245 doğal sayısı hangi seçenekteki abaküste doğru modellenmiştir?



5. Aşağıdaki yüzer ritmik saymaların hangisi yanlıştır?

- A) 2456 - 2556 - 2656 - 2756 - 2856
- B) 3541 - 3641 - 3741 - 3841 - 3941
- C) 4610 - 4710 - 4810 - 4910 - 5110
- D) 5794 - 5894 - 5994 - 6094 - 6194

6. 491 752 sayısının birler bölümündeki sayı aşağıdakilerden hangisidir?

- A) 752
- B) 491
- C) 52
- D) 2

7. Beş basamaklı en büyük doğal sayıyı en yakın onluğa ve en yakın yüzlüğe yuvarladığımızda oluşan sayılar aşağıdakilerden hangisidir?

- A) 99 999 - 999 999
B) 100 000 - 100 000
C) 90 000 - 100 000
D) 10 000 - 90 000

8.

İllerin Adı	İllerin Nüfusu
Trabzon	807 903
Eskişehir	871 187
Muğla	967 487
Mardin	829 195

Ülkemizdeki bazı illerin nüfusları yukarıdaki tabloda verilmiştir.

Bu illerin nüfuslarının küçükten büyüğe doğru sıralanışı aşağıdakilerden hangisidir?

- A) $967\ 487 < 871\ 187 < 829\ 195 < 807\ 903$
B) $871\ 187 < 829\ 195 < 807\ 903 < 967\ 487$
C) $829\ 195 < 807\ 903 < 967\ 487 < 871\ 187$
D) $807\ 903 < 829\ 195 < 871\ 187 < 967\ 487$

9.

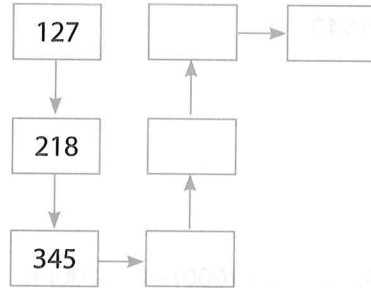


Bu örüntüye göre A ve B yerine gelecek sayıların toplamı aşağıdakilerden hangisidir?

- A) 550
B) 560
C) 570
D) 580

ATA YAYINCILIK

10.



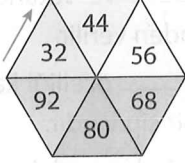
Bu tabloda yer alan sayılar, kendinden bir önceki sayı ile toplanarak ilerlemektedir.

Buna göre boş olan kutulara aşağıdakilerden hangisi yazılamaz?

- A) 2379
B) 1372
C) 908
D) 563



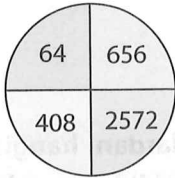
11.



Bu sayı örüntüsünün kuralı aşağıdakilerden hangisidir?

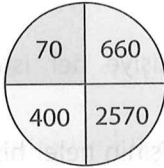
- A) Sayılar 12 artarak devam etmektedir.
- B) Sayılar 11 azalarak devam etmektedir.
- C) Sayılar 13 artarak devam etmektedir.
- D) Sayılar 13 azalarak devam etmektedir.

12.

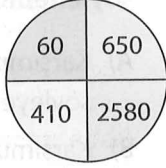


Yandaki doğal sayıların en yakın onluğa yuvarlanmış hâli aşağıdakilerden hangisinde doğru verilmiştir?

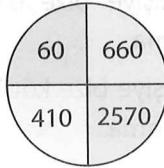
A)



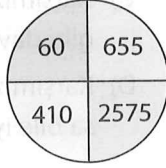
B)



C)



D)



13. 6, 8, 0, 1 ve 2 rakamları birer kez kullanılarak oluşturulacak beş basamaklı en büyük doğal sayının okunuşu aşağıdakilerden hangisidir?

- A) Seksen altı bin yüz yirmi
- B) Altmış sekiz bin iki yüz on
- C) Yirmi altı bin yüz sekiz
- D) Seksen altı bin iki yüz on

14. $415\ 618 > \blacktriangle > 415\ 608$

Bu sıralamada \blacktriangle yerine aşağıdaki sayılardan hangisi getirilemez?

- A) 415 610
- B) 415 612
- C) 415 617
- D) 415 619

15.

$$2297 + 1326$$

Ayşe, yukarıdaki işlemi doğru yapıyor. Ayşe'nin işlem sonucunda bulunduğu sayının binler basamağındaki rakamın basamak değeri kaçtır?

- A) 3600
- B) 3000
- C) 2400
- D) 2000

Matematik testi bitti.
Sosyal Bilgiler testine geçiniz.

1. I Kişiyi özel bilgiler yer almaktadır.
- II. Devlet tarafından doğumdan itibaren her vatandaşa verilir.
- III. Araba kullanabilmek için gereklidir.
- IV. Kişilerin meslekleri ile ilgili bilgilere yer verilir.

Yukarıda resmî kimlik belgemiz ile ilgili verilen bilgilerden hangileri doğrudur?

- A) I ve II. B) II ve III.
C) II ve IV. D) III ve IV.

2.



Çağla

İrem, Samet, Nalan ve ben çok iyi dört arkadaşız. İrem satranç oynamayı, Samet kitap okumayı, Nalan müzik dinlemeyi seviyor. Bense doğada yürümeyi seviyorum. Yine de çok güzel bir arkadaşlığımız var.

Çağla'nın anlattıklarından yola çıkılarak aşağıdakilerden hangisine ulaşılabılır?

- A) Arkadaşlar her zaman aynı şeyleri yapmalıdır.
- B) Farklılıklar arkadaş olmaya engel değildir.
- C) Saygı arkadaşlar arasındaki bağı güçlendirir.
- D) Arkadaşlar birbirlerine yardım etmelidirler.

3. • Kimlik belgeleri _____ ve Vatandaşlık İşleri Müdürlüğünden verilir.
- Kimlik kartlarında _____ özelliği kazandıran elektronik bir çip vardır.
- Resmî devlet işlerinde mutlaka _____ gereklidir.

Bu cümlelerdeki boşluklar aşağıdaki ifadelerle tamamlanırsa hangisi açıkta kalır?

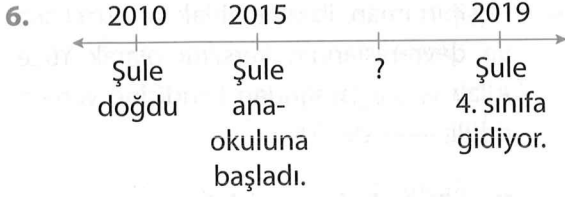
- A) akıllı kart
B) T.C. kimlik numarası
C) Nüfus
D) seri numarası

4. **Türkiye Cumhuriyeti vatandaşı olduğumuzu gösteren kimlik belgeleri hangi kurumdan alınır?**

- A) İl millî eğitim müdürlüklerinden
B) İl emniyet müdürlüklerinden
C) Nüfus ve Vatandaşlık İşleri Müdürlüğünden
D) Yaşadığımız köyün veya mahallenin muhtarından

5. **Aşağıdaki davranışlardan hangisinin empatiyi en doğru şekilde tanımladığı söylenebilir?**

- A) Karşımızdaki kişiye her istediğimizi söyleyebilme.
- B) Karşımızdaki kişinin neler hissettiğini tahmin edip ona göre davranma.
- C) Karşımızdaki kişiye bize davrandığı gibi davranmama.
- D) Karşımızdaki kişiye bize kötü davranma bile iyi davranma.



Yukarıda Şule'nin yaşamındaki olaylar kronolojik sıraya konmuştur.

Buna göre "?" olan yere aşağıdakilerden hangisi yazılamaz?

- A) 2017 - Kardeşi Şirin dünyaya geldi.
- B) 2016 - Atatürk İlkokulunda birinci sınıfa başladı.
- C) 2018 - Babasının işi dolayısıyla Konya'ya taşındı.
- D) 2013 - Konuşmaya başladı.

7.



Çağdaş

İlkokul 4. sınıf öğrencisiyim. Annem ilkokul öğretmeni, babam doktordur. Ben de ileride otomobil tasarımcısı olmak istiyorum. Derslerimden fırsat buldukça hayalimdeki arabaların çizimlerini yapıyorum. Tasarımlarımı çeşitli otomobil dergilerine de gönderiyorum. Annem kendisi gibi öğretmen olmamı istiyor. Oysa ben hayalimdeki mesleği yapmak istiyorum.

Bu sözleri söyleyen Çağdaş'ın meslek seçimini aşağıdakilerden hangisi etkilemiştir?

- A) İlgi alanı
- B) Yetenekleri
- C) İhtiyaçları
- D) Annesinin isteği

8. **Aşağıdakilerden hangisi ilgi alanlarımızdan değildir?**

- A) Pul koleksiyonu yapmak
- B) Türk halk müziği dinlemek
- C) Yağlı boya resimleri yapmak
- D) Basketbol maçlarını izlemek

9. Sevdiğiniz bir arkadaşınızla oyun oynarken arkadaşınız size çarptı ve yere düştünüz. Okul formanız kirlendi.

Bu durumda ne düşünür ve nasıl davranırsanız doğru olur?

- A) İstemeyerek olduğunu düşünür, neden dikkatli oynamadığını sorarım.
- B) Onun beni bilerek düşürdüğünü düşünür, bu yüzden ben de onu düşürürüm.
- C) Benimle oynamaktan zevk olmadığını düşünür, onunla arkadaşılığımı keserim.
- D) Evde annemin kızacağını düşünerek, arkadaşıma bağırırım.

10. • Fotoğraf, pul vb. dizip saklamaya yarayan bir tür defter.
• Hayatımızla ilgili önemli olayların sıralaması.
• Bir iş veya oluşun içinde geçtiği, geçeceği veya geçmekte olduğu süre.

Aşağıdaki kavramlardan hangisi bu tanımlardan herhangi birine ait değildir?

- A) Albüm
- B) Kimlik belgesi
- C) Zaman
- D) Kronoloji

DİN KÜLTÜRÜ VE AHLAK BİLGİSİ DERSİNİ OKUYANLAR BU SORULARI CEVAP KÂĞIDININ SOSYAL BİLGİLER (11 - 15) KISMINA İŞARETLEYECEKLERDİR.

11. Aşağıdakilerden hangisi günlük konuşmalarımızda kullandığımız dinî ifadelerden biri değildir?

- A) Elhamdülillah
- B) Kendine iyi bak
- C) Bismillâhirrahmânirrahîm
- D) Allah'a şükür

12. Aşağıdakilerden hangisi "Bismillâhirrahmânirrahîm" sözünün anlamıdır?

- A) Rahmân ve Rahîm olan Allah'ın adıyla başlarım.
- B) Allah, ona rahmet etsin, esenlik ve iyilik versin.
- C) Selam, esenlik, iyilik, güzellik senin üzerine olsun.
- D) Kovulmuş şeytanın şerrinden Allah'a (c. c.) sığınırım.

13. Aşağıdakilerden hangisi Allah'a (c.c.) şükür ifadelerinden biri değildir?

- A) Hamd olsun.
- B) Allah'a(c.c.) şükür
- C) Elhamdülillah
- D) Selam

14. "Kişinin iman, ibadet, ahlak ve güzel söz ve davranışlarının karşılığı olarak Yüce Allah (c. c.) tarafından kendisine verilen ödüle ---- denir."

Bu cümlede boş bırakılan yere aşağıdakilerden hangisi yazılmalıdır?

- A) günah
- B) salavat
- C) sevap
- D) tekbir

15.

Helal	Allah'ın (c.c.) yapılmasını kesin olarak yasakladığı söz ve davranışlardır.
Estağfirullah	Allah her türlü eksiklik, kusur ve ayıptan uzaktır.
Sübhanallah	Dinimizin kullanılmasına, yapılmasına, yenilip içilmesine izin verdiği şeylerdir.
Haram	

Kavramlar ve açıklamalar eşleştirildiğinde aşağıdakilerden hangisi açıkta kalır?

- A) Sübhanallah
- B) Estağfirullah
- C) Helal
- D) Haram

DİN KÜLTÜRÜ VE AHLAK BİLGİSİ DERSİNİ OKUYANLAR BU SORULARI CEVAP KÂĞIDININ SOSYAL BİLGİLER (11 - 15) KISMINA İŞARETLEYECEKLERDİR.

11.

★	Arkadaşlarımızın zor durumlarında onların yanında olabilmek
▲	Özel gereksinimi olan arkadaşlarımıza
■	Empati kurma becerisine sahip bir kimse
●	Bireysel farklılıklara saygı duymayan kişiler

	kendini başkalarının yerine koyabilir.
	toplum hayatında dışlanabilirler.
	arkadaşlık ilişkilerimizi güçlendirir.
	her zaman yardımcı olurum.

Sembollerle belirtilen ifadeleri, bu ifadeleri tamamlayacak yargılarla eşleştirdiğimizde kutucukların görünümü aşağıdakilerin hangisindeki gibi olur?

A)	●	B)	■	C)	★	D)	▲
	★		●		▲		■
	▲		★		■		●
	■		▲		●		★

12.

1	Bir kişi veya kuruluşun ilgilendiği konular.
2	Bir kimsenin bir şeyi anlama ve yapabilme niteliği, kabiliyeti.
3	Gereksinim.

	Yetenek
	İhtiyaç
	İlgi alanı

Kavramlar sözlük anlamlarıyla eşleştirildiğinde kutucukların görünümü aşağıdakilerin hangisindeki gibi olur?

A)	2	B)	1	C)	3	D)	2
	3		2		1		1
	1		3		2		3

13. Aşağıdaki davranışlardan hangisi bireyin anlayışlı olduğunu gösterir?

- A) Fiziksel özellikleri farklı olan arkadaşlarla oynamamak
 B) Her zaman kendi fikirlerinin kabul edilmesinde ısrar etmek
 C) Arkadaşlarının farklı önerilerini kabul etmemek
 D) Herkesin duygu ve düşüncelerinin farklı olabileceğini düşünerek saygı duymak

14. Aşağıdaki ifadelerden hangisi yanlıştır?

- A) Boyumuz, saç ve göz rengimiz fiziksel özelliklerimizdendir.
 B) Çevremizdeki bireylerin farklılıklarını saygı ile karşılamak toplumsal dayanışmayı güçlendirir.
 C) Empati kurabilmek, bireylerin birbirine saygısını azaltır.
 D) Hayal kurmak ve mutlu olmak duygusal özelliklerimizdendir.

- 15.** 1. 23 Nisan 1920'de TBMM'yi açtı.
 2. 10 Kasım 1938'de hayata gözlerini yumdu.
 3. 29 Ekim 1923'te cumhuriyeti ilan etti.
 4. 1881 yılında Selanik'te doğdu.

Yukarıda, Atatürk'ün hayatındaki bazı olaylar verilmiştir.

Bu olayların kronolojik sıralaması aşağıdakilerin hangisinde doğru olarak verilmiştir?

- A) 1 - 3 - 2 - 4
 B) 4 - 1 - 3 - 2
 C) 3 - 2 - 4 - 1
 D) 2 - 4 - 1 - 3

Sosyal Bilgiler testi bitti.
 Fen Bilimleri testine geçiniz.

1. Yer kabuğunun yapısıyla ilgili,

- I. Yer kabuğu ve yeryüzü şekilleri kayalardan oluşmaktadır.
- II. Yer kabuğu Dünya'nın en iç katmanıdır.
- III. Yer kabuğu Dünya'nın gözlemlenemeyen katmanıdır.
- IV. Yer kabuğu karaların olduğu yerlerde kalın, okyanus tabanlarında daha incedir.

yargılarından hangileri doğrudur?

- A) I ve II. B) I ve IV.
C) II ve III. D) III ve IV.

2. Aşağıda madenlerle ilgili verilen bilgilerden hangisi doğrudur?

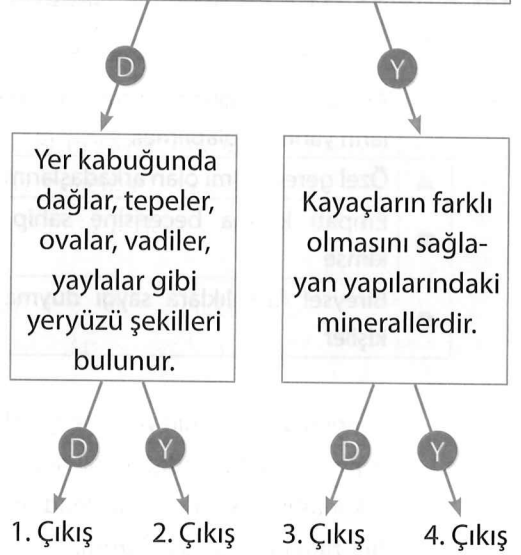
- A) Altın, gümüş, bakır, bor birer madendir.
B) Madenlerin ekonomik değeri yoktur.
C) Madenler doğada her yerde bulunur.
D) Taş, ekonomik değeri yüksek bir maddedir.

3. Kayaçlarla ilgili aşağıdaki bilgilerden hangisi yanlıştır?

- A) Rüzgâr, sıcaklık farkı, yağmur ve akarsu gibi dış faktörlerle parçalanır.
B) Kayaçlar parçalanma sonucunda kaya, çakıl, taş ve kum taneciklerine dönüşür.
C) Manto katmanında bulunan magmanın yeryüzüne ulaşarak soğuyup katılaşmasıyla kayaçlar oluşur.
D) Bütün kayaçlar aynı renk ve yapıdadırlar.

4.

Canlılar, Dünya'nın dış katmanında yani yer kabuğunda yaşarlar.



Kutucuklarda verilen bilgiler doğru ise "D", yanlış ise "Y" yolu takip edildiğinde kaç numaralı çıkışa ulaşılır?

- A) 1. Çıkış B) 2. Çıkış
C) 3. Çıkış D) 4. Çıkış

5.

Kuyumculukta, elektrik elektronikte, diş hekimliğinde, süslemede, madalya yapımında, resmî paralarda kullanılır.

Otomobil yapımında inşaatlarda, bilgisayarların önemli bir parçası olan manyetik depolama alanlarının yapımında kullanılır.

Paslanmazlık özelliği nedeniyle uçak ve gemi yapımında, boya maddelerinde, seramiklerde, paslanmaz çelik üretiminde kullanılır.

Bu kutularda aşağıdaki madenlerden hangisinin kullanım alanları verilmiştir?

- A) Altı B) Demir
C) Mermer D) Krom

6.


Kavramlar	Açıklamalar
★	Yer kabuğunun farklı derinliklerinden çıkarılan ve ekonomik değeri olan kayalardır.
▲	Kayaçların birbirinden farklı olmasını sağlayan ve yapılarını oluşturan maddelerdir.
●	Milyonlarca yıl öncesinden günümüze kadar ulaşan kalıntı ve izlerdir.

Sembollerle gösterilen kavramların açıklamaları tabloda verilmiştir.

Buna göre bu kavramlar aşağıdakilerin hangisinde doğru verilmiştir?

	★	▲	●
A)	Kayaç	Ham madde	Maden
B)	Maden	Mineral	Fosil
C)	Ham madde	Fosil	Mineral
D)	Mineral	Kayaç	Maden

7.



Bu modeli inceleyen bir öğrenci aşağıdaki bilgilerden hangisine ulaşamaz?

- A) Dünya'nın kendi etrafında döndüğüne
- B) Dünya'nın Güneş etrafında dolandığına
- C) Güneş'in Dünya etrafında dolandığına
- D) Dünya'nın bir bölümünün aydınlık bir bölümünün karanlık olduğuna

8. Aşağıdakilerden hangisi fosillerden yararlanarak elde ettiğimiz bilgilerden değildir?

- A) Bulunduğu bölgenin geçmişteki yüzü şekilleri ve iklim şartları ile ilgili bilgiler verir.
- B) Günümüzde nesli tükenmiş veya eskiden yaşamış canlıların geçirdiği gelişmeler hakkında bilgi verir.
- C) Dünya'nın katmanlarının nasıl oluştuğu hakkında bilgi verir.
- D) Bulunduğu bölgenin yaşam koşullarını öğrenmemiz için bize çeşitli bilgiler verir.

9.



Şemadaki ★ ve ▲ yerine aşağıdakilerden hangileri yazılmalıdır?

- | | ★ | ▲ |
|----|-----------|---------|
| A) | Fosil | Mineral |
| B) | Altın | Fosil |
| C) | Alüminyum | Mineral |
| D) | Mineral | Fosil |

10. Dünya, kendi etrafındaki dönüşünü ne kadar sürede tamamlar?

- A) 1 yıl
- B) 1 hafta
- C) 1 ay
- D) 1 gün

11. Bir yılın 365 gün 6 saat olmasının nedeni nedir?

- A) Ay'ın Güneş etrafındaki dolanma süresi
- B) Dünya'nın kendi etrafındaki dönme süresi
- C) Dünya'nın Güneş etrafındaki dolanma süresi
- D) Güneş'in kendi etrafındaki dönme süresi

12.

Ölen her canlı fosilleşmez. Fosilleşmenin oluşabilmesi için _____

Bu verilen ifade aşağıdakilerden hangisi ile tamamlanırsa doğru olur?

- A) canlı kalıntısının havayla temas etmesi gerekir.
- B) canlı kalıntısının üstü kum, kil, toprak tabakalarıyla örtülerek havayla teması kesilmelidir.
- C) canlının havayla temasının kesilip hemen çürümesi gerekir.
- D) canlı kalıntısının çok sıcak bir ortamda bulunması gerekir.

13. Gece ve gündüzün oluşumunda aşağıdaki hareket türlerinden hangisi etkilidir?

- A) Dünya'nın kendi etrafındaki dönme hareketi
- B) Dünya'nın Güneş etrafındaki dolanma hareketi
- C) Ay'ın Dünya etrafındaki dolanma hareketi
- D) Ay'ın Güneş etrafındaki dolanma hareketi

14.




Tarık Öğretmen

Dünya kendi etrafında dönme, Güneş etrafında dolanma hareketleri yapmasaydı _____ oluşmazdı.

Tarık Öğretmen'in tahtaya yazdığı ifade aşağıdakilerin hangisiyle tamamlanamaz?

- A) mevsimler
- B) Dünya'nın katmanları
- C) gece
- D) gündüz

15.



Dünya ve Güneş'in konumu şekildeki gibiyken Bengü, bulunduğu yerde gündüz olduğunu söylüyor.

Buna göre Bengü numaralanmış yerlerin hangisinde yaşıyor olabilir?

- A) 1 ve 2.
- B) 1 ve 3.
- C) 2 ve 3.
- D) 3 ve 4.

Fen Bilimleri testi bitti.
İngilizce testine geçiniz.

1. Eşleştirmelerden hangisi doğrudur?

A)



board

B)



window

C)




map

D)



desk


2.



Boş bırakılan yere hangi ifade getirilebilir?

- A) Be quiet, please
- B) Here you are
- C) Come in
- D) Sorry

3.



Boş bırakılan yere hangisi getirilebilir?

- A) pencil
- B) desk
- C) pencil case
- D) pencil sharpener

4.



Görseli ifade eden seçeneği işaretleyiniz.

- A) Go back to your place, please.
- B) Open the door, please.
- C) Stand up, please.
- D) Be quiet, please.

5. Rasim : Give me the eraser, please.


Berat : _____.

Rasim : Thank you.

Boş bırakılan yere hangi ifade getirilemez?

- A) Sure
- B) Of course
- C) Sorry, not right now
- D) Here you are


6.



Hangi ifade yukarıdaki görsellerden biri ile eşleşmez?

- A) Close the window.
- B) Turn off the light.
- C) Stand up.
- D) Open the door.


7.



Boş bırakılan yere hangi ifade getirilemez?

- A) Listen to me
- B) Come in
- C) Clean the board
- D) Look at the board

8.



Boş bırakılan yere hangi ifade getirilebilir?

- A) May I go out
- B) Can I turn on the light
- C) Can I clean the board
- D) May I come in


9.

forty - three

Verilen sayı hangi görsele aittir?

- A)
- B)
- C)
- D)

10.



Yarışmada puanı en yüksek olan öğrenci kimdir?

- A) Sema
- B) Erdal
- C) Hasan
- D) Ceyda

AD SOYAD >>		Türkçe				Matematik				Hayat Bil. / Sosyal Bil.				Fen Bilimleri				İngilizce								
Ö.No		Soru	A	B	C	D	Soru	A	B	C	D	Soru	A	B	C	D	Soru	A	B	C	D	Soru	A	B	C	D
0		1					1					1					1					1				
1		2					2					2					2					2				
2		3					3					3					3					3				
3		4					4					4					4					4				
4		5					5					5					5					5				
5		6					6					6					6					6				
6		7					7					7					7					7				
7		8					8					8					8					8				
8		9					9					9					9					9				
9		10					10					10					10					10				
		11					11					11					11					11				
		12					12					12					12					12				
		13					13					13					13					13				
		14					14					14					14					14				
		15					15					15					15					15				

Test bitti. Cevaplarınızı kontrol ediniz.

CEVAP ANAHTARI

5. DENEME															
TÜRKÇE	A	D	C	D	A	B	C	A	D	A	B	D	C	B	C
MATEMATİK	A	D	C	B	C	A	B	D	C	B	A	C	D	D	B
SOSYAL BİLGİLER	A	B	D	C	B	D	A	C	A	B	B	A	D	C	B
FEN BİLİMLERİ	B	A	D	A	C	B	C	C	A	D	C	B	A	B	A
İNGİLİZCE	A	B	D	D	C	A	B	D	A	C					
Soru No.	1	2	3	4	5	6	7	8	9	10	11	12	13	14	15