

ŞAMPİYONLARIN OKULU

SANCAKTEPE
ABDURRAHMANGAZİ PROJE
İMAM HATİP ORTAOKULU

10 MART 2024

OKUL KABUL SINAVI

4. SINIF KIZ ÖĞRENCİLER



**HAFIZLIK
EĞİTİMİ**

(SENE KAYBI OLMADAN
OKULLA BİRLİKTE HAFIZLIK)

**HEDEF
LGS**

(SINAVA PROFESYONEL
HAZIRLIK EĞİTİMİ)



**ROBOTİK
KODLAMA
3D TASARIM
EĞİTİMİ**

**YOĞUNLAŞTIRILMIŞ
YABANCI DİL
(İNGİLİZCE) EĞİTİMİ**



Başvuru için okutunuz

Başvuru Tarihleri: 05 OCAK 2024 - 8 MART 2024

Sınav Tarihi: 10 MART 2024 PAZAR **Sınav Saati:** 10:00

Sınav Yeri: Abdurrahmangazi İmam Hatip Ortaokulu

Açık Adres: Abdurrahmangazi Mh. Abdurrahman Gazi Cd.
Güzelbahçe Sk. No:2 Samandıra - Sancaktepe / İSTANBUL

Sınav Başvurusu İçin;

☎ 0216 311 20 31 - 0541 826 78 43 [✉ abdurrahmangaziho.meb.k12.tr](mailto:abdurrahmangaziho.meb.k12.tr)

Adayların velilerinin internet başvuru sonrası
onay için okula gelmeleri gerekmektedir.



**TÜRKİYE
2023 LGS
BİRİNCİSİ
OKULUMUZ ÖĞRENCİSİDİR**

[Instagram](https://www.instagram.com/abdurrahmangaziho) /abdurrahmangaziho
[Facebook](https://www.facebook.com/abdurrahmangaziho) /abdurrahmangaziho
[TikTok](https://www.tiktok.com/@sagiho2015) @sagiho2015

Soru Sayısı : 70

Sınav Süresi : 80 Dakika

Adı ve Soyadı :

Sınıfı : Numarası:



3006

TÜRKÇE TESTİ

1 ve 2. soruları aşağıdaki metne göre cevaplayınız.

Çevre kirlenmesine en büyük zararı insanoğlu vermektedir. Yaşadığımız doğayı korumak ve zarar görmesini engellemek zorundayız. Gelecekteki mirasçılarımıza iyi bir çevre bırakmak için çevre kirlenmesini mutlaka önlemeliyiz. Yeşil alanları ve hayvanları koruyup çoğaltmalıyız. Bilinçsizce çevreye attığımız plastik bir pet şişenin beş yüzyıl çürümeden kaldığını söylediğimizde tehlikenin boyutlarını bir nebze olsun gözler önüne serebiliriz. Çevrenin kirlenmesini önlemek için her insanoğlu üzerine düşeni mutlaka yapmalıdır.

1. Aşağıdakilerden hangisi bu metinden çıkarılabilecek bir yargı değildir?

- A) Çevreye en büyük zararı insanlar vermektedir.
- B) Doğayı korumak ve zarar görmesini engellemek zorunludur.
- C) Çevreyi korumak çok zahmetli ve zor bir iştir.
- D) Plastik atıklar doğada uzun yıllar çürümeden kalabilmektedir.

2. Bu metnin ana fikri aşağıdakilerden hangisidir?

- A) Yeşil alanları ve hayvanları koruyup çoğaltmalıyız.
- B) Çevre kirlenmesini önlemek için hepimiz üzerimize düşeni yapmalıyız.
- C) Doğada uzun yıllar yok olmayan ürünleri kullanmamalıyız.
- D) İnsanoğlunun gücü çevreyi korumaya yetmez.

3. Aşağıdaki cümlelerin hangisinde özel adların yazımı ile ilgili bir yanlışlık yapılmıştır?

- A) Mustafa bey hastalandığı için işe gitmedi.
- B) 30 Ağustos'ta Zafer Bayramı'nı kutladık.
- C) Türkiye'nin en büyük gölü Van Gölü'dür.
- D) Köpeğim Bulut çok şirindir.

4. Aşağıdakilerin hangisinde satır sonuna sığmayan kelime hecelerine yanlış ayrılmıştır?

- A) _____ prog-
ram
- B) _____ hanı-
meli
- C) _____ kıla-
vuz
- D) _____ Erzur-
um

5. Aşağıdaki cümlelerde altı çizili sözcüklerden hangisi eş sesli değildir?

- A) Fırından ekmek aldım.
- B) Kışlık bot almak için mağazaya gittim.
- C) Akşamları hikâye kitabı okumadan uyumam.
- D) Kümesteki kaz yumurtasını sabah aldım.

6. Aşağıdaki cümlelerin hangisinde neden - sonuç ilişkisi vardır?

- A) Servisi kaçırdığım için okula yürüyerek gittim.
- B) Çiseleyen yağmurun altında biraz yürüdüm.
- C) Her öğrenci mutlaka planlı çalışmalıdır.
- D) Hafta sonu piknik yapmaya gittik.

7.

Printer	Genel Ağ
Full	Tam
İnternet	Tıpkı Çekim
Fotokopi	

Yabancı dillerden dilimize giren yukarıdaki sözcükler Türkçe karşılıklarıyla eşleştirildiğinde hangisi dışta kalır?

- A) full B) İnternet
- C) Fotokopi D) Printer

ATA YAYINCILIK

8. I. Gökyüzünde ay yıldızlarla dans ediyor.
II. Konuşmak kadar dinlemek de önemlidir.
III. Kaplumbağa yarışı kaybettiği için ağlıyor.
IV. Sağlığımız için dengeli ve düzenli beslenmeliyiz.

Numaralanmış cümlelerden hangileri hayali ögeler içermektedir?

- A) I ve II. B) I ve III.
- C) II ve III. D) III ve IV.

9. Aşağıdakilerden hangisi bir metnin giriş cümlesi olabilir?

- A) Yani bütün bu söylediklerimi iyi düşünün.
 B) Maalesef bu söylediklerinin hepsi birer hayalden ibaret.
 C) Taksici Mehmet Bey araba sürmeyi çok seviyordu.
 D) Sonuç olarak kitap en büyük hazinedir.

10. Kemal, Atatürk'ün hayatını konu alan bir çalışma yapmak istemektedir.

Buna göre, Kemal'in yapacağı çalışmada kullanmayacağı görsel aşağıdakilerden hangisidir?

A)



B)



C)



D)



11. Haydi koş, bir, iki, üç ...

Gereksiz yanan ampuller,
 İstif etmeyin enerjiyi diyor,
 Onu yeniden sağlamak güç...

(Öner Kemal)

Bu şiirin ana duygusu aşağıdakilerden hangisidir?

- A) İnsan sevgisi
 B) Tasarruf etmenin önemi
 C) Doğaya duyulan hayranlık
 D) Suya duyulan ihtiyaç

12. 1. Köpek açlıktan ve soğuktan tir tir titriyordu.
 2. Bu yüzden o da köpeği odunluğa götürüp üstünü bir bez parçasıyla örttü.
 3. Hasan parka gittiğinde karşısına bir köpek yavrusu çıktı.
 4. Onu eve götürse annesinin kızabileceğini düşündü.

Numaralanmış cümleler oluş sırasına göre nasıl sıralanmalıdır?

- A) 3 - 1 - 4 - 2 B) 1 - 2 - 3 - 4
 C) 4 - 2 - 3 - 1 D) 2 - 3 - 1 - 4

13. Lahanağillerden brokoli, boyunun hızlı uzamasından ve çok fazla hareket etmeden kaynaklanan kemik ağrılarını iyi gelir. Vücudunu kirli havanın etkilerinden korur. Yaralarının çabuk iyileşmesini ve midenin keyfinin daima yerinde olmasını sağlar. Kalbine de iyi bakar.

Bu metin ile ilgili aşağıdakilerden hangisi söylenebilir?

- A) Hikâye edici metin türlerine örnektir.
B) Yazarın amacı bilgi vermektir.
C) Dizeler hâlinde yazılmıştır.
D) Zaman ve mekân unsurlarına yer verilmiştir.

15. Cengiz Bey ()

() Bugün, birlikte sinemaya gidelim mi () diye sordu.

Beyza ()

– Bugün, sinemaya gitmek istemiyorum () dedi.

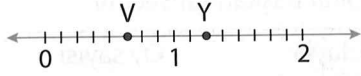
Bu metinde yay ayraç ile belirtilen yerlere aşağıdakilerin hangisinde verilen noktalama işaretleri getirilmelidir?

- A) (,) (–) (?) (.) (,)
B) (:) (") (") (:) (.)
C) (,) (–) (.) (,) (.)
D) (:) (–) (,) (:) (.)

14. "Tecrübe" sözcüğünün eş anlamlısı aşağıdakilerden hangisidir?

- A) Endişelenmek
B) Düşünce
C) Deneyim
D) Yitirmek

1.



Bu sayı doğrusunda belirtilen noktalara karşılık gelen kesirler aşağıdakilerin hangisinde doğru verilmiştir?

- | | V | Y |
|----|---------------|----------------|
| A) | $\frac{5}{6}$ | $\frac{2}{6}$ |
| B) | $\frac{5}{8}$ | $1\frac{2}{8}$ |
| C) | $\frac{5}{7}$ | $1\frac{2}{7}$ |
| D) | $\frac{5}{7}$ | $\frac{8}{7}$ |

2.

$$\frac{1}{9} < \frac{1}{\star} < \frac{1}{\blacksquare} < \frac{1}{6}$$

Bu sıralamada \star ve \blacksquare sembolleri yerine yazılacak sayıların toplamı aşağıdakilerden hangisidir?

- | | |
|-------|-------|
| A) 15 | B) 14 |
| C) 13 | D) 12 |

3. Metin Bey'in 448 TL'si vardı. Metin Bey parasının $\frac{3}{7}$ 'ünü harcadı.

Buna göre Metin Bey kaç TL harcamıştır?

- | | |
|--------|--------|
| A) 64 | B) 126 |
| C) 192 | D) 204 |

4.

I.	$\frac{16}{8} - \frac{13}{8}$	II.	$\frac{11}{25} - \frac{6}{25}$
III.	$\frac{22}{30} - \frac{30}{30}$	IV.	$\frac{14}{3} - \frac{3}{3}$

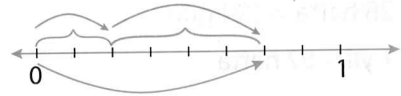
Bu kesir çiftlerini karşılaştırmak için "<, >" sembolleri kullanılacaktır.

Buna göre numaralanmış kesir çiftlerinden hangisine konulacak sembol diğerlerinden farklıdır?

- A) I. B) II. C) III. D) IV.

ATA YAYINCILIK

5.



Sayı doğrusu üzerinde modellenen kesirlerin toplama işlemi aşağıdakilerden hangisidir?

- | | |
|----|-------------------------------------------|
| A) | $\frac{1}{8} + \frac{3}{8} = \frac{4}{8}$ |
| B) | $\frac{2}{8} + \frac{3}{8} = \frac{5}{8}$ |
| C) | $\frac{3}{8} + \frac{4}{8} = \frac{7}{8}$ |
| D) | $\frac{2}{8} + \frac{4}{8} = \frac{6}{8}$ |

6. Aşağıdaki işlemlerden hangisinin sonucu yanlıştır?

A) $3\frac{2}{6} - 2\frac{1}{6} = 1\frac{3}{6}$

B) $\frac{16}{8} - \frac{9}{8} = \frac{7}{8}$

C) $4\frac{5}{7} - 1\frac{2}{7} = 3\frac{3}{7}$

D) $\frac{24}{9} - \frac{13}{9} = \frac{11}{9}$

7. Mustafa, cebindeki 125 TL'nin $\frac{2}{5}$ 'si ile çanta, $\frac{2}{5}$ 'si ile de kitap almıştır.

Mustafa'nın geriye ne kadar parası kalmıştır?

- A) 20 B) 25 C) 35 D) 50

8. Aşağıda verilen dönüşümlerden hangisi yanlıştır?

A) 36 saat = 2160 dakika

B) 4 yıl = 48 ay

C) 28 hafta = 194 gün

D) 1 yıl = 52 hafta

9. Gece saat 22.15'te Diyarbakır'dan hareket eden bir tren, saat 09.25'te Ankara'ya varmıştır.

Buna göre, yolculuk ne kadar sürmüştür?

A) 12 saat 20 dakika

B) 11 saat 40 dakika

C) 11 saat 20 dakika

D) 11 saat 10 dakika

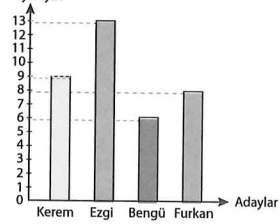
10. Tablo: Sınıf Başkanlığı Seçimi

Adaylar	Oy sayısı
Kerem	9
Ezgi	13
Bengü	6
Furkan	8

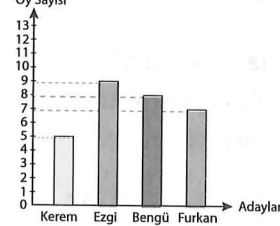
Bu tabloda 4/H sınıfının başkanlık seçiminde adayların aldıkları oylar gösterilmiştir.

Buna göre bu tablodan faydalanılarak oluşturulan sütun grafiği aşağıdakilerden hangisidir?

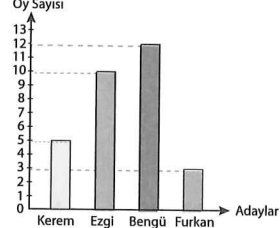
A) Grafik: Sınıf Başkanlığı Seçimi



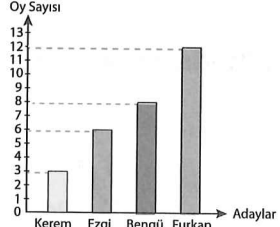
B) Grafik: Sınıf Başkanlığı Seçimi




C) Grafik: Sınıf Başkanlığı Seçimi



D) Grafik: Sınıf Başkanlığı Seçimi



11. Grafik: Beyaz Eşya Satışı



Bu grafikte bir mağazanın bir aylık beyaz eşya satış sayıları verilmiştir.

Buna göre mağazada toplam kaç adet beyaz eşya satılmıştır?

- A) 35 B) 40 C) 45 D) 50

12. 6, 9, 0, 3, 5, 8 rakamları kullanılarak yazılan, rakamları farklı beş basamaklı en büyük doğal sayının binler basamağında aşağıdaki rakamlardan hangisi vardır?

- A) 5 B) 6 C) 8 D) 9

13. Bir doğal sayının birler bölümünde 43, binler bölümünde 9 olduğuna göre, bu sayının 568 fazlası kaçtır?

- A) 9351 B) 9481
C) 9521 D) 9611

14. Bir okulda erkeklerin sayısı, kızların sayısından 294 fazladır.

Bu okuldaki erkek sayısı 1005 olduğuna göre kız öğrenci sayısı kaçtır?

- A) 711 B) 814
C) 821 D) 851

15.

$$\begin{array}{r} \text{---} \quad | \quad 16 \\ \text{---} \quad | \quad 27 \\ \hline \text{---} \\ 3 \end{array}$$

Bu bölme işleminde bölünenin yüzler basamağındaki rakam aşağıdakilerden hangisidir?

- A) 3 B) 4 C) 6 D) 7

Matematik testi bitti.
Sosyal Bilgiler testine geçiniz.

1. **Hatice:** Daha çok aşırı yağın yağmurlardan sonra ya da ilkbaharda karların birden erimesi sonucu oluşan doğal afettir. Bu doğal afetten korunmak için ağaçlandırmaya çalışması, su kanalları ve barajlar yapılmalıdır.

Buna göre, Hatice'nin sözünü ettiği doğal afet aşağıdakilerden hangisidir?

- A) Sel B) Çığ
C) Heyelan D) Deprem

2. **Mehmet Öğretmen:** Deprem öncesinde neler yapılmalıdır?

Ömer: Binalar sağlam yapılmalıdır.

Sena: Aile, afet planı hazırlanmalıdır.


Furkan: Binalardan uzak, açık bir alanda beklenmelidir.

Damla: Devrilerek zarar verebilecek eşyalar sabitlenmelidir.

Mehmet Öğretmen'in sorusuna hangi öğrenci yanlış cevap vermiştir?

- A) Ömer B) Furkan
C) Sena D) Damla

3.



Verilen şemaya göre bu teknolojik ürünle ilgili aşağıdaki yargılardan hangisine ulaşılabilir?


- A) Elektrik üretiminin arttığına
B) Günlük yaşamı zorlaştırdığına
C) Zaman içerisinde geliştiğine
D) Işık kirliliğini azalttığına

4. ★ Kullanılmış atık pilleri, plastik, cam, metal vb. atıkları doğaya atmak, toprağın ve suyun kirlenmesine neden olur.
▲ Taşıtların egzozlarından çıkan gazlar hava kirliliği oluşturur.
● Bilgisayar masasındaki monitör gözümüzden çok yükseğe ve uzağa yerleştirilmelidir.
■ Teknolojik ürünleri kullanmaya başlamadan önce kullanım kılavuzu okunmalıdır.

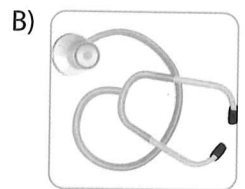
Sembollerle belirtilen bilgilerden hangisi yanlıştır?

- A) ▲ B) ★ C) ■ D) ●


5. **Aşağıdaki teknolojik ürünlerden hangisinin kullanım alanı yanlış verilmiştir?**




İletişim



Eğitim



Ulaşım



Temizlik

6. I. Cloude Chappe (Kloud Şape) tarafından icat edilmiştir.
II. İletişim alanında kullanılan teknolojik bir araçtır.
III. Bu iletişim aracının adı telsizdir.



Verilen görselle ilgili olarak numaralanmış ifadelerden hangileri söylenebilir?

- A) Yalnız II. B) I ve III.
C) II ve III. D) I, II ve III.

7. Muhammed bir ürün tasarlayarak öğrencilerin ödev yazma sorununu ortadan kaldırmak istiyor.

Buna göre Muhammed'in tasarlayacağı ürünün hangi aşamasında olduğu söylenebilir?

- A) İhtiyaç belirleme
B) Reklam yapma
C) Ürünü değerlendirme
D) Planlama

8. Teknolojik bir ürün olan bilgisayarın çocuklar üzerinde olumlu ve olumsuz etkileri vardır.

Aşağıdakilerden hangisi bilgisayarın çocuklar üzerindeki olumlu etkilerinden biridir?

- A) Çocuğun hayatını kolaylaştırarak bilgiye çabuk ulaşmasını sağlar.
B) Çocuğu aile ve arkadaşlık ilişkilerinden koparır.
C) Uzun süre ekrana bakmak göz sağlığını etkiler.
D) Oyun oynamak amacıyla kullanmak zamanın boş geçmesine neden olur.

9.



Eskiden evlerin temizliği el süpürgeleleriyle, halıların temizliği ise sopayla dövülerek sağlanıyordu. Şimdi ise elektrikli süpürgelerle evlerin temizliği hem daha kolay hem de kısa sürede yapılmaktadır.

Bu metin ve görsellerden hareketle aşağıdaki yargılardan hangisine ulaşabiliriz?

- A) Teknolojinin temizlik sektörüne faydası olmamıştır.
B) Teknolojinin gelişmesi temizliğin şeklini, yöntemini ve süresini değiştirmiştir.
C) Teknolojik gelişmeler çok yavaş ilerlemiştir.
D) Temizlik sektörü geçmişten günümüze önemini kaybetmiştir.

10. Teknolojik ürünlerin bazılarını geri dönüşümle tekrar kullanılabilir hâle dönüştürebiliriz.

Buna göre aşağıdakilerden hangisi geri dönüştürülebilen ürünlerden biri değildir?

A)



Plastik

B)



Cam

C)



Meyve kabukları

D)



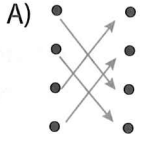
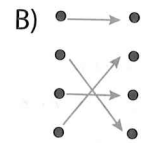
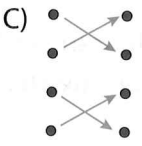
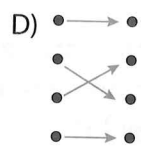
Metal

DİN KÜLTÜRÜ VE AHLAK BİLGİSİ DERSİNİ OKUYANLAR BU SORULARI CEVAP KAĞIDININ SOSYAL BİLGİLER (11 - 15) KISMINA İŞARETLEYECEKLERDİR.

11.

Ayet	● ●	Kur'an-ı Kerim'de başı ve sonu belli olan farklı, sayılarda ayet içeren bölümlere denir.
Sure	● ●	Kur'an-ı Kerim'in her bir cümlesine denir.
Cüz	● ●	Kur'an-ı Kerim-i, ilk suresi olan Fâtiha sure-sinden başlayıp en son suresi olan Nas suresi-ne kadar okumaktır.
Hatim	● ●	Kur'an-ı Kerim'in yirmi sayfadan oluşan her bir bölümüne denir.

Kavramlarla tanımları eşleştirildiğinde okların görünümünü aşağıdakilerden hangisi olur?

- A) 
- B) 
- C) 
- D) 

12. "Âmentü" kavramının anlamı aşağıdakilerden hangisidir?

- A) İnanırım, iman ettim.
B) Bildim, tanıdım.
C) Sevdim, saydım.
D) Duydum, inandım.

13. Aşağıdakilerden hangisi anne babamıza ve aile büyüklerimize karşı görevlerimizden biri değildir?

- A) Dine uygun olan isteklerini yerine getirmek
B) Daima güler yüz ve yumuşaklık göstermek
C) Öğüt ve uyarılarını dinlemek
D) Sıkıntıya düştüklerinde onları yalnız bırakmak

14. Aşağıdakilerden hangisi İslam'da övülen ahlaki tutum ve davranışlardan biri değildir?

- A) Adaletli olmak
B) Savurgan olmak
C) Sözünde durmak
D) Emaneti korumak

15. Kur'an-ı Kerim hakkında aşağıda verilen bilgilerden hangisi yanlıştır?

- A) Hz. Muhammed'e (s.a.v.) gönderilmiştir.
B) Son ilahi kitaptır.
C) Sadece Araplara indirilmiştir.
D) Yirmi üç yılda indirilmiştir.

DİN KÜLTÜRÜ VE AHLAK BİLGİSİ DERSİNİ OKUMAYANLAR BU SORULARI CEVAP KAĞIDININ SOSYAL BİLGİLER (11 - 15) KISMINA İŞARETLEYEBİRLERDİR.

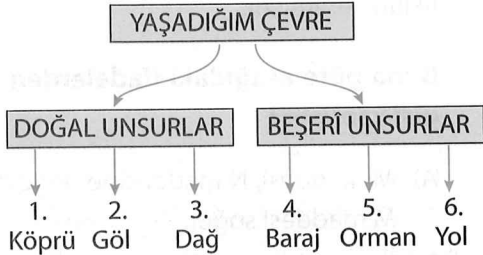
11.



Krokiye göre aşağıdakilerden hangisi okulun kuzeydoğusundadır?

- A) Market B) Kırtasiye
C) Eczane D) Bulut Sitesi

12.







Verilen şemada numaralanmış unsurlardan hangileri yanlış yerlere yazılmıştır?

- A) 1 ve 5. B) 2 ve 4.
C) 3 ve 5. D) 3 ve 6.

13. İtilaf Devletleri hangi anlaşmadan sonra yurdumuzu işgal etmeye başladılar?

- A) Ankara Antlaşması
B) Lozan Barış Antlaşması
C) Mudanya Ateşkes Anlaşması
D) Mondros Ateşkes Antlaşması

14. Aşağıdakilerden hangisi kültürel miras öğelerimizden biri değildir?

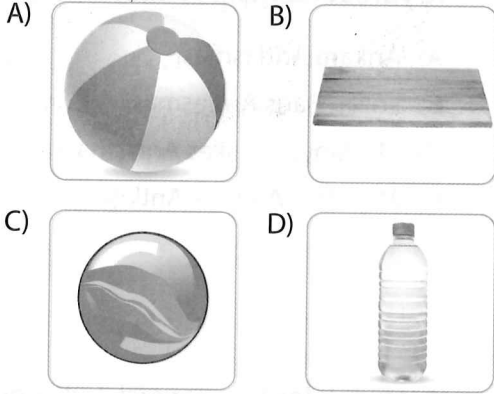
- A)  B) 
C)  D) 

15. Aşağıdaki bilgilerden hangisi ülkemizde kullanılan resmî kimlik belgelerinde yer almaz?

- A) T.C. kimlik numarası
B) Doğum tarihi
C) Okunan okullar
D) Uyruk

Sosyal Bilgiler testi bitti.
Fen Bilimleri testine geçiniz.

1. Aşağıdakilerden hangisi suda batar?



2. Ahmet Bey, evine sebze ve meyve almak için pazara gider. Pazardan 500 g çilek, 3 kg domates, 4 kg salatalık ve 1500 g pırasa alır.

Buna göre Ahmet Bey'in aldığı sebze ve meyvelerin toplam kütlelerinin 10 kg olabilmesi için Ahmet Bey kaç g patlıcan almalıdır?

- A) 1000 B) 800
C) 600 D) 500

3.

1	Madde
2	Kütle
3	Hacim
4	Dara

a	Boş kabın kütlelerine denir.
b	Maddenin boşlukta kapladığı yere denir.
c	Maddenin miktarına denir.
d	Kütlesi ile hacmi olan, duyu organıyla hissedilebilen, canlı ve cansız olan her şeye denir.

Kavramlarla tanımlar aşağıdakilerin hangisinde doğru eşleştirilmiştir?

- A) 1c, 2b, 3a, 4d, B) 1b, 2a, 3d, 4c
C) 1a, 2d, 3c, 4b D) 1d, 2c, 3b, 4a

4. Aşağıdakilerden hangisi, yangın söndürme tüpündeki maddenin hâli için doğru bir yargıdır?

- A) Belirli bir şekli vardır.
B) Bulunduğu ortama yayılır.
C) Akışkan değildir.
D) Sıkıştırılmaz.

5. I. Yağmur
II. Dolu
III. Su buharı
IV. Buz

Numaralanmış kavramlardan hangileri suyun katı hâline örneklerdir?

- A) I ve II. B) II ve III.
C) II ve IV. D) III ve IV.

6.

Madde	K	L	M	N
Sıcaklık (°C)	12	9	16	18

Bu tabloda K, L, M, N maddelerinin sıcaklıkları verilmiştir.

Buna göre aşağıdaki ifadelerden hangisi yanlıştır?

- A) M maddesi, N maddesine değiştirilirse M maddesi soğur.
B) K maddesi L maddesine değiştirilirse L maddesi ısınır.
C) N maddesi, K maddesine değiştirilirse N maddesi soğur.
D) L maddesi, M maddesine değiştirilirse L maddesi ısınır.

7. Katı maddelerin ısı alarak sıvı hâle geçmesine ★, sıvı maddelerin ısı vererek katı hâle geçmesine ▲, sıvı hâldeki maddelerin ısı alarak gaz hâline geçmesine ● denir.

Bu açıklamada ★, ▲ ve ● yerine aşağıdakilerden hangileri yazılmalıdır?

- | | ★ | ▲ | ● |
|----|--------|--------|-------------|
| A) | ısınma | soğuma | hacim |
| B) | madde | kütle | darı |
| C) | hacim | erime | donma |
| D) | erime | donma | buharlaşıma |

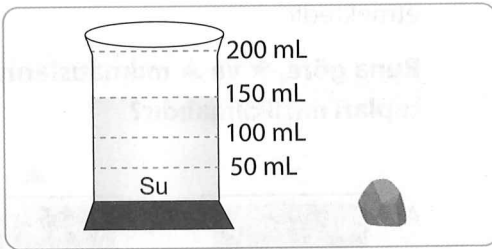
8.

	Maddeler	Saf Madde	Karışım
1.	Tuz	✓	
2.	Limonata	✓	
3.	Çorba		✓
4.	Ayran		✓

Tablonun kaçınıcı satırındaki işaretleme yanlış yapılmıştır?

- A) 1. B) 2. C) 3. D) 4.

9.



200 mL su alabilen kabın 150 mL'si doludur. Bu kaba hacmi bilinmeyen bir taş atılınca kaptan 75 mL su taşılıyor.

Buna göre taşın hacmi kaç mL'dir?

- A) 75 B) 100
C) 125 D) 225

10.




Kübra, arkadaşlarına hazırladığı sunuda yukarıdaki görseli kullanmıştır.

Buna göre Kübra, görseli hangi konuda bilgi vermek için kullanmıştır?

- A) Kayaçların oluşumu
B) Fosillerin oluşumu
C) Madenlerin meydana gelişi
D) Toprağın oluşumu

ATA YAYINCILIK

11. **Aşağıdakilerden hangisinin hareketini, Dünya'nın dolanma hareketine benzetebiliriz?**



12.

	İfadeler	D	Y
1.	Bütün yiyecek ve içeceklerde mineraller bulunur.		
2.	Proteinler vücutta düzenleyici olarak görev alır.		
3.	Karbonhidratlar, vücudumuzun enerji ihtiyacını karşılayan temel besin içerikleridir.		

Mahmut, besin içerikleri ile ilgili yukarıdaki tabloda verilen ifadeler doğru ise "D" sütununu, yanlış ise "Y" sütununu işaretleyecektir.

Buna göre tablonun son görünümü aşağıdakilerden hangisi olur?

- A)

D	Y
✓	
✓	
	✓

 B)

D	Y
	✓
	✓
✓	
- C)

D	Y
✓	
	✓
✓	

 D)

D	Y
	✓
✓	
	✓

13.



Fındığın kırılmasında kuvvetin hangi etkisi gözlenir?

- A) Yön değiştirici
B) Hızlandırıcı
C) Yavaşlatıcı
D) Şekil değiştirici

14.



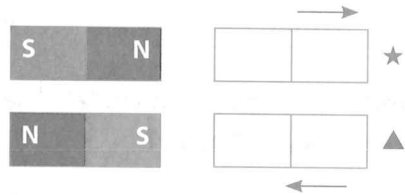
Obezitenin nedenleri nelerdir?

Duygu Öğretmen

Duygu Öğretmen'in tahtaya yazdığı sorunun cevabını, aşağıdaki öğrencilerden hangisi vermiştir?

- A) Berk: Obezite, yenilen meyvelerin vücutta yağa dönüşmesidir.
B) Canan: Obezite kişilerin çok spor yapmalarından kaynaklanır.
C) Taner: Dengesiz beslenme, hareketsiz yaşam tarzı, aşırı besin tüketimi obezite nedenidir.
D) Hale: Obezite, sağlıklı bir yaşam için vücuda yeteri kadar besin almaktır.

15.



Yukarıdaki ★ ve ▲ mıknatısları, sabit mıknatısların etkisiyle ok yönünde hareket etmektedir.

Buna göre, ★ ve ▲ mıknatıslarının kutupları nasıl olmalıdır?

- A)

N	S
---	---

N	S
---	---
- B)

S	N
---	---

N	S
---	---
- C)

N	S
---	---

S	N
---	---
- D)

S	N
---	---

S	N
---	---

Fen Bilimleri testi bitti.
İngilizce testine geçiniz

1.

Murat's likes and dislikes	
	
playing table tennis	watching cartoons
reading books	playing marbles
playing basketball	drawing picture

Murat, hangi etkinlikten hoşlanmıyor?

A)



B)



C)



D)



2. **Mary** : What time is it, mum?


Mother : _____. Time for school.

Mary : OK, I'm coming.

Boş bırakılan yere hangi ifade getirilemez?

- A) It's seven a.m. B) It is eight a.m.
C) It is one p.m. D) It is ten p.m.


3.



What time is it?

- A) It is two a.m.
B) It is twelve o'clock.
C) It is two p.m.
D) It is twelve p.m.

4.



Aşağıdakilerden hangisi yanlıştır?

- A) Kevin is from France.
B) Lisa is from America.
C) Frank is from Germany.
D) Helen is from Russia.

5.




This is Mary. This is her kite. She can fly a kite.

Hangi sorunun cevabı metinde yoktur?

- A) Whose kite is this?
B) What is her name?
C) What can she do?
D) What is her favorite cartoon?

6.



Görsele göre hangi ifade doğrudur?

- A) He can't ride a horse.
B) He can ride a horse, but he can't drive a car.
C) He can drive a car, but he can't ride a horse.
D) He can drive a car.

7.



Serap'ın hangi eşyası eksiktir?

- A) ruler
B) pencil
C) pencil sharpener
D) eraser

8. **Martin** : Hello, Emily. How are you?

Emily : Hi, Martin. I'm fine. You?

Martin : I'm fine, thanks. What do you do in the evening?

Emily : _____.

Boş bırakılan yere hangi ifade getirilemez?





- A) I brush my teeth
B) I wake up early
C) I have dinner
D) I read a book

9.

Susan's hobbies

- planting a tree
- playing chess
- swimming

Aşağıdakilerden hangisi Susan'ın hobbilerinden biridir?

- A)  B) 
- C)  D) 

10.



Hangi ifade yukarıdaki görsellerden biri ile eşleşmez?

- A) I go home.
B) I go to school.
C) I go to bed.
D) I have breakfast.

AD SOYAD >>		Türkçe				Matematik				Hayat Bil. / Sosyal Bil.				Fen Bilimleri				İngilizce								
Ö.No		Soru	A	B	C	D	Soru	A	B	C	D	Soru	A	B	C	D	Soru	A	B	C	D	Soru	A	B	C	D
0		1					1					1					1					1				
1		2					2					2					2					2				
2		3					3					3					3					3				
3		4					4					4					4					4				
4		5					5					5					5					5				
5		6					6					6					6					6				
6		7					7					7					7					7				
7		8					8					8					8					8				
8		9					9					9					9					9				
9		10					10					10					10					10				
		11					11					11					11					11				
		12					12					12					12					12				
		13					13					13					13					13				
		14					14					14					14					14				
		15					15					15					15					15				

Test bitti. Cevaplarınızı kontrol ediniz.

CEVAP ANAHTARI

4. DENEME															
TÜRKÇE	C	B	A	D	C	A	D	B	C	D	B	A	B	C	D
MATEMATİK	B	A	C	C	D	A	B	C	D	A	B	C	D	A	B
SOSYAL BİLGİLER	A	B	C	D	B	A	D	A	B	C	C	A	D	B	C
FEN BİLİMLERİ	C	A	D	B	C	A	D	B	C	B	A	C	D	C	A
İNGİLİZCE	C	D	A	B	D	B	A	B	B	A					
Soru No.	1	2	3	4	5	6	7	8	9	10	11	12	13	14	15