

ŞAMPİYONLARIN OKULU

SANCAKTEPE
ABDURRAHMANGAZİ PROJE
İMAM HATİP ORTAOKULU

10 MART 2024

OKUL KABUL SINAVI

4. SINIF KIZ ÖĞRENCİLER



HAFIZLIK
EĞİTİMİ

(SENE KAYBI OLMADAN
OKULLA BİRLİKTE HAFIZLIK)

HEDEF
LGS

(SINAVA PROFESYONEL
HAZIRLIK EĞİTİMİ)



ROBOTİK
KODLAMA
3D TASARIM
EĞİTİMİ

YOĞUNLAŞTIRILMIŞ
YABANCI DİL
(İNGİLİZCE) EĞİTİMİ



Başvuru için okutunuz

Başvuru Tarihleri: 05 OCAK 2024 - 8 MART 2024

Sınav Tarihi: 10 MART 2024 PAZAR **Sınav Saati:** 10:00

Sınav Yeri: Abdurrahmangazi İmam Hatip Ortaokulu

Açık Adres: Abdurrahmangazi Mh. Abdurrahman Gazi Cd.
Güzelbahçe Sk. No:2 Samandıra - Sancaktepe / İSTANBUL

Sınav Başvurusu İçin;

☎ 0216 311 20 31 - 0541 826 78 43 [✉ abdurrahmangaziho.meb.k12.tr](mailto:abdurrahmangaziho.meb.k12.tr)

Adayların velilerinin internet başvuru sonrası
onay için okula gelmeleri gerekmektedir.



**TÜRKİYE
2023 LGS
BİRİNCİSİ
OKULUMUZ ÖĞRENCİSİDİR**

[Instagram](https://www.instagram.com/abdurrahmangaziho) /abdurrahmangaziho
[Facebook](https://www.facebook.com/abdurrahmangaziho) /abdurrahmangaziho
[TikTok](https://www.tiktok.com/@sagiho2015) @sagiho2015

Soru Sayısı : 70

Sınav Süresi : 80 Dakika

Adı ve Soyadı :

Sınıfı :

Numarası:



3005

TÜRKÇE TESTİ

1 ve 2. soruları aşağıdaki metne göre cevaplayınız.

Çekirgelerin vücutları sert bir kabukla kaplıdır. Çekirgeler, bu kabukta bulunan özel delikler sayesinde hava alır. Çekirgelerin kulakları yoktur ancak sesleri, "timpanal organ" adı verilen özel bir organ aracılığıyla algılar. Bu organ bazı çekirgelerde karın altında yer alırken bazılarında ön bacaklarda bulunur. Çekirgelerin başlarının üzerinde iki anten vardır. Bu antenler, tıpkı bir burun gibi görev yapar. Ancak yalnızca kokuları değil; titreşimleri, nemi, rüzgârın hızını ve yönünü de algırlar.

1. **Bu metne göre çekirgeler nasıl hava alır?**

- A) Başlarının üzerindeki antenlerden
- B) Ön bacaklarındaki organdan
- C) Vücutlarındaki kabukların deliklerinden
- D) Başlarındaki burunlarının deliklerinden

2. **Bu metinde aşağıdakilerin hangisine değinilmemiştir?**

- A) Çekirgelerin kulaklarının olmadığına
- B) Çekirgelerin ne ile beslendiğine
- C) Çekirgelerin vücutlarının sert bir kabukla kaplı olduğuna
- D) Çekirgelerin başlarındaki antenlerin burun görevi gördüğüne

3. • İstanbul () Ankara () İzmir ve Bursa Türkiye'nin en kalabalık şehirleridir.
- Yaşasın, yarın hep birlikte sinemaya gideceğiz ()
- Abdullah koşarak sınıfa girdi ()
- Boş zamanlarında kitap okuyor musun ()

Bu cümlelerde yay ayraçlarla () gösterilen yerlerden herhangi birine aşağıdaki noktalama işaretlerinden hangisi getirilemez?

- A) (...)
- B) (!)
- C) (?)
- D) (.)

4. Ayrı yazılan "de" cümleden çıkarıldığında cümlelerin anlamı bozulmaz. Ek olan "-de" ise cümleden çıkarıldığında cümlelerin anlamı bozulur.

Buna göre aşağıdaki cümlelerin hangisinde "de"nin yazımıyla ilgili yanlışlık yapılmıştır?

- A) Sinem de bizimle tiyatroya gelecek.
- B) Çatıda tam beş tane kiremit kırık.
- C) Sen de beni bırakıp gitme.
- D) Çantasın da kalemi var.

5. Aşağıdaki cümlelerin hangisinde "ki" nin yazımıyla ilgili bir yanlışlık yapılmıştır?

- A) Kardeşim öyle tatlıki anlatamam.
- B) Duvardaki saatin pili bitmiş.
- C) Evde ki lambaların hepsi yanıyor.
- D) O kadar sıkıldımki buradan gideceğim.

6. Plastik, çeşitli renklerde üretilebilen, hafif olduğu kadar da dayanıklı bir malzemedir. Ucuz oluşu nedeniyle günümüzde bardaktan sandalyeye, kalemdeyinceye kadar çok çeşitli ürünlerin üretiminde kullanılır. Plastikğin ana maddesi petroldür. Petrol, kazı yapılarak yer altından çıkarılır. Petrol ilk çıkarıldığında koyu renkli ve çok yoğundur, bu hâline ham petrol adı verilir. Kuyulardan çıkarılan ham petrol, arıtma tesislerinde işlenerek içinde bulunan malzemelerin ağırlığına göre ayrıştırılır. Petrolün en hafif bölümü alınarak plastik üretiminde kullanılır.

Bu metne getirilebilecek en uygun başlık aşağıdakilerden hangisidir?

- A) Petrol Üretimi
- B) Plastikğin Geri Dönüşümü
- C) Plastik Üretimi
- D) Petrolün Ana Maddesi

7. ★ En sonunda da, dev makaralara sarılır. Kâğıt satışa sunulmadan önce özel makinelerde bu geniş tabakaların uygun boyutlarda kesilmesi ve paketlenmesi yapılır. Fabrikalarda üretilen kâğıdın çoğu, kitap ve gazete basımında, defter üretiminde kullanılır.

▲ Kâğıt, yaşantımızda önemli yer tutan malzemelerden biridir. Kâğıdın ana malzemesinin ağaç olduğunu hepimiz biliriz. Kâğıt fabrikasına getirilen ağaç gövdeleri öncelikle küçük parçalar hâlinde kesilir.

● Ağaç parçaları, su ve bazı kimyasal maddelerle karıştırılarak hamura benzeyen sulu bir karışım hazırlanır. Bu karışım, yürüyen bir bandın üzerine dökülür. Karışımın içindeki su, bandın üzerindeki minik deliklerden süzülerek akar. Geriye uzun ve ıslak bir kâğıt tabakası kalır. Bu ıslak tabaka, sıcak silindire yardımıyla düzleştirilerek kurutulur.

★, ▲ ve ● sembolleriyle belirtilen paragraflar bir bilgilendirici metnin giriş, gelişme ve sonuç bölümleridir.

Buna göre, aşağıdakilerin hangisinde giriş, gelişme ve sonuç bölümleri sembollerle doğru gösterilmiştir?

	Giriş	Gelişme	Sonuç
A)	●	★	▲
B)	★	▲	●
C)	▲	★	●
D)	▲	●	★

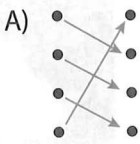
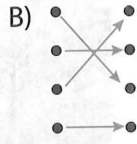
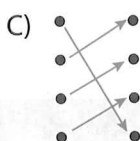
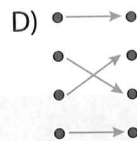
8. Aşağıdaki cümlelerin hangisinde mecaz anlamda kullanılan bir sözcük yoktur?

- A) Annem bana yeni bir oyuncak aldı.
 B) Galiba Sezen'in kalbini kırdım.
 C) Baba boş işlerle uğraşan oğluna köpürdü.
 D) Bana hediye alman çok ince bir davranıştır.

9.

TENCERE	● ●	Kar veya buz üzerinde kayarak yol alan tekerleksiz taşıt.
OKLAVA	● ●	Hamur açmakta kullanılan silindir biçiminde uzunca ince değnek.
KIZAK	● ●	İçinde yemek pişirilen kapaklı, genellikle metal kap.
PERDE	● ●	Görüşü, ışığı engellemek, bir şeyi gizlemek için pencereye veya bir açıklığın önüne gerilen örtü.

Bu kelimeler ile kelimelerin anlamlarının eşleştirilmesi aşağıdakilerin hangisinde doğru verilmiştir?

- A) 
- B) 
- C) 
- D) 

10. Aşağıda verilen sözcüklerin zıt anlamlılarını bulmacanın kareleri içine soldan sağa doğru yazınız.

1	TAZE	2	EVET	3	DOST
4	BARIŞ	5	CİMRİ		

1									
2									
3									
4									
5									

Bulmacada okla gösterilen sütunda yer alan kelime aşağıdakilerin hangisinde verilmiştir?

- A) ALICI
 B) ÖNDER
 C) YAŞAM
 D) HEKİM

11. (1) Bugün arkadaşlarımla birlikte parkta oynamaya gittik. (2) Yanımıza top ve ip de aldık. (3) Oyun oynarken parktaki salıncaklar ve tahterevalliler de bize eşlik ettiler. (4) Öyle güzel eğlendik ki yarın tekrar gelmek için sözleştik.

Numaralanmış cümlelerin hangisinde hayali öğelere yer verilmiştir?

- A) 4. B) 3. C) 2. D) 1.

12. Aşağıdaki cümlelerin hangisinde virgülün kaldırılması anlamı değiştirmez?

- A) Küçük, ablasına bir öpücük verdi.
 B) O, herkese yardım etmeyi seven biridir.
 C) Çocuk, kıyafetlerini dolaba yerleştirdi.
 D) Hasta, babasının nerede olduğunu merak etti.

13. Aşağıdakilerden hangisi bilgilendirici bir metin değildir?

- A) Bir zamanlar öyle zengin, öyle zengin bir tüccar vardı ki istese bir büyük bir de küçük sokağa sarı liradan kaldırım döşetirdi. Ama öyle şeye yanaşır mı hiç! Altınını daha uygun bir şekilde kullanırdı o. Bir lira kazanacağından emin olmadan bir meteliğini tehlikeye koymazdı. Tam işinin ehli bir tüccardı, öyle de öldü.
- B) Örümcek ağlarının çoğunun değişik desenleri bulunur. Bu desenler çizgilerden, çarpı işaretinden, dairelerden ya da sarmallardan oluşur. Genellikle de örümcek ördüğü her ağı farklı bir desende yapar. Örümcek, gündüzleri genellikle ağının ortasında oturarak avlanır.
- C) İklim, dünya üzerindeki bir bölgenin uzun bir dönem süresince içinde bulunduğu atmosfer koşulları olarak tanımlanıyor. Örneğin, bir kış günü Ankara'da hava ılık ve güneşli olabilir. Ancak, uzun yılların sıcaklık ortalamalarına baktığımızda Ankara'da kışların soğuk ve yağışlı geçtiğini görürüz.
- D) Atmosferdeki belirli gazlar olmasaydı dünyamız, üzerinde yaşam barındırmayacak kadar soğuk olurdu. Gezegenimizde yaşam olmazdı. Bu gazlardan özellikle karbondioksit, Güneş'ten gelen ısıyı yakalayarak uzaya kaçıp yayılmasını engeller. Karbondioksit miktarı dengede olduğundan milyonlarca yıldır dünyamız yaşam için uygun sıcaklıkta bir gezegen.





14. Aşağıdakilerden hangisi karşılaştırma cümlesidir?

- A) Sabahları erken kalkıp kahvaltımı yaparım.
- B) Futbol millî takımımız Avrupa şampiyonasına gidecek.
- C) Babam annemden daha uzun boyludur.
- D) Bugün kırtasyeden kitap aldım.

15.

İki yanında da ağaçların sıralandığı yol önümüzde uzayıp gidiyordu. Gök yüzünde birleşen ağaçların dalları gökyüzünü görmemizi engellese de güneş ışınları sarı ve turuncu yaprakların arasından geçerek yolumuzu aydınlatıyordu.

Bu metinde anlatılan yere ait görsel aşağıdakilerden hangisidir?

- A) 
- B) 
- C) 
- D) 

Türkçe testi bitti.
Matematik testine geçiniz.

1.

$$\begin{array}{r} 296 \\ \times 78 \\ \hline \end{array}$$

Bu çarpma işleminde çarpım aşağıdakilerden hangisidir?

- A) 23 058 B) 23 088
C) 23 168 D) 23 178

2. Aşağıdaki çarpma işlemlerinden hangisinin sonucu diğerlerinden farklıdır?

- A) $74 \times (82 \times 56)$
B) $56 \times (74 \times 82)$
C) $(82 \times 56) \times 74$
D) $(64 \times 72) \times 58$

3.

İşlem	Tahmini Sonuç	İşlem Sonucu	Fark
$\begin{array}{r} 86 \\ \times 4 \\ \hline \end{array}$	★	▲	●

Verilen tablo tamamlandığında ★, ▲ ve ● sembollerinin yerine aşağıdakilerden hangisi yazılamaz?

- A) 360 B) 344
C) 256 D) 16

4.

Aşağıda verilen kısa yoldan çarpma işlemlerinden hangisinde yanlışlık yapılmıştır?

- A) $44 \times 5 = ?$ B) $78 \times 25 = ?$
 $44 \div 2 = 22$ $78 \div 2 = 39$
 $22 \times 10 = 220$ $39 \times 10 = 390$
C) $84 \times 25 = ?$ D) $12 \times 50 = ?$
 $84 \div 4 = 21$ $12 \div 2 = 6$
 $21 \times 100 = 2100$ $6 \times 100 = 600$

5.

Bir giyim mağazasında gün içinde tanesi 48 ₺ olan kazaklardan 12 tane, tanesi 36 ₺ olan gömleklerden 23 tane satılmıştır.

Bu satışlar sonunda giyim mağazası toplam kaç lira elde etmiştir?

- A) 1404 B) 1505
C) 1564 D) 1615

6.

Bölünen	: 448
Bölen	: 6
Bölüm	: ★
Kalan	: ▲

Bir bölme işleminin terimleri yukarıda verilmiştir.

Bu bölme işleminde sembollerle gösterilen yerlere hangi seçenektekiler yazılmalıdır?

- A) $\frac{\star}{66}$ $\frac{\blacktriangle}{2}$
B) $\frac{\star}{72}$ $\frac{\blacktriangle}{0}$
C) $\frac{\star}{74}$ $\frac{\blacktriangle}{4}$
D) $\frac{\star}{75}$ $\frac{\blacktriangle}{1}$

7.

$$\begin{array}{r}
 678 \quad | \quad 14 \\
 - 56 \quad | \quad 48 \\
 \hline
 118 \\
 - 112 \\
 \hline
 006
 \end{array}$$

Bu bölme işleminin doğruluğunu kontrol etmek için aşağıdaki işlemlerden hangisi yapılmalıdır?

- A) $(6 \times 48) + 14$
 B) $(14 \times 48) - 6$
 C) $(14 \times 6) + 48$
 D) $(48 \times 14) + 6$

9. 935 kilogram pirinç, beş kilogramlık torbalara doldurulacaktır.

Buna göre pirinçleri doldurmak için kaç tane torbaya ihtiyaç vardır?

- A) 156
 B) 187
 C) 195
 D) 197

10.

$$28 - 4 = 6 \times \star$$

Verilen eşitlikte " \star " yerine aşağıdakilerden hangisi yazılmalıdır?

- A) 8
 B) 6
 C) 4
 D) 2

8.

- I. $6790 \div 10 = 679$
 II. $46000 \div 1000 = 46$
 III. $31000 \div 100 = 310$
 IV. $6300 \div 10 = 63$

Numaralanmış işlemlerden hangisinin sonucu yanlış bulunmuştur?

- A) IV. B) III. C) II. D) I.

11. Aşağıdaki sayılardan hangisinin en yakın olduğu yüzlük doğru verilmiştir?

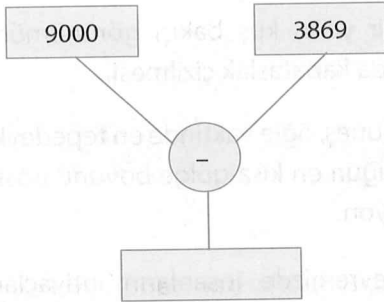
- A) 1250 \rightarrow 1300
 B) 1137 \rightarrow 1200
 C) 975 \rightarrow 900
 D) 1319 \rightarrow 1400

12. $14\ 954 > 14\ 763 > A > 14\ 514 > 14\ 128$

sıralamasının doğru olabilmesi için "A" yerine aşağıdaki sayılardan hangisi yazılabilir?

- A) 14 866 B) 14 791
C) 14 607 D) 14 243

13.



Bu şemadaki işlem doğru yapıldığında boş kutuya aşağıdakilerden hangisi yazılır?

- A) 5131 B) 5031
C) 4932 D) 4903

14. Hanife Hanım her gün bir kenar uzunluğu 150 m olan kare şeklindeki bir parkın etrafında 2850 m yürüyor.

Parkın etrafında dört tur yürüyen Hanife Hanım'ın 2850 metreyi tamamlaması için kaç metre daha yürümesi gerekir?

- A) 400 B) 450
C) 475 D) 500

15.

$1712 + 4854 > A$

Bu ifadenin doğru olabilmesi için A yerine yazılabilecek en büyük sayı aşağıdakilerden hangisidir?

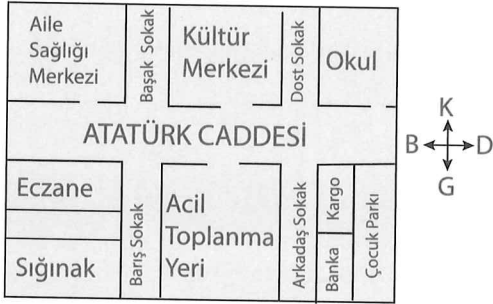
- A) 6578 B) 6570
C) 6567 D) 6565

Matematik testi bitti.
Sosyal Bilgiler testine geçiniz.

1. Yön bulmak için aşağıdakilerin hangisinden yararlanılmaz?

- A) Ağaç ve taşların yosun tutan tarafından
- B) Karınca yuvalarının giriş yerinden
- C) Güneş'in gün içindeki konumundan
- D) Ormandaki ağaçların gölge boylarından

2. Aşağıda bir yerleşim yerinin krokiği verilmiştir.



Bu krokiye göre,

- ▲ Aile sağlığı merkezi, kültür merkezinin batısındadır.
- Okuldan çıkarak acil toplanma yerine ulaşmak isteyen bir kişi Atatürk Caddesi'nden batı yönünde ilerledikten sonra güneye dönmelidir.
- Sığınak, krokinin güneydoğusundadır.
- ★ Çocuk parkı, banka ve kargonun doğusundadır.

bilgilerinden hangisi yanlıştır?


- A) ▲
- B) ●
- C) ★
- D) ■

- 3.
- Dört ana yönden kuzey karşıtı olan yöne ____ denir.
 - Güneş'in doğduğu ana yöne ____ denir.
 - Kuzey ile doğu arasındaki ara yöne ____ denir.

Bu cümleleri aşağıdaki sözcüklerden uygun olanlar ile tamamladığımızda hangi sözcük açıkta kalır?

- A) kuzeydoğu
- B) doğu
- C) ara yön
- D) güney

4. Aşağıdakilerden hangisi doğal unsurlara örnektir?



5. Bir yerin kuş bakışı görünümünün kâğıda kabataslak çizilmesi.

Güneş, öğle vaktinde en tepedeyken çubuğun en kısa gölge boyunu gösterdiği yön.

Çevremizde insanların ihtiyaçlarını karşılamak için oluşturduğu unsurlar.

Bu ifadelerle aşağıdaki kavramlar eşleştirildiğinde hangi kavram açıkta kalır?

- A) Pusula
- B) Kroki
- C) Beşerî unsur
- D) Kuzey

6.

Semboller	Doğal Unsur	Beşerî Unsur
☼	Ev	Dağ
☀	Göl	Park
◇	Tünel	Yol
📐	Deniz	Akarsu

Tabloda sembollerle gösterilen doğal ve beşerî unsur eşleştirmelerinden hangisi doğrudur?

- A) ☼ B) ☀ C) ◇ D) 📐

7.

P. tesi	Salı	Çarş.	Perş.	Cuma	C.tesi	Pazar
☀	☀	☁	☀	☀	☁	☁

Doğan bu tabloda, yaşadığı şehrin bir haftalık hava durumunu simgelerle göstermiştir.

Buna göre aşağıdaki ifadelerden hangisi yanlıştır?

- A) Hafta boyunca güneşli gün sayısı ikidir.
 B) Çarşamba günü hava yağmurludur.
 C) Pazar günü hava parçalı bulutludur.
 D) Cumartesi günü hava bulutludur.

8.

Kırk dokuz yıl bu yollarda
 Ovada dağda çöllerde
 Düşmüşüm gurbet ellerde
 Gidiyorum gündüz gece
 Âşık Veysel

Bu şiirde aşağıdaki coğrafi terimlerin hangisinden söz edilmemiştir?

- A) Nehir B) Ova
 C) Çöl D) Dağ

9. **Aşağıdakilerden hangisi Meteoroloji İşleri Genel Müdürlüğü'nün başlıca görevlerinden biri değildir?**

- A) Tarımsal faaliyetlerde bulunanlara yardımcı olmak
 B) Hava olayları sonucunda tarlaları zarar görenlere destek olmak
 C) Türk hava sahasında uçan yerli ve yabancı hava araçlarına meteorolojik bilgi desteği vermek
 D) Hava olaylarından kaynaklanabilecek doğal afetlere karşı halkı ve yetkilileri uyarmak

ATA YAYINCILIK

10.



Verilen Türkiye haritasına bakılarak aşağıdaki bilgilerden hangisine ulaşamaz?

- A) Yaşadığımız ilin sınırlarına
 B) Yaşadığımız ile komşu illere
 C) Yurdumuzun üç tarafını çevreleyen denizlere
 D) Yurdumuzun en yüksek dağığının adına

DİN KÜLTÜRÜ VE AHLAK BİLGİSİ DERSİNİ OKUYANLAR BU SORULARI CEVAP KÂĞIDININ SOSYAL BİLGİLER (11 - 15) KISMINA İŞARETLEYECEKLERDİR.

11. I. Kelime-i Şehadet Getirmek
II. Kader ve Kazaya İman
III. Kitaplara İman
IV. Namaz Kılmak

Numaralanmış dinî ifadelerden hangileri İslam'ın şartlarındandır?

- A) I ve III. B) I ve IV.
C) II ve III. D) III. ve IV.

12. "Lâilâhe illallah Muhammedün Resulullah" **sözü aşağıdakilerden hangisidir?**

- A) Kelime-i Şehadet
B) Salavat
C) Kelime-i Tevhid
D) Teşrik tekbiri

13. "Allahu ekber Allahu ekber, Lâ ilâhe illallahu vallahu ekber. Allahu ekber ve lillahî'l-hamd"

Bu söz aşağıdakilerden hangisidir?

- A) Kelime-i Tevhid
B) Besmele
C) Kelime-i Şehadet
D) Teşrik tekbiri

14. "Ben kabul ederim ki Allah'tan başka ilâh yoktur. Yine kabul ederim ki Hz. Muhammed Allah'ın kulu ve resulüdür."

Bu açıklama aşağıdakilerden hangisine aittir?

- A) Eşhedü en lâ ilâhe illallah ve eşhedü enne Muhammeden abduhû ve resûluh
B) Eûzübillâhimineşşeytânirracîm, Bismillâhirramânirrahîm
C) Sübhâneke Allâhümme. Ve bi hamdik. Ve tebâra kesmük. Ve teâlâ ceddük. Ve celle senâük. Ve lâ ilâhe ğayruk.
D) Lâilâhe illallah Muhammedün Resulullah

15. Peygamberimiz Hz. Muhammed'e (s.a.v.) duyulan sevgiyi ve saygıyı göstermek için kullanılan dua ifadelerine _____ denir.

Bu cümlede boş bırakılan yere aşağıdakilerden hangisi yazılmalıdır?

- A) elhamdülillah
B) salavat
C) sübhanallah
D) hamd olsun

DİN KÜLTÜRÜ VE AHLAK BİLGİSİ DERSİNİ OKUMAYANLAR BU SORULARI CEVAP KAĞIDININ SOSYAL BİLGİLER (11 - 15) KISMINA İŞARETLEYECEKLERDİR.

11. Millî Mücadele Dönemi ile ilgili aşağıdaki ifadelerden hangisi yanlıştır?

- A) Mondros Ateşkes Antlaşması'ndan sonra başlayan işgal hareketlerine karşı direnişe geçen birliklere Kuvayı-millîye adı verildi.
- B) Millî Mücadele'de Güney Cephesinde Yunanların işgaline karşı savaşılmıştır.
- C) Mustafa Kemal 19 Mayıs 1919'da Samsun'a giderek Millî Mücadele'yi başlattı.
- D) Millî Mücadele'de milletimiz; askeri, yaşlısı, genci, kadını ve çocuğu el ele büyük fedakârlık ve vatanseverlik örneği göstermiştir.

12. **Cemil:** Kişilerin bireysel özellikleri, fiziksel ve duygusal özellikleri ne denli farklı olursa olsun her insan değerlidir.

Ezgi: İnsanların farklılıklarını toplum olarak iyi gözlemlemeli, ortak duygularda bir araya gelmeliyiz.

Turan: Engelli ve toplumsal desteğe ihtiyacı olan bireylere yardım etmek amacıyla kurulmuş resmî kurumlara ve sivil toplum kuruluşlarına destek olmalıyız.

Fatma: Herkes kendi düşüncesinin doğruluğunu başkalarına zorla kabul ettirmelidir.

Buna göre, hangi öğrencinin söylediği ifade yanlıştır?

- A) Cemil
- B) Turan
- C) Fatma
- D) Ezgi

13. 24 Temmuz 1923'te imzalanan bu antlaşma ile Türkiye'nin sınırları belirlendi. Bu antlaşma ile tüm dünya yeni kurulan Türk devletinin varlığını ve bağımsızlığını tanıdı.

Buna göre bu antlaşma aşağıdakilerden hangisidir?

- A) Gümrü Antlaşması
- B) Mudanya Ateşkes Antlaşması
- C) Ankara Antlaşması
- D) Lozan Barış Antlaşması

14.



Verilen nüfus cüzdanından Atatürk ile ilgili aşağıdaki bilgilerden hangisine ulaşamayız?

- A) T.C. kimlik numarasına
- B) Doğum yerine
- C) Doğum tarihine
- D) Baba adına

15. **Yasin'in hayatındaki olaylar kronolojik sıraya koyulduğunda, aşağıdakilerden hangisi sıralamanın sonunda yer alır?**

- A) 1. sınıfa başladığında kardeşinin doğması
- B) İlkokul 4. sınıfa, babasının işi dolayısıyla başka şehirde başlaması
- C) 2. sınıftayken okullar arası resim yarışmasında 1. olması
- D) 3. sınıftayken basketbol takımının kaptanı olması

Sosyal Bilgiler testi bitti.
Fen Bilimleri testine geçiniz.

1. **Samet:** Aile ekonomisine zarar verir.
Bariş: Kalp ve damar hastalıklarına yol açar.
Eylül: İçinde bağımlılık yapan maddeler vardır.
Melek: Kullanımı alkol kadar yaygın değildir.
Bu öğrencilerden hangisi sigara ile ilgili yanlış bir bilgi vermiştir?
- A) Melek B) Samet
 C) Eylül D) Bariş

2. **Alkol ile ilgili aşağıdakilerden hangisi doğrudur?**
- A) Beyni ve sinirleri etkilemez.
 B) Karaciğer kanserine ve siroza neden olur.
 C) Unutkanlığı önler.
 D) Kalbin çalışma düzenine iyi gelir.

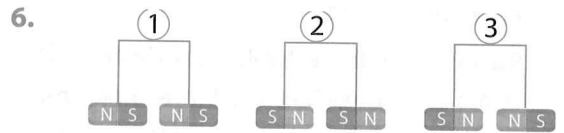
3. "Bir cisme uygulanan kuvvet; cismin hareketi yönündeyse cisim **★**, cismin hareket yönüne ters yönde ise cisim **▲**." cümlesinde sembollerle gösterilen yerlere aşağıdakilerden hangisi getirilmelidir?

	★	▲
A)	hızlanır	hızlanır
B)	yavaşlar	hızlanır
C)	hızlanır	yavaşlar
D)	yavaşlar	durur

4. **Aşağıdaki görsellerin hangisindeki durum kuvvetin yön değiştirici etkisine örnektir?**



5. **Aşağıdakilerden hangisi kuvvetin cisimler üzerindeki etkilerinden biri değildir?**
- A) Cisimlerde hâl değişikliğine neden olma
 B) Cisimlerin şeklini değiştirme
 C) Cisimlerin yönünü değiştirme
 D) Cisimleri harekete geçirerek hızlandırma



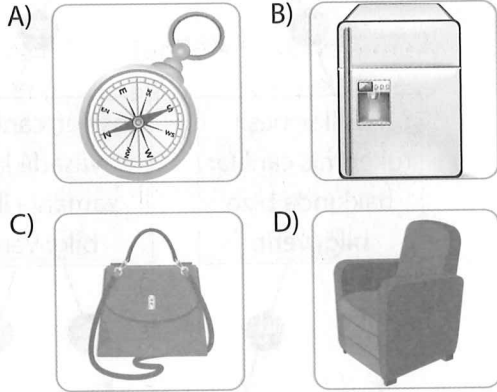
Numaralanmış mıknatıs çiftlerinin birbirlerini itme-çekme durumları aşağıdakilerin hangisinde doğru verilmiştir?

	1	2	3
A)	itme	itme	itme
B)	çekme	çekme	itme
C)	itme	çekme	itme
D)	çekme	itme	çekme

7. **Mıknatıslarla ilgili aşağıdaki bilgilerden hangisi yanlıştır?**

- A) Bir mıknatısın, çekme özelliğinin en güçlü hissedildiği bölgeler mıknatısın uç kısımlarıdır.
- B) Her mıknatıs kuzey (N), güney (S) olmak üzere iki kutba sahiptir.
- C) Mıknatısın aynı kutupları birbirini çekerken farklı kutupları birbirini iter.
- D) Bir mıknatıs ne kadar çok parçaya bölünürse bölünsün mıknatıslık özelliğini kaybetmez.

8. **Aşağıda görselleri verilen cisimlerin hangisinde mıknatıs kullanılmaz?**



9. I. Dünya'mızın şekli küre biçimindedir.
 II. Dünya, Güneş etrafında dolanmasaydı dört mevsim oluşmazdı.
 III. Dünya, kendi etrafındaki dönüşünü 365 günde tamamlar.
 IV. Bir gün 12 saattir.

Numaralanmış ifadelerden hangileri doğrudur?

- A) I ve II. B) I ve III.
 C) II ve III. D) III ve IV.

10. Dondurulmuş gıdalar çözüldükten sonra buzdolabına tekrar konarak daha sonra tüketilebilir.
- Paketlenmiş besinlerin son kullanma tarihi çok geçmemiş olanlarını almalıyız.
- TSE (Türk Standartları Enstitüsü) damgası olan paketlenmiş besinleri almayı tercih etmeliyiz.
- Peynir, süt, yoğurt gibi bazı besinler paket içinde bozulmadan ve temiz bir şekilde uzun süre saklanmaktadır.

Yukarıdaki ifadeler doğru ise ifadenin başındaki kutucuğa "D", yanlış ise "Y" yazıldığında kutucukların görünümü hangi seçenekteki gibi olur?

- A)

Y
D
Y
D

 B)

Y
Y
D
D

 C)

D
D
Y
Y

 D)

Y
Y
D
Y

11. **Dengeli ve sağlıklı beslenmek için aşağıdaki beslenme çeşitlerinden hangisine uyulmalıdır?**

- A) Her besin grubundan yeterince yiyerek beslenme
- B) Protein ağırlıklı besinleri yiyerek beslenme
- C) Yağ yönünden zengin olan besinleri yemeyerek beslenme
- D) Sadece karbonhidrat içeren besinleri mümkün olduğunca az yiyerek beslenme

12.

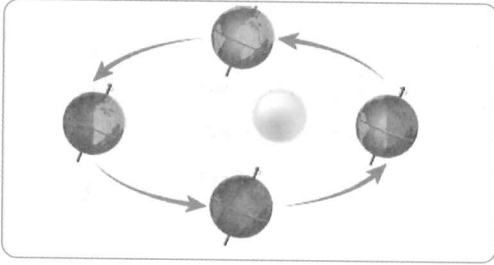
?

Elektrik-elektronikte, inşaatlarda, ulaşımda, kuyumculukta, boya üretiminde, turistik eşya yapımında kullanılır.

Burada kendini tanıtan değerli maden aşağıdakilerden hangisidir?

- A) Krom B) Bor
C) Altın D) Bakır

13. 1. Dünya'nın Güneş etrafındaki hareketi



2. Dünya'nın kendi etrafındaki hareketi



Görsellere göre Dünya'mızın bu hareketlerinin tamamlanma süresi aşağıdakilerin hangisinde doğru verilmiştir?

- | 1 | 2 |
|------------|---------|
| A) 1 yıl | 1 gün |
| B) 1 hafta | 1 ay |
| C) 1 saat | 24 saat |
| D) 1 ay | 365 gün |

14. Madenleri diğer taş ve minerallerden ayıran en önemli özellik aşağıdakilerden hangisidir?

- A) Renklerinin farklı olması
B) Çok parlak olması
C) Doğada az bulunması
D) Pürüzlü olması

15.



Şemada fosillerle ilgili verilen doğru bilgilerde "D" oku, yanlış bilgilerde "Y" oku takip edildiğinde kaçınıcı çıkışa ulaşılır?

- A) 4. Çıkış B) 3. Çıkış
C) 2. Çıkış D) 1. Çıkış


1.



Boş bırakılan yere hangi ifade getirilebilir?

- A) Maybe B) I'm Iraqi
C) I think so D) I'm from Russia

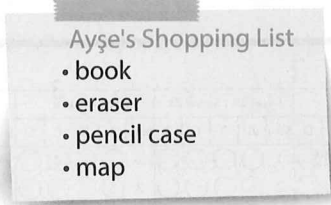
2.







Görsele göre hangi ifade doğru olabilir?

- A) Tina can fly a kite.
B) Peter can ride a bike.
C) Peter can play basketball.
D) Tina can play tennis.

3.



Ayşe hangi eşyayı satın alacaktır?

- A)  B) 
C)  D) 

4.

Hello! I am Superboy. I have super wings and I can fly. I like helping people and animals.

Hangi sorunun cevabı metinde yoktur?

- A) Where is he from?
B) What is his name?
C) What can he do?
D) Is he a super boy?

5. Selinay : Can you play chess?

Burak : _____

Selinay : Can you play chess?





Boş bırakılan yere hangi ifade getirilemez?

- A) Say that again, please.
B) May I sit here?
C) Slowly, please.
D) Pardon me?


6.

Questions	Mary's answers
Do you like planting trees?	No, I don't.
Do you like drawing pictures?	Yes, I do.
Do you like riding a scooter?	Yes, I do.
Do you like swimming?	No, I don't.

Mary, hangi etkinliği yapmaktan hoşlanmıyor?

- A)  B) 
C)  D) 

7.



Boş bırakılan yere hangi kelime getirilemez?

- A) football B) chess
C) comics D) piano

8.

Jason	✓	x	x	✓

Tabloya göre hangi ifade doğrudur?

- A) He can't ride a bike.
B) He can climb a tree.
C) He can drive a car.
D) He can play the piano.

9.



Aşağıdakilerden hangisi bulmacada yoktur?

- A)
- B)
- C)
- D)

10.



Look! Selin can _____ .

Cümleyi tamamlayan ifadeyi işaretleyiniz.

- A) play the piano
B) play the guitar
C) drive a car
D) ride a horse

AD SOYAD >>		Türkçe				Matematik				Hayat Bil. / Sosyal Bil.				Fen Bilimleri				İngilizce							
Soru	A	B	C	D	Soru	A	B	C	D	Soru	A	B	C	D	Soru	A	B	C	D	Soru	A	B	C	D	
0																									
1																									
2																									
3																									
4																									
5																									
6																									
7																									
8																									
9																									
10																									
11																									
12																									
13																									
14																									
15																									

Test bitti. Cevaplarınızı kontrol ediniz.

CEVAP ANAHTARI

3. DENEME															
TÜRKÇE	C	B	A	D	B	C	D	A	B	C	B	B	A	C	D
MATEMATİK	B	D	C	B	A	C	D	A	B	C	A	C	A	B	D
SOSYAL BİLGİLER	D	B	C	D	A	B	C	A	B	D	B	C	D	A	B
FEN BİLİMLERİ	A	B	C	D	A	B	C	D	A	B	A	D	A	C	B
İNGİLİZCE	B	D	C	A	B	D	C	D	A	B					
Soru No.	1	2	3	4	5	6	7	8	9	10	11	12	13	14	15